



Question Paper Preview

Notations :

- Options shown in green color and with  icon are correct.
- Options shown in red color and with  icon are incorrect.

Question Paper Name:	ASSISTANT TEACHER PRIMARY 10th Nov 2018 Shift 2
Subject Name:	ASSISTANT TEACHER PRIMARY
Creation Date:	2018-11-10 15:36:50
Duration:	120
Total Marks:	200
Display Marks:	Yes
Share Answer Key With Delivery Engine:	Yes
Actual Answer Key:	Yes
Calculator:	None
Magnifying Glass Required?:	No
Ruler Required?:	No
Eraser Required?:	No
Scratch Pad Required?:	No
Rough Sketch/Notepad Required?:	No
Protractor Required?:	No
Show Watermark on Console?:	No
Highlighter:	No
Auto Save on Console?:	No

Mental Ability

Group Number :	1
Group Id :	16265321
Group Maximum Duration :	0
Group Minimum Duration :	0
Revisit allowed for view? :	No
Revisit allowed for edit? :	No
Break time:	0
Group Marks:	20
Revisit allowed for group Instructions? :	Yes
Maximum Instruction Time:	0
Minimum Instruction Time:	0

Mental Ability

Section Id :	16265321
Section Number :	1
Section type :	Online
Mandatory or Optional:	Mandatory
Number of Questions:	20
Number of Questions to be attempted:	20
Section Marks:	20

Display Number Panel:

Yes

Group All Questions:

No

Sub-Section Number:

1

Sub-Section Id:

16265328

Question Shuffling Allowed :

Yes

Question Number : 1 Question Id : 162653407 Question Type : MCQ Option Shuffling : Yes Display Question Number : Yes Single Line Question Option : No Option Orientation : Vertical

Correct Marks : 1 Wrong Marks : 0.25

Find the odd one out.

Options :

1. ✖ Lira

2. ✖ Rial

3. ✔ Tokyo

4. ✖ Yuan

Question Number : 1 Question Id : 162653407 Question Type : MCQ Option Shuffling : Yes Display Question Number : Yes Single Line Question Option : No Option Orientation : Vertical

Correct Marks : 1 Wrong Marks : 0.25

निम्नलिखित में से असंगत ज्ञात करें।

Options :

1. ✖ लीरा

2. ✖ रियाल

3. ✔ टोक्यो

4. ✖ युआन

Question Number : 2 Question Id : 162653408 Question Type : MCQ Option Shuffling : Yes Display Question Number : Yes Single Line Question Option : No Option Orientation : Vertical

Correct Marks : 1 Wrong Marks : 0.25

Select the word pair from the option that shares the same relationship as that shared between the words of the given pair.

Camel:Grunt :: _____: _____

Options :

1. ✔ Duck:Quack

2. ✖ Snake:Reptile

3. ✖ Sheep:Flock

4. ✖ Bee:Hive

Question Number : 2 Question Id : 162653408 Question Type : MCQ Option Shuffling : Yes Display Question Number : Yes Single Line Question Option : No Option Orientation : Vertical

Correct Marks : 1 Wrong Marks : 0.25

विकल्पों में से उस शब्द युग्म को चुनें जिनमें वही सम्बन्ध है जो नीचे दिए गए शब्द युग्म में है।

ऊँट:घुरघुर :: _____ : _____

Options :

1. ✔ बत्तख:बत्तख का शब्द (कुवैक)

2. ✖ सांप:रेंगनेवाला जंतु

3. ✖ भेड़:झुण्ड

4. ✖ मधुमक्खी:छत्ता

Question Number : 3 Question Id : 162653409 Question Type : MCQ Option Shuffling : Yes Display Question Number : Yes Single Line Question Option : No Option Orientation : Vertical

Correct Marks : 1 Wrong Marks : 0.25

Find the missing term in the following series.

Z1A, X2D, V6G, T21J, _____, P445P, N2676S

Options :

1. ✖ M38R

2. ✖ R38M

3. ✖ M88R

4. ✔ R88M

Question Number : 3 Question Id : 162653409 Question Type : MCQ Option Shuffling : Yes Display Question Number : Yes Single Line Question Option : No Option Orientation : Vertical

Correct Marks : 1 Wrong Marks : 0.25

निम्नलिखित श्रृंखलाओं में गायब पद ज्ञात करें।

Z1A, X2D, V6G, T21J, _____, P445P, N2676S

Options :

1. ✖ M38R
2. ✖ R38M
3. ✖ M88R
4. ✔ R88M

Question Number : 4 Question Id : 162653410 Question Type : MCQ Option Shuffling : Yes Display Question Number : Yes Single Line Question Option : No Option Orientation : Vertical

Correct Marks : 1 Wrong Marks : 0.25

When seen through a mirror, a clock seems to be showing time as 2:45. What is the actual time shown by the clock?

Options :

1. ✖ 2:45
2. ✔ 9:15
3. ✖ 3:45
4. ✖ 9:45

Question Number : 4 Question Id : 162653410 Question Type : MCQ Option Shuffling : Yes Display Question Number : Yes Single Line Question Option : No Option Orientation : Vertical

Correct Marks : 1 Wrong Marks : 0.25

दर्पण के माध्यम से देखने पर एक घड़ी 2:45 समय दर्शाती प्रतीत होती है। घड़ी द्वारा प्रदर्शित वास्तविक समय क्या है?

Options :

1. ✖ 2.45
2. ✔ 9.15
3. ✖ 3.45
4. ✖ 9.45

Question Number : 5 Question Id : 162653411 Question Type : MCQ Option Shuffling : Yes Display Question Number : Yes Single Line Question Option : No Option Orientation : Vertical

Correct Marks : 1 Wrong Marks : 0.25

Introducing a man, Vijay said to Leela, "His mother is the only daughter of your father". How is the man related to Leela?

Options :

1. ✓ Son
2. ✗ Father
3. ✗ Brother
4. ✗ Son-in-law

Question Number : 5 Question Id : 162653411 Question Type : MCQ Option Shuffling : Yes Display Question Number : Yes Single Line Question Option : No Option Orientation : Vertical

Correct Marks : 1 Wrong Marks : 0.25

एक आदमी का परिचय देते हुए विजय ने लीला से कहा, “उसकी माँ आपके पिता की इकलौती बेटी है।” उस आदमी का सम्बन्ध लीला के साथ किस रूप में है?

Options :

1. ✓ पुत्र
2. ✗ पिता
3. ✗ भाई
4. ✗ दामाद

Question Number : 6 Question Id : 162653412 Question Type : MCQ Option Shuffling : Yes Display Question Number : Yes Single Line Question Option : No Option Orientation : Vertical

Correct Marks : 1 Wrong Marks : 0.25

In a certain code language, SQUARE is coded as USWCTG. What would TRIANGLE be coded as in that language?

Options :

1. ✗ VTKCPJNG
2. ✗ VTKCPIMG
3. ✓ VTKCPING
4. ✗ VTKCRING

Question Number : 6 Question Id : 162653412 Question Type : MCQ Option Shuffling : Yes Display Question Number : Yes Single Line Question Option : No Option Orientation : Vertical

Correct Marks : 1 Wrong Marks : 0.25

एक निश्चित कूट भाषा में SQUARE को USWCTG के रूप में कूटबद्ध किया जाता है। उसी भाषा में TRIANGLE के रूप में किस शब्द को कूटबद्ध किया जाएगा?

Options :

1. ✖ VTKCPJNG

2. ✖ VTKCPIMG

3. ✔ VTKCPING

4. ✖ VTKCRING

Question Number : 7 Question Id : 162653413 Question Type : MCQ Option Shuffling : Yes Display Question Number : Yes Single Line Question Option : No Option Orientation : Vertical

Correct Marks : 1 Wrong Marks : 0.25

Read the given statements and conclusions carefully and select which of the conclusions logically follow(s) from the statement(s).

Statements:

Some adults are girls.
Some girls are bold.

Conclusions:

- I. Some adults are not bold.
- II. Some girls are not bold.

Options :

1. ✖ Only conclusion I follows

2. ✖ Only conclusion II follows

3. ✖ Either conclusion I or II follows

4. ✔ Neither conclusion I nor II follows

Question Number : 7 Question Id : 162653413 Question Type : MCQ Option Shuffling : Yes Display Question Number : Yes Single Line Question Option : No Option Orientation : Vertical

Correct Marks : 1 Wrong Marks : 0.25

नीचे दिए गए कथन और निष्कर्षों पर विचार करें और ये ज्ञात करें कि कौन-सा/से निष्कर्ष दिए गए कथन का तर्कपूर्ण रूप से अनुसरण करता है/हैं।

कथन:

कुछ वयस्क लड़कियाँ हैं।
कुछ लड़कियाँ निर्भिक हैं।

निष्कर्ष:

- I. कुछ वयस्क निर्भिक नहीं हैं।
- II. कुछ लड़कियाँ निर्भिक नहीं हैं।

Options :

1. ✖ केवल निष्कर्ष । अनुसरण करता है।
2. ✖ केवल निष्कर्ष ॥ अनुसरण करता है।
3. ✖ या तो निष्कर्ष । या ॥ अनुसरण करता है।
4. ✔ न तो निष्कर्ष । और न ही निष्कर्ष ॥ अनुसरण करता है।

Question Number : 8 Question Id : 162653414 Question Type : MCQ Option Shuffling : Yes Display Question Number : Yes Single Line Question Option : No Option Orientation : Vertical

Correct Marks : 1 Wrong Marks : 0.25

Starting from her house, Neela walked 20 m towards the south. She turned left and walked 30 m more. She then turned left and walked 20 m. She again turned left and walked 40 m and reached the park. How far and in which direction is the park from her house?

Options :

1. ✔ 10 m, west
2. ✖ 10 m, east
3. ✖ 10 m, north
4. ✖ 10 m, south

Question Number : 8 Question Id : 162653414 Question Type : MCQ Option Shuffling : Yes Display Question Number : Yes Single Line Question Option : No Option Orientation : Vertical

Correct Marks : 1 Wrong Marks : 0.25

अपने घर से निकलकर नीला दक्षिण की ओर 20 m चलती है। वह बाएं मुड़ती है और 30 m चलती है। इसके बाद फिर बाएं मुड़ती है और 20 m चलती है। वह फिर बाएं मुड़ती है और 40 m चलकर पार्क में पहुँच जाती है। पार्क उसके घर से कितने दूर और किस दिशा में है?

Options :

1. ✔ 10 m, पश्चिम
2. ✖ 10 m, पूर्व
3. ✖ 10 m, उत्तर
4. ✖ 10 m, दक्षिण

Question Number : 9 Question Id : 162653415 Question Type : MCQ Option Shuffling : Yes Display Question Number : Yes Single Line Question Option : No Option Orientation : Vertical

Correct Marks : 1 Wrong Marks : 0.25

An apple costs ₹ 7. A pineapple costs ₹ 5. Charles spends ₹ 38 on these fruits. The number of apples purchased by him is:

Options :

1. ✖ 3

2. ✔ 4

3. ✖ 5

4. ✖ 6

Question Number : 9 Question Id : 162653415 Question Type : MCQ Option Shuffling : Yes Display Question Number : Yes Single Line Question Option : No Option Orientation : Vertical

Correct Marks : 1 Wrong Marks : 0.25

एक सेब की कीमत ₹ 7 और एक अनन्नास की कीमत ₹ 5 है। चार्ल्स इन फलों पर ₹ 38 खर्च करता है। उसने कितने सेब खरीदे?

Options :

1. ✖ 3

2. ✔ 4

3. ✖ 5

4. ✖ 6

Question Number : 10 Question Id : 162653416 Question Type : MCQ Option Shuffling : Yes Display Question Number : Yes Single Line Question Option : No Option Orientation : Vertical

Correct Marks : 1 Wrong Marks : 0.25

Read the following information carefully and answer the question given below.

$M \times N$ means 'M is the sister of N';

$M \% N$ means 'M is the father of N';

$M \# N$ means 'M is the mother of N';

Which of the following means Y is the aunt of Z?

Options :

1. ✔ $Y \times X \% Z$

2. ✖ $Y \% Z \times X$

3. ✖ $Z \times X \# Y$

4. ✖ $Y \times X \% W \# Z$

Question Number : 10 Question Id : 162653416 Question Type : MCQ Option Shuffling : Yes Display Question Number : Yes
Single Line Question Option : No Option Orientation : Vertical

Correct Marks : 1 Wrong Marks : 0.25

निम्नलिखित जानकारी को ध्यानपूर्वक पढ़ें और नीचे दिए गए प्रश्न का उत्तर दें।

$M \times N$ का अर्थ है 'M, N की बहन है'

$M \% N$ का अर्थ है 'M, N के पिता हैं'.

$M \# N$ का अर्थ है 'M, N की माँ हैं'

निम्न में से किसका अर्थ है कि Y, Z की चाची / काकी / मौसी / मामी हैं?

Options :

1. ☒ $Y \times X \% Z$

2. ☐ $Y \% Z \times X$

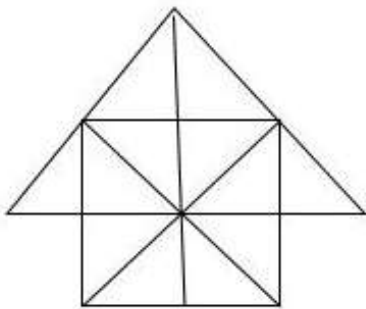
3. ☐ $Z \times X \# Y$

4. ☐ $Y \times X \% W \# Z$

Question Number : 11 Question Id : 162653417 Question Type : MCQ Option Shuffling : Yes Display Question Number : Yes
Single Line Question Option : No Option Orientation : Vertical

Correct Marks : 1 Wrong Marks : 0.25

Find the number of triangles and squares in the following figure.



Options :

1. ☐ 24 triangles, 6 squares

2. ☒ 26 triangles, 6 squares

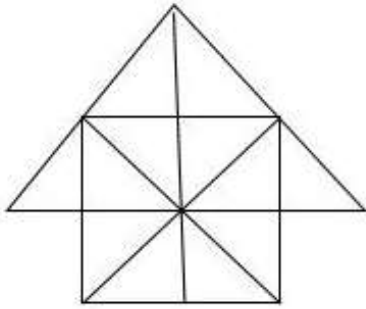
3. ☐ 26 triangles, 8 squares

4. ☐ 28 triangles, 6 squares

Question Number : 11 Question Id : 162653417 Question Type : MCQ Option Shuffling : Yes Display Question Number : Yes
Single Line Question Option : No Option Orientation : Vertical

Correct Marks : 1 Wrong Marks : 0.25

निम्नलिखित चित्र में त्रिभुजों और वर्गों की संख्या ज्ञात करें।



Options :

1. ✖ 24 त्रिभुज, 6 वर्ग
2. ✔ 26 त्रिभुज, 6 वर्ग
3. ✖ 26 त्रिभुज, 8 वर्ग
4. ✖ 28 त्रिभुज, 6 वर्ग

Question Number : 12 Question Id : 162653418 Question Type : MCQ Option Shuffling : Yes Display Question Number : Yes
Single Line Question Option : No Option Orientation : Vertical

Correct Marks : 1 Wrong Marks : 0.25

Ganesh is taller than Sunil but NOT taller than Raja. Raja and Tarun are of the same height. Ganesh is shorter than Anil. Who among them is the shortest?

Options :

1. ✖ Raja
2. ✖ Tarun
3. ✔ Sunil
4. ✖ Ganesh

Question Number : 12 Question Id : 162653418 Question Type : MCQ Option Shuffling : Yes Display Question Number : Yes
Single Line Question Option : No Option Orientation : Vertical

Correct Marks : 1 Wrong Marks : 0.25

गणेश सुनील से लम्बा है लेकिन राजा से लम्बा नहीं। राजा और तरुण की ऊँचाई समान है। गणेश अनिल से छोटा है उनमें सबसे छोटा कौन है?

Options :

1. ✖ राजा
2. ✖ तरुण

3. ✓ सुनील

4. ✗ गणेश

Question Number : 13 Question Id : 162653419 Question Type : MCQ Option Shuffling : Yes Display Question Number : Yes
Single Line Question Option : No Option Orientation : Vertical

Correct Marks : 1 Wrong Marks : 0.25

The total number of digits used in numbering the pages of a book having 366 pages is _____.

Options :

1. ✓ 990

2. ✗ 999

3. ✗ 1080

4. ✗ 1098

Question Number : 13 Question Id : 162653419 Question Type : MCQ Option Shuffling : Yes Display Question Number : Yes
Single Line Question Option : No Option Orientation : Vertical

Correct Marks : 1 Wrong Marks : 0.25

366 पृष्ठ वाली एक पुस्तक के पृष्ठों पर संख्या डालने में प्रयुक्त अंकों की संख्या क्या है?

Options :

1. ✓ 990

2. ✗ 999

3. ✗ 1080

4. ✗ 1098

Question Number : 14 Question Id : 162653420 Question Type : MCQ Option Shuffling : Yes Display Question Number : Yes
Single Line Question Option : No Option Orientation : Vertical

Correct Marks : 1 Wrong Marks : 0.25

What is always associated with 'worry'?

Options :

1. ✓ Unrest

2. ✗ Difficulty

3. ✗ Poignancy

4. ✖ Non-corruption

Question Number : 14 Question Id : 162653420 Question Type : MCQ Option Shuffling : Yes Display Question Number : Yes
Single Line Question Option : No Option Orientation : Vertical
Correct Marks : 1 Wrong Marks : 0.25

‘चिंता’ से हमेशा क्या जुड़ा है?

Options :

1. ✔ बेचैनी

2. ✖ कठिनाई

3. ✖ मारमिकता

4. ✖ गैर-भ्रष्टाचार

Question Number : 15 Question Id : 162653421 Question Type : MCQ Option Shuffling : Yes Display Question Number : Yes
Single Line Question Option : No Option Orientation : Vertical
Correct Marks : 1 Wrong Marks : 0.25

You are given a question and two statements I and II. You have to decide whether the data provided in the statements is sufficient to answer the question.

Question:

What is the shortest distance between Village X and Village Y?

Statements:

I. Village X is 15 km away from Village Z.

II. Village Y is 20 km away from Village Z.

Options :

1. ✖ Data in statement I alone is sufficient to answer the question.

2. ✖ Data in statement II alone is sufficient to answer the question.

3. ✖ Data in either the statement I or statement II alone is sufficient to answer the question.

4. ✔ Data in both the statements I and II is not sufficient to answer the question.

Question Number : 15 Question Id : 162653421 Question Type : MCQ Option Shuffling : Yes Display Question Number : Yes
Single Line Question Option : No Option Orientation : Vertical
Correct Marks : 1 Wrong Marks : 0.25

आपको एक प्रश्न और दो कथन । एवं ॥ दिए गए हैं। आपको यह तय करना है कि क्या कथनों में दिया गया डेटा प्रश्न का उत्तर देने के लिए पर्याप्त है।

प्रश्न:

गाँव X और गाँव Y के बीच निकटतम दूरी क्या है?

कथन:

I. गाँव X गाँव Z से 15 km दूर है।

II. गाँव Y गाँव Z से 20 km दूर है।

Options :

1. ✖ अकेले कथन I में दिया गया डेटा प्रश्न का उत्तर देने के लिए पर्याप्त है।
2. ✖ अकेले कथन II में दिया गया डेटा प्रश्न का उत्तर देने के लिए पर्याप्त है।
3. ✖ अकेले या तो कथन I या कथन II में दिया गया डेटा प्रश्न का उत्तर देने के लिए पर्याप्त है।
4. ✔ कथन I और II दोनों में दिए गए डेटा प्रश्न का उत्तर देने के लिए पर्याप्त नहीं हैं।

Question Number : 16 Question Id : 162653422 Question Type : MCQ Option Shuffling : Yes Display Question Number : Yes
Single Line Question Option : No Option Orientation : Vertical

Correct Marks : 1 Wrong Marks : 0.25

A cube is painted green on all its surfaces. If it is cut into 125 smaller cubes of the same size, then how many cubes will have two sides painted in green?

Options :

1. ✖ 24
2. ✔ 36
3. ✖ 42
4. ✖ 48

Question Number : 16 Question Id : 162653422 Question Type : MCQ Option Shuffling : Yes Display Question Number : Yes
Single Line Question Option : No Option Orientation : Vertical

Correct Marks : 1 Wrong Marks : 0.25

एक घन की सभी सतहों को हरा रंग लगाया जाता है। अगर इसे एक ही आकार के 125 छोटे घनों में काटा जाता है, तो कितने घनों के दो पार्श्व हरे होंगे?

Options :

1. ✖ 24
2. ✔ 36

3. ✖ 42

4. ✖ 48

Question Number : 17 Question Id : 162653423 Question Type : MCQ Option Shuffling : Yes Display Question Number : Yes
Single Line Question Option : No Option Orientation : Vertical

Correct Marks : 1 Wrong Marks : 0.25

To be an ideal officer, what should you logically do?

Options :

1. ✔ Present yourself as an example
2. ✖ Organise seminars for your subordinates
3. ✖ Stick to your rules
4. ✖ Be authoritarian in your approach

Question Number : 17 Question Id : 162653423 Question Type : MCQ Option Shuffling : Yes Display Question Number : Yes
Single Line Question Option : No Option Orientation : Vertical

Correct Marks : 1 Wrong Marks : 0.25

एक आदर्श अधिकारी होने के लिए आपको तार्किक रूप में क्या करना चाहिए?

Options :

1. ✔ स्वयं को उदाहरण के रूप में प्रस्तुत करना चाहिए
2. ✖ अपने अधीनस्थों के लिए सेमिनार आयोजित करना चाहिए
3. ✖ अपने नियमों से चिपके रहना चाहिए
4. ✖ अपने दृष्टिकोण में सत्तावादी होना चाहिए

Question Number : 18 Question Id : 162653424 Question Type : MCQ Option Shuffling : Yes Display Question Number : Yes
Single Line Question Option : No Option Orientation : Vertical

Correct Marks : 1 Wrong Marks : 0.25

If '→' stands for '+', '↓' stands for '×', '←' stands for '-', '↑' stands for '+', and '↔' stands for '=', then which of the following statements is CORRECT?

Options :

1. ✖ $3 \downarrow 6 \uparrow 2 \rightarrow 3 \leftarrow 6 \leftrightarrow 5$
2. ✔ $2 \downarrow 5 \leftarrow 6 \rightarrow 2 \leftrightarrow 6$

3. ✖ $7 \leftarrow 43 \uparrow 6 \downarrow 1 \leftrightarrow 4$

4. ✖ $5 \rightarrow 7 \leftarrow 3 \uparrow 2 \leftrightarrow 4$

Question Number : 18 Question Id : 162653424 Question Type : MCQ Option Shuffling : Yes Display Question Number : Yes
Single Line Question Option : No Option Orientation : Vertical

Correct Marks : 1 Wrong Marks : 0.25

अगर \rightarrow का अर्थ है '+', \downarrow का अर्थ है 'x', \leftarrow का अर्थ है '-', \uparrow का अर्थ है ' \div ', और \leftrightarrow का अर्थ है '=', तो निम्नलिखित में से कौन सा कथन सही है?

Options :

1. ✖ $3 \downarrow 6 \uparrow 2 \rightarrow 3 \leftarrow 6 \leftrightarrow 5$

2. ✔ $2 \downarrow 5 \leftarrow 6 \rightarrow 2 \leftrightarrow 6$

3. ✖ $7 \leftarrow 43 \uparrow 6 \downarrow 1 \leftrightarrow 4$

4. ✖ $5 \rightarrow 7 \leftarrow 3 \uparrow 2 \leftrightarrow 4$

Question Number : 19 Question Id : 162653425 Question Type : MCQ Option Shuffling : Yes Display Question Number : Yes
Single Line Question Option : No Option Orientation : Vertical

Correct Marks : 1 Wrong Marks : 0.25

Kumaran is performing yoga with his head down and legs up. His face is towards the west. In which direction will his right hand be?

Options :

1. ✖ East

2. ✖ West

3. ✔ South

4. ✖ North

Question Number : 19 Question Id : 162653425 Question Type : MCQ Option Shuffling : Yes Display Question Number : Yes
Single Line Question Option : No Option Orientation : Vertical

Correct Marks : 1 Wrong Marks : 0.25

कुमारन योग कर रहा है। उसका सिर नीचे और पैर ऊपर है। उसका मुंह पश्चिम दिशा में है। उसका दायाँ हाथ किस दिशा में होगा?

Options :

1. ✖ पूर्व

2. ✖ पश्चिम

3. ✓ दक्षिण

4. ✗ उत्तर

Question Number : 20 Question Id : 162653426 Question Type : MCQ Option Shuffling : Yes Display Question Number : Yes
Single Line Question Option : No Option Orientation : Vertical

Correct Marks : 1 Wrong Marks : 0.25

Find the number that will come next in the below series.

2, 5, 10, 17, 26, 37, 50, 65, 82, _____

Options :

1. ✗ 99

2. ✗ 100

3. ✓ 101

4. ✗ 110

Question Number : 20 Question Id : 162653426 Question Type : MCQ Option Shuffling : Yes Display Question Number : Yes
Single Line Question Option : No Option Orientation : Vertical

Correct Marks : 1 Wrong Marks : 0.25

निम्न श्रृंखला में आगे आने वाली संख्या ज्ञात करें।

2, 5, 10, 17, 26, 37, 50, 65, 82, _____

Options :

1. ✗ 99

2. ✗ 100

3. ✓ 101

4. ✗ 110

General Awareness

Group Number :	2
Group Id :	16265322
Group Maximum Duration :	0
Group Minimum Duration :	0
Revisit allowed for view? :	No
Revisit allowed for edit? :	No
Break time:	0

Group Marks:	20
Revisit allowed for group Instructions? :	Yes
Maximum Instruction Time:	0
Minimum Instruction Time:	0

General Awareness

Section Id :	16265322
Section Number :	1
Section type :	Online
Mandatory or Optional:	Mandatory
Number of Questions:	20
Number of Questions to be attempted:	20
Section Marks:	20
Display Number Panel:	Yes
Group All Questions:	No

Sub-Section Number:	1
Sub-Section Id:	16265329
Question Shuffling Allowed :	Yes

Question Number : 21 Question Id : 162653427 Question Type : MCQ Option Shuffling : Yes Display Question Number : Yes
Single Line Question Option : No Option Orientation : Vertical

Correct Marks : 1 Wrong Marks : 0.25

Which of the following is INCORRECT about the Satyashodak Samaj?

Options :

1. ✖ It was founded by Jyotirao Phule in 1873.
2. ✔ It was established initially in Satara and then in Pune.
3. ✖ Its members took a vow not to consume alcohol.
4. ✖ The Samaj promoted marriages without the involvement of Brahmin priests.

Question Number : 21 Question Id : 162653427 Question Type : MCQ Option Shuffling : Yes Display Question Number : Yes
Single Line Question Option : No Option Orientation : Vertical

Correct Marks : 1 Wrong Marks : 0.25

इनमें से कौन सा सत्यशोधक समाज के बारे में गलत है?

Options :

1. ✖ इसकी स्थापना 1873 में जोतिराव फुले द्वारा की गई थी
2. ✔ इसकी स्थापना प्रारंभ में सातारा और फिर पुणे में की गई थी

3. ✖ इसके सदस्य को शराब का सेवन न करने की शपथ लेनी होती है
4. ✖ समाज ने ब्राह्मण पुजारी की भागीदारी के बिना विवाह को बढ़ावा दिया

Question Number : 22 Question Id : 162653428 Question Type : MCQ Option Shuffling : Yes Display Question Number : Yes
Single Line Question Option : No Option Orientation : Vertical

Correct Marks : 1 Wrong Marks : 0.25

Which statement is true about the Civil Disobedience Movement?

Options :

1. ✖ On 4 April 1930, by picking up a handful of salt, Gandhiji inaugurated the Civil Disobedience Movement
2. ✖ In Tamil Nadu, K. Kelappan, led a salt march from Trichinopoly to Vedaranniyam on the Tanjore coast.
3. ✖ C. Rajagopalachari walked from Calicut to Payannur to break the salt law.
4. ✔ None of the given options

Question Number : 22 Question Id : 162653428 Question Type : MCQ Option Shuffling : Yes Display Question Number : Yes
Single Line Question Option : No Option Orientation : Vertical

Correct Marks : 1 Wrong Marks : 0.25

सविनय अवज्ञा आंदोलन के बारे में कौन सा कथन सत्य है?

Options :

1. ✖ 4 अप्रैल 1930 को एक मुट्ठी नमक उठाकर, गांधीजी ने सविनय अवज्ञा आंदोलन का उद्घाटन किया।
2. ✖ तमिलनाडु में के .केलप्पन ने तंजौर तट पर त्रिचिनोपोलि से वेदरन्नियम तक नमक मार्च का नेतृत्व किया।
3. ✖ सी राजगोपालचारी नमक कानून तोड़ने के लिए कालीकट से पेय्यान्नुर चले गए।
4. ✔ दिए गए विकल्पों में से कोई भी नहीं।

Question Number : 23 Question Id : 162653429 Question Type : MCQ Option Shuffling : Yes Display Question Number : Yes
Single Line Question Option : No Option Orientation : Vertical

Correct Marks : 1 Wrong Marks : 0.25

Which of the following statements is true with reference to a Money Bill?

Options :

1. ✖ The definition of "Money Bill" is given in Article 108 of the Constitution of India

2. ✖

If any question arises whether a Bill is a Money bill or not, the decision of the President of India is final

3. ✔

If any question arises whether a Bill is Money bill or not, the decision of the Speaker of the Lok Sabha remains final

4. ✖

The Rajya Sabha must return the money bill within a period of maximum 2 months

Question Number : 23 Question Id : 162653429 Question Type : MCQ Option Shuffling : Yes Display Question Number : Yes
Single Line Question Option : No Option Orientation : Vertical

Correct Marks : 1 Wrong Marks : 0.25

धन बिल के संदर्भ में निम्नलिखित में से कौन सा कथन सत्य है?

Options :

1. ✖

“धन विधेयक” की परिभाषा भारत के संविधान के अनुच्छेद 108 में दी गई है

2. ✖

यदि कोई सवाल उठता है कि कोई बिल धन विधेयक है या नहीं, तो इस संबंध में भारत के राष्ट्रपति का निर्णय अंतिम होता है

3. ✔

यदि कोई सवाल उठता है कि कोई बिल धन विधेयक है या नहीं, तो लोकसभा के अध्यक्ष का निर्णय अंतिम रहता है

4. ✖

राज्यसभा को अधिकतम 2 महीने की अवधि के भीतर धन विधेयक वापस करना होगा

Question Number : 24 Question Id : 162653430 Question Type : MCQ Option Shuffling : Yes Display Question Number : Yes
Single Line Question Option : No Option Orientation : Vertical

Correct Marks : 1 Wrong Marks : 0.25

When did the Central Cabinet pass a resolution to grant reservation of 50% seats to women in the Panchayats?

Options :

1. ✖

2004

2. ✔

2009

3. ✖

2014

4. ✖

2017

Question Number : 24 Question Id : 162653430 Question Type : MCQ Option Shuffling : Yes Display Question Number : Yes
Single Line Question Option : No Option Orientation : Vertical

Correct Marks : 1 Wrong Marks : 0.25

केंद्रीय मंत्रिमंडल ने पंचायतों में महिलाओं को 50% सीटों के आरक्षण के लिए प्रस्ताव कब पारित किया था?

Options :

1. ✖ 2004

2. ✔ 2009

3. ✖ 2014

4. ✖ 2017

Question Number : 25 Question Id : 162653431 Question Type : MCQ Option Shuffling : Yes Display Question Number : Yes
Single Line Question Option : No Option Orientation : Vertical
Correct Marks : 1 Wrong Marks : 0.25

With regard to the Fundamental Rights, find the INCORRECT option?

Options :

1. ✖ Article 23: Prohibition of traffic in human beings and forced labour

2. ✖ Article 24: Prohibition of employment of children in factories,

3. ✖ Article 27: Freedom as to payment of taxes for promotion of any particular religion

4. ✔ Article 26: Freedom of conscience and free profession, practice and propagation of religion

Question Number : 25 Question Id : 162653431 Question Type : MCQ Option Shuffling : Yes Display Question Number : Yes
Single Line Question Option : No Option Orientation : Vertical
Correct Marks : 1 Wrong Marks : 0.25

मौलिक अधिकारों के संबंध में, गलत विकल्प बताएँ?

Options :

1. ✖ अनुच्छेद 23: मनुष्यों और बलात श्रम में व्यापार का निषेध

2. ✖ अनुच्छेद 24: कारखानों में बच्चों के नियोजन का निषेध

3. ✖ अनुच्छेद 27: किसी विशेष धर्म को बढ़ावा देने के लिए करों के भुगतान में स्वतंत्रता

4. ✔ अनुच्छेद 26: सचेतन और स्वतंत्र पेशे, व्यवसाय और धर्म के प्रसार की स्वतंत्रता

Question Number : 26 Question Id : 162653432 Question Type : MCQ Option Shuffling : Yes Display Question Number : Yes
Single Line Question Option : No Option Orientation : Vertical
Correct Marks : 1 Wrong Marks : 0.25

The right to form assembly, association, and movement is guaranteed to every citizen under _____.

Options :

1. ✖ Article 14

2. ✖ Article 15

3. ✔ Article 19

4. ✖ Article 25

Question Number : 26 Question Id : 162653432 Question Type : MCQ Option Shuffling : Yes Display Question Number : Yes
Single Line Question Option : No Option Orientation : Vertical

Correct Marks : 1 Wrong Marks : 0.25

_____ के तहत प्रत्येक नागरिक को सभा, संघ और आन्दोलन गठित करने का अधिकार है।

Options :

1. ✖ अनुच्छेद 14

2. ✖ अनुच्छेद 15

3. ✔ अनुच्छेद 19

4. ✖ अनुच्छेद 25

Question Number : 27 Question Id : 162653433 Question Type : MCQ Option Shuffling : Yes Display Question Number : Yes
Single Line Question Option : No Option Orientation : Vertical

Correct Marks : 1 Wrong Marks : 0.25

Who has been honoured with the prestigious Rajiv Gandhi Khel Ratna Award in 2017?

Options :

1. ✖ Virat Kohli

2. ✖ PV Sindhu

3. ✔ Sardar Singh

4. ✖ Saina Nehwal

Question Number : 27 Question Id : 162653433 Question Type : MCQ Option Shuffling : Yes Display Question Number : Yes
Single Line Question Option : No Option Orientation : Vertical

Correct Marks : 1 Wrong Marks : 0.25

2017 में प्रतिष्ठित राजीव गांधी खेल रत्न पुरस्कार से किसे सम्मानित किया गया?

Options :

1. ✖ विराट कोहली
2. ✖ पी. वी. सिंधु
3. ✔ सरदार सिंह
4. ✖ साइना नेहवाल

Question Number : 28 Question Id : 162653434 Question Type : MCQ Option Shuffling : Yes Display Question Number : Yes
Single Line Question Option : No Option Orientation : Vertical

Correct Marks : 1 Wrong Marks : 0.25

Which statement is found INCORRECT about Karnam Malleswari?

Options :

1. ✖ She was the first Indian woman to win an Olympic medal
2. ✖ She won the bronze medal in weightlifting game
3. ✖ She won the medal in women's 69 kg category at the Athens Olympics in 2004
4. ✔ She was rewarded with the Arjuna Award for the year of 1994-95

Question Number : 28 Question Id : 162653434 Question Type : MCQ Option Shuffling : Yes Display Question Number : Yes
Single Line Question Option : No Option Orientation : Vertical

Correct Marks : 1 Wrong Marks : 0.25

कर्णम मल्लेश्वरी के बारे में कौन सा कथन गलत है?

Options :

1. ✖ ओलंपिक पदक जीतने वाली वह पहली भारतीय महिला थीं
2. ✖ उन्होंने भारोत्तोलन प्रतियोगिता में कांस्य पदक जीता
3. ✖ उन्होंने 2004 में एथेंस ओलंपिक में महिलाओं की 69 किलोग्राम श्रेणी में पदक जीता
4. ✔ उन्हें 1994-95 के वर्ष के लिए अर्जुन पुरस्कार से पुरस्कृत किया गया था

Question Number : 29 Question Id : 162653435 Question Type : MCQ Option Shuffling : Yes Display Question Number : Yes
Single Line Question Option : No Option Orientation : Vertical

Correct Marks : 1 Wrong Marks : 0.25

Which one the following dance form is NOT considered as a classical dance form?

Options :

1. ✖ Kathak
2. ✖ Manipuri
3. ✖ Andhra Natyam
4. ✔ Bihu

Question Number : 29 Question Id : 162653435 Question Type : MCQ Option Shuffling : Yes Display Question Number : Yes
Single Line Question Option : No Option Orientation : Vertical

Correct Marks : 1 Wrong Marks : 0.25

निम्नलिखित नृत्य फॉर्म को शास्त्रीय नृत्य रूप के रूप में नहीं माना जाता है?

Options :

1. ✖ कथक
2. ✖ मणिपुरी
3. ✖ आंध्र नाट्यम
4. ✔ बिहु

Question Number : 30 Question Id : 162653436 Question Type : MCQ Option Shuffling : Yes Display Question Number : Yes
Single Line Question Option : No Option Orientation : Vertical

Correct Marks : 1 Wrong Marks : 0.25

Which place is NOT included in the list of UNESCO's world heritage cultural sites of India?

Options :

1. ✖ Humayun's Tomb
2. ✖ Mahabodhi Temple Complex of Bodh Gaya
3. ✖ Rock Shelters of Bhimbetka
4. ✔ Dilwara Jain Temple of Mount Abu

Question Number : 30 Question Id : 162653436 Question Type : MCQ Option Shuffling : Yes Display Question Number : Yes
Single Line Question Option : No Option Orientation : Vertical

Correct Marks : 1 Wrong Marks : 0.25

यूनेस्को की विश्व धरोहर सांस्कृतिक स्थलों की सूची में कौन सी जगह शामिल नहीं है?

Options :

1. ✖ हुमायूँ का मकबरा
2. ✖ बोध गया के महाबोधि मंदिर परिसर
3. ✖ भीमबेटका के रॉक आश्रय
4. ✔ माउंट आबू के दिलवाड़ा जैन मंदिर

Question Number : 31 Question Id : 162653437 Question Type : MCQ Option Shuffling : Yes Display Question Number : Yes
Single Line Question Option : No Option Orientation : Vertical

Correct Marks : 1 Wrong Marks : 0.25

Sericulture is related to the production of _____.

Options :

1. ✖ cotton
2. ✔ silk
3. ✖ rubber
4. ✖ sesame

Question Number : 31 Question Id : 162653437 Question Type : MCQ Option Shuffling : Yes Display Question Number : Yes
Single Line Question Option : No Option Orientation : Vertical

Correct Marks : 1 Wrong Marks : 0.25

रेशमकीट पालन _____ के उत्पादन से संबंधित है।

Options :

1. ✖ कपास
2. ✔ रेशम
3. ✖ रबड़
4. ✖ तिल:

Question Number : 32 Question Id : 162653438 Question Type : MCQ Option Shuffling : Yes Display Question Number : Yes
Single Line Question Option : No Option Orientation : Vertical

Correct Marks : 1 Wrong Marks : 0.25

The Korba coal mines located in _____ state in India.

Options :

1. ✖ Bihar

2. ✖ Jharkhand

3. ✔ Chhattisgarh

4. ✖ Orissa

Question Number : 32 Question Id : 162653438 Question Type : MCQ Option Shuffling : Yes Display Question Number : Yes
Single Line Question Option : No Option Orientation : Vertical

Correct Marks : 1 Wrong Marks : 0.25

कोरबा कोयला खान भारत में _____ राज्य में स्थित है।

Options :

1. ✖ बिहार

2. ✖ झारखंड

3. ✔ छत्तीसगढ़

4. ✖ ओडिशा

Question Number : 33 Question Id : 162653439 Question Type : MCQ Option Shuffling : Yes Display Question Number : Yes
Single Line Question Option : No Option Orientation : Vertical

Correct Marks : 1 Wrong Marks : 0.25

Which factor is responsible to determine the stock of money in a bank?

Options :

1. ✖ The Reserve Deposit Ratio

2. ✖ The Monetary Base

3. ✖ Individuals preference for currency versus checking deposits

4. ✔ All of the given options

Question Number : 33 Question Id : 162653439 Question Type : MCQ Option Shuffling : Yes Display Question Number : Yes
Single Line Question Option : No Option Orientation : Vertical

Correct Marks : 1 Wrong Marks : 0.25

बैंक में पैसे के स्टॉक को निर्धारित करने के लिए कौन सा कारक जिम्मेदार है?

Options :

1. ✖ रिजर्व जमा अनुपात

2. ✖ मौद्रिक आधार

3. ✖ मुद्रा बनाम चेक जमा के लिए व्यक्ति वरीयता

4. ✔ सभी दिए गए विकल्प

Question Number : 34 Question Id : 162653440 Question Type : MCQ Option Shuffling : Yes Display Question Number : Yes
Single Line Question Option : No Option Orientation : Vertical

Correct Marks : 1 Wrong Marks : 0.25

With regard to the economy, which of the following statements is correct?

1. Appreciation – When the value of one currency increases regarding other currency.
2. Deflation- When the overall price level decreases so that inflation rate becomes negative.
3. Depreciation- The monetary value of an asset decreases over time due to use, wear and tear or obsolescence.

Options :

1. ✖ Only 1

2. ✖ Both 1 and 2

3. ✖ Both 2 and 3

4. ✔ 1, 2 and 3 all

Question Number : 34 Question Id : 162653440 Question Type : MCQ Option Shuffling : Yes Display Question Number : Yes
Single Line Question Option : No Option Orientation : Vertical

Correct Marks : 1 Wrong Marks : 0.25

अर्थव्यवस्था के संबंध में, निम्नलिखित में से कौन सा कथन सही है?

प्रशंसा - जब एक मुद्रा का मूल्य अन्य मुद्रा के संबंध में बढ़ता है।

डिफ्लेशन -जब कुल मूल्य स्तर कम हो जाता है ताकि मुद्रास्फीति दर नकारात्मक हो जाए।

मूल्यहास -उपयोग, पहनने और आंसू या अशुभता के कारण समय के साथ संपत्ति का मौद्रिक मूल्य कम हो जाता है।

Options :

1. ✖ केवल 1

2. ✖ 1 और 2 दोनों

3. ✖ 2 और 3 दोनों

4. ✔ 1, 2, और 3

Question Number : 35 Question Id : 162653441 Question Type : MCQ Option Shuffling : Yes Display Question Number : Yes
Single Line Question Option : No Option Orientation : Vertical

Correct Marks : 1 Wrong Marks : 0.25

The phenomenon of rising of falling of the liquid in a thin tube is called _____.

Options :

1. ✖ viscosity
2. ✔ capillary action
3. ✖ heat
4. ✖ temperature

Question Number : 35 Question Id : 162653441 Question Type : MCQ Option Shuffling : Yes Display Question Number : Yes
Single Line Question Option : No Option Orientation : Vertical

Correct Marks : 1 Wrong Marks : 0.25

पतली ट्यूब में तरल पदार्थ गिरने से होने वाली घटना को _____ कहा जाता है।

Options :

1. ✖ चिपचिपापन
2. ✔ केपिलरी एक्शन
3. ✖ ताप
4. ✖ तापमान

Question Number : 36 Question Id : 162653442 Question Type : MCQ Option Shuffling : Yes Display Question Number : Yes
Single Line Question Option : No Option Orientation : Vertical

Correct Marks : 1 Wrong Marks : 0.25

A _____ is used to record the depth of water in the ocean.

Options :

1. ✖ Barometer
2. ✔ Fathometer
3. ✖ Lactometer
4. ✖ Dynamometer

Question Number : 36 Question Id : 162653442 Question Type : MCQ Option Shuffling : Yes Display Question Number : Yes
Single Line Question Option : No Option Orientation : Vertical

Correct Marks : 1 Wrong Marks : 0.25

महासागर में पानी की गहराई को मापने के लिए एक _____ का उपयोग किया जाता है।

Options :

1. ✖ वायुदाबमापी
2. ✔ फेंदममापी
3. ✖ दुग्धमापी
4. ✖ शक्तिमापी

Question Number : 37 Question Id : 162653443 Question Type : MCQ Option Shuffling : Yes Display Question Number : Yes
Single Line Question Option : No Option Orientation : Vertical

Correct Marks : 1 Wrong Marks : 0.25

Which of the following is INCORRECT about the PSLV?

Options :

1. ✖ It is called as Polar Satellite Launch Vehicle.
2. ✖ PSLV is the third generation launch vehicle of India.
3. ✖ It is the first Indian launch vehicle to be equipped with liquid stages.
4. ✔ It was first successfully launched in 2001.

Question Number : 37 Question Id : 162653443 Question Type : MCQ Option Shuffling : Yes Display Question Number : Yes
Single Line Question Option : No Option Orientation : Vertical

Correct Marks : 1 Wrong Marks : 0.25

इनमें से कौन सा पी.एस.एल.वी. के बारे में गलत है?

Options :

1. ✖ इसे ध्रुवीय उपग्रह लॉन्च वाहन कहा जाता है।
2. ✖ PSLV भारत का तीसरा पीढ़ी का लॉन्च वाहन है।
3. ✖ तरल चरणों से सुसज्जित होने वाला यह पहला भारतीय लॉन्च वाहन है।
4. ✔ इसे पहली बार 2001 में सफलतापूर्वक लॉन्च किया गया था।

Question Number : 38 Question Id : 162653444 Question Type : MCQ Option Shuffling : Yes Display Question Number : Yes
Single Line Question Option : No Option Orientation : Vertical

Correct Marks : 1 Wrong Marks : 0.25

Which company is a commercial arm of the Indian Space Research Organisation?

Options :

1. ✖ Space Corporation of India
2. ✖ Antrix Research Limited
3. ✔ Antrix Corporation Limited
4. ✖ Space Corporation Limited

Question Number : 38 Question Id : 162653444 Question Type : MCQ Option Shuffling : Yes Display Question Number : Yes
Single Line Question Option : No Option Orientation : Vertical

Correct Marks : 1 Wrong Marks : 0.25

कौन सी कंपनी भारतीय अंतरिक्ष अनुसंधान संगठन की एक वाणिज्यिक शाखा है?

Options :

1. ✖ स्पेस कॉर्पोरेशन ऑफ इंडिया
2. ✖ एंट्रिक्स रिसर्च लिमिटेड
3. ✔ एनट्रिक्स कॉर्पोरेशन लिमिटेड
4. ✖ स्पेस कॉर्पोरेशन लिमिटेड

Question Number : 39 Question Id : 162653445 Question Type : MCQ Option Shuffling : Yes Display Question Number : Yes
Single Line Question Option : No Option Orientation : Vertical

Correct Marks : 1 Wrong Marks : 0.25

Which of the following is NOT true about the National Council of Educational Research and Training (NCERT)?

Options :

1. ✔ The NCERT is a constitutional body.
2. ✖ The NCERT is an autonomous organisation.
3. ✖ It was established in 1961 by the Government of India.
4. ✖

The NCERT assists and advises the Central and State Governments on policies and programmes for qualitative improvement in school education.

Question Number : 39 Question Id : 162653445 Question Type : MCQ Option Shuffling : Yes Display Question Number : Yes
Single Line Question Option : No Option Orientation : Vertical

Correct Marks : 1 Wrong Marks : 0.25

निम्नलिखित में से कौन सा शैक्षिक अनुसंधान और प्रशिक्षण परिषद (NCERT) के बारे में सही नहीं है?

Options :

1. ✓ NCERT एक संवैधानिक निकाय है।
2. ✗ NCERT एक स्वायत्त संगठन है।
3. ✗ यह 1961 में भारत सरकार द्वारा स्थापित किया गया था।
4. ✗ एन.सी.ई.आर.टी. स्कूल शिक्षा में गुणात्मक सुधार के लिए नीतियों और कार्यक्रमों पर केंद्रीय और राज्य सरकारों की सहायता और सलाह देता है।

Question Number : 40 Question Id : 162653446 Question Type : MCQ Option Shuffling : Yes Display Question Number : Yes
Single Line Question Option : No Option Orientation : Vertical

Correct Marks : 1 Wrong Marks : 0.25

Where is the International Court of Justice situated?

Options :

1. ✗ Vienna
2. ✗ Paris
3. ✓ The Hague
4. ✗ Washington

Question Number : 40 Question Id : 162653446 Question Type : MCQ Option Shuffling : Yes Display Question Number : Yes
Single Line Question Option : No Option Orientation : Vertical

Correct Marks : 1 Wrong Marks : 0.25

अंतर्राष्ट्रीय न्यायालय कहाँ स्थित है?

Options :

1. ✗ वियना
2. ✗ पेरिस
3. ✓ हेग
4. ✗ वाशिंगटन

Arithmetic Ability

Group Number :	3
Group Id :	16265323
Group Maximum Duration :	0
Group Minimum Duration :	0
Revisit allowed for view? :	No
Revisit allowed for edit? :	No
Break time:	0
Group Marks:	20
Revisit allowed for group Instructions? :	Yes
Maximum Instruction Time:	0
Minimum Instruction Time:	0

Arithmetic Ability

Section Id :	16265323
Section Number :	1
Section type :	Online
Mandatory or Optional:	Mandatory
Number of Questions:	19
Number of Questions to be attempted:	19
Section Marks:	20
Display Number Panel:	Yes
Group All Questions:	No

Sub-Section Number:	1
Sub-Section Id:	16265330
Question Shuffling Allowed :	Yes

Question Number : 41 Question Id : 162653447 Question Type : MCQ Option Shuffling : Yes Display Question Number : Yes
Single Line Question Option : No Option Orientation : Vertical

Correct Marks : 1 Wrong Marks : 0.25

The value of $\frac{28 \times 28 + 43 \times 43 + 29 \times 29 - 28 \times 43 - 43 \times 29 - 29 \times 28}{(2.8)^2 + (4.3)^2 + (2.9)^2 - 2.8 \times 4.3 \times 8.7}$ is equal to:

Options :

1. ✖ 1
2. ✔ 10
3. ✖ 100
4. ✖ 1000

Question Number : 41 Question Id : 162653447 Question Type : MCQ Option Shuffling : Yes Display Question Number : Yes
Single Line Question Option : No Option Orientation : Vertical

Correct Marks : 1 Wrong Marks : 0.25

$\frac{28 \times 28 + 43 \times 43 + 29 \times 29 - 28 \times 43 - 43 \times 29 - 29 \times 28}{(2.8)^2 + (4.3)^2 + (2.9)^2 - 2.8 \times 4.3 \times 8.7}$ का मान क्या होगा?

Options :

1. ✖ 1
2. ✔ 10
3. ✖ 100
4. ✖ 1000

Question Number : 42 Question Id : 162653448 Question Type : MCQ Option Shuffling : Yes Display Question Number : Yes
Single Line Question Option : No Option Orientation : Vertical
Correct Marks : 1 Wrong Marks : 0.25

What is the unit digit in $(3^{53} + 6^{41} - 7^{63})$?

Options :

1. ✖ 4
2. ✖ 5
3. ✔ 6
4. ✖ 7

Question Number : 42 Question Id : 162653448 Question Type : MCQ Option Shuffling : Yes Display Question Number : Yes
Single Line Question Option : No Option Orientation : Vertical
Correct Marks : 1 Wrong Marks : 0.25

$(3^{53} + 6^{41} - 7^{63})$ में इकाई अंक क्या होगा?

Options :

1. ✖ 4
2. ✖ 5
3. ✔ 6
4. ✖ 7

Question Number : 43 Question Id : 162653449 Question Type : MCQ Option Shuffling : Yes Display Question Number : Yes
Single Line Question Option : No Option Orientation : Vertical
Correct Marks : 1 Wrong Marks : 0.25

What is the sum of the digits of least number which should be added to 625361 to make it a perfect square?

Options :

1. ✔ 5
2. ✖ 6

3. ✖ 8

4. ✖ 11

Question Number : 43 Question Id : 162653449 Question Type : MCQ Option Shuffling : Yes Display Question Number : Yes
Single Line Question Option : No Option Orientation : Vertical

Correct Marks : 1 Wrong Marks : 0.25

लघुतम संख्या के अंकों का वह योग कौन-सा है जिसे 625361 में जोड़ा जाना चाहिए जिससे वह एक पूर्ण वर्ग बन जाये।

Options :

1. ✔ 5

2. ✖ 6

3. ✖ 8

4. ✖ 11

Question Number : 44 Question Id : 162653450 Question Type : MCQ Option Shuffling : Yes Display Question Number : Yes
Single Line Question Option : No Option Orientation : Vertical

Correct Marks : 1 Wrong Marks : 0.25

The value of $0.5\overline{8} - 0.7\overline{2} + 0.26\overline{9}$ is:

Options :

1. ✖ $0.15\overline{82}$

2. ✖ $0.15\overline{62}$

3. ✖ $0.14\overline{63}$

4. ✔ $0.13\overline{16}$

Question Number : 44 Question Id : 162653450 Question Type : MCQ Option Shuffling : Yes Display Question Number : Yes
Single Line Question Option : No Option Orientation : Vertical

Correct Marks : 1 Wrong Marks : 0.25

$0.5\overline{8} - 0.7\overline{2} + 0.26\overline{9}$ का मान क्या होगा?

Options :

1. ✖ $0.15\overline{82}$

2. ✖ $0.15\overline{62}$

3. ✖ $0.14\overline{63}$

4. ✓ 0.13 $\overline{16}$

Question Number : 45 Question Id : 162653451 Question Type : MCQ Option Shuffling : Yes Display Question Number : Yes
Single Line Question Option : No Option Orientation : Vertical

Correct Marks : 1 Wrong Marks : 0.25

The HCF of two numbers is 18 and their sum is 216. How many such pairs of numbers are possible?

Options :

1. ✓ 2

2. ✗ 3

3. ✗ 5

4. ✗ 6

Question Number : 45 Question Id : 162653451 Question Type : MCQ Option Shuffling : Yes Display Question Number : Yes
Single Line Question Option : No Option Orientation : Vertical

Correct Marks : 1 Wrong Marks : 0.25

दो संख्याओं का महत्तम समापवर्तक 18 है और उनका योग 216 है। संख्याओं के ऐसे कितने युग्म संभव हैं?

Options :

1. ✓ 2

2. ✗ 3

3. ✗ 5

4. ✗ 6

Question Number : 46 Question Id : 162653452 Question Type : MCQ Option Shuffling : Yes Display Question Number : Yes
Single Line Question Option : No Option Orientation : Vertical

Correct Marks : 1 Wrong Marks : 0.25

The average marks of 40 students of a class were 58. Later on, it was found that the marks of two students were wrongly read as 38 and 42 in place of 83 and 24. What are the CORRECT average marks?

Options :

1. ✗ 57.750

2. ✗ 58.250

3. ✓ 58.675

4. ✗ 59.125

Question Number : 46 Question Id : 162653452 Question Type : MCQ Option Shuffling : Yes Display Question Number : Yes
Single Line Question Option : No Option Orientation : Vertical

Correct Marks : 1 Wrong Marks : 0.25

एक कक्षा के छात्रों का औसत अंक 58 था। बाद में यह पाया गया कि दो छात्रों के अंक गलती से 83 और 24 के स्थान पर 38 और 42 के रूप में पढ़े गए थे। सही औसत अंक कितना है?

Options :

1. ✖ 57.750

2. ✖ 58.250

3. ✔ 58.675

4. ✖ 59.125

Question Number : 47 Question Id : 162653453 Question Type : MCQ Option Shuffling : Yes Display Question Number : Yes
Single Line Question Option : No Option Orientation : Vertical

Correct Marks : 1 Wrong Marks : 0.25

Two vessels A and B contains spirit and water in the ratio 3: 5 and 5: 7. Their contents are mixed in the ratio 3: 2. What will be the ratio of spirit and water in the new mixture?

Options :

1. ✖ 29 : 53

2. ✖ 38 : 73

3. ✖ 34 : 77

4. ✔ 47 : 73

Question Number : 47 Question Id : 162653453 Question Type : MCQ Option Shuffling : Yes Display Question Number : Yes
Single Line Question Option : No Option Orientation : Vertical

Correct Marks : 1 Wrong Marks : 0.25

दो पात्रों A और B में 3:5 और 5:7 के अनुपात में स्पिरिट और पानी है। उनकी सामग्रियों को 3:2 के अनुपात में मिश्रित किया जाता है। नये मिश्रण में स्पिरिट और पानी का अनुपात क्या होगा?

Options :

1. ✖ 29 : 53

2. ✖ 38 : 73

3. ✖ 34 : 77

4. ✔ 47 : 73

Question Number : 48 Question Id : 162653454 Question Type : MCQ Option Shuffling : Yes Display Question Number : Yes
Single Line Question Option : No Option Orientation : Vertical

Correct Marks : 1 Wrong Marks : 0.25

A sum of ₹ 21,710 is divided among A, B and C such that 2 times A's share, 5 times B's share and 6 times C's share are equal. What is the share of B?

Options :

1. ✖ ₹ 4,175
2. ✔ ₹ 5,010
3. ✖ ₹ 6,680
4. ✖ ₹ 12,525

Question Number : 48 Question Id : 162653454 Question Type : MCQ Option Shuffling : Yes Display Question Number : Yes
Single Line Question Option : No Option Orientation : Vertical

Correct Marks : 1 Wrong Marks : 0.25

₹ 21,710 की धनराशि A, B और C में इस तरह से बांटी जाती है कि A के हिस्से का 2 गुना, B के हिस्से का 5 गुना और C के हिस्से का 6 गुना बराबर हैं। B का हिस्सा कितना है?

Options :

1. ✖ ₹ 4,175
2. ✔ ₹ 5,010
3. ✖ ₹ 6,680
4. ✖ ₹ 12,525

Question Number : 49 Question Id : 162653455 Question Type : MCQ Option Shuffling : Yes Display Question Number : Yes
Single Line Question Option : No Option Orientation : Vertical

Correct Marks : 1 Wrong Marks : 0.25

If the numerator of a fraction is increased by 200% and denominator is increased by 300%, the fraction becomes $\frac{5}{12}$. What is the original fraction?

Options :

1. ✖ $\frac{5}{4}$
2. ✔ $\frac{5}{9}$
3. ✖ $\frac{10}{27}$

4. ✖ $\frac{15}{27}$

Question Number : 49 Question Id : 162653455 Question Type : MCQ Option Shuffling : Yes Display Question Number : Yes
Single Line Question Option : No Option Orientation : Vertical

Correct Marks : 1 Wrong Marks : 0.25

अगर किसी भिन्न का अंश 200% बढ़ा दिया जाये और हर 300% बढ़ा दिया जाये तो भिन्न $\frac{5}{12}$ हो जाता है। मूल भिन्न क्या है?

Options :

1. ✖ $\frac{5}{4}$

2. ✔ $\frac{5}{9}$

3. ✖ $\frac{10}{27}$

4. ✖ $\frac{15}{27}$

Question Number : 50 Question Id : 162653456 Question Type : MCQ Option Shuffling : Yes Display Question Number : Yes
Single Line Question Option : No Option Orientation : Vertical

Correct Marks : 1 Wrong Marks : 0.25

By selling 12 articles, a person gains the selling price of 3 articles. What is his percentage gain?

Options :

1. ✖ $\frac{50}{3}\%$

2. ✖ 15%

3. ✖ 18%

4. ✔ $\frac{100}{3}\%$

Question Number : 50 Question Id : 162653456 Question Type : MCQ Option Shuffling : Yes Display Question Number : Yes
Single Line Question Option : No Option Orientation : Vertical

Correct Marks : 1 Wrong Marks : 0.25

12 वस्तुएं बेचने पर एक व्यक्ति को 5 वस्तुओं के बिक्री मूल्य का लाभ होता है। उसका लाभ प्रतिशत कितना है?

Options :

1. ✖ $\frac{50}{3}\%$
2. ✖ 15%
3. ✖ 18%
4. ✔ $\frac{100}{3}\%$

Question Number : 51 Question Id : 162653457 Question Type : MCQ Option Shuffling : Yes Display Question Number : Yes
Single Line Question Option : No Option Orientation : Vertical

Correct Marks : 1 Wrong Marks : 0.25

An article is sold at a certain price. By selling it at $\frac{4}{3}$ of that price, one loses 12%. What is his percentage loss at the original price?

Options :

1. ✖ 16%
2. ✖ 30%
3. ✔ 34%
4. ✖ 36%

Question Number : 51 Question Id : 162653457 Question Type : MCQ Option Shuffling : Yes Display Question Number : Yes
Single Line Question Option : No Option Orientation : Vertical

Correct Marks : 1 Wrong Marks : 0.25

कोई वस्तु एक निश्चित मूल्य पर बेची जाती है। उस मूल्य के $\frac{4}{3}$ पर उसे बेचने पर व्यक्ति को 12% की हानि होती है। मूल मूल्य पर उसका हानि प्रतिशत कितना है?

Options :

1. ✖ 16%
2. ✖ 30%
3. ✔ 34%
4. ✖ 36%

Question Number : 52 Question Id : 162653458 Question Type : MCQ Option Shuffling : Yes Display Question Number : Yes
Single Line Question Option : No Option Orientation : Vertical

Correct Marks : 1 Wrong Marks : 0.25

The value of a machine depreciates every year at the rate of 8% per annum. If the present value of the machine is ₹ 2,400, what will be the percentage decrease in the value at the end of 2 years?

Options :

1. ☒ 15.36%
2. ☐ 16%
3. ☐ 16.48%
4. ☐ 16.75%

Question Number : 52 Question Id : 162653458 Question Type : MCQ Option Shuffling : Yes Display Question Number : Yes
Single Line Question Option : No Option Orientation : Vertical

Correct Marks : 1 Wrong Marks : 0.25

एक मशीन का मूल्य प्रत्येक वर्ष 8% प्रति वर्ष की दर से ह्रासित होता है। अगर मशीन का वर्तमान मूल्य ₹ 2,400 है तो 2 वर्षों की समाप्ति पर उसके मूल्य में प्रतिशत कमी कितनी होगी?

Options :

1. ☒ 15.36%
2. ☐ 16%
3. ☐ 16.48%
4. ☐ 16.75%

Question Number : 53 Question Id : 162653459 Question Type : MCQ Option Shuffling : Yes Display Question Number : Yes
Single Line Question Option : No Option Orientation : Vertical

Correct Marks : 1 Wrong Marks : 0.25

The diagonal of a rectangle is 29 cm and its perimeter is 82 cm. What is the area of rectangle in cm^2 ?

Options :

1. ☒ 420
2. ☐ 580
3. ☐ 594.5
4. ☐ 624.3

Question Number : 53 Question Id : 162653459 Question Type : MCQ Option Shuffling : Yes Display Question Number : Yes
Single Line Question Option : No Option Orientation : Vertical

Correct Marks : 1 Wrong Marks : 0.25

अगर एक आयत का विकर्ण 29 cm है और उसका परिमाप 82 cm है तो आयत का क्षेत्रफल कितने cm^2 है?

Options :

1. ☒ 420

2. ✖ 580

3. ✖ 594.5

4. ✖ 624.3

Question Number : 54 Question Id : 162653460 Question Type : MCQ Option Shuffling : Yes Display Question Number : Yes
Single Line Question Option : No Option Orientation : Vertical

Correct Marks : 1 Wrong Marks : 0.25

Each edge of a cube is increased by 20%. What will be the percentage increase in its volume?

Options :

1. ✖ 60%

2. ✔ 72.8%

3. ✖ 90.6%

4. ✖ 172.8%

Question Number : 54 Question Id : 162653460 Question Type : MCQ Option Shuffling : Yes Display Question Number : Yes
Single Line Question Option : No Option Orientation : Vertical

Correct Marks : 1 Wrong Marks : 0.25

अगर एक घन के प्रत्येक कोर को 20% बढ़ा दिया जाता है तो उसके परिमाण में कितने प्रतिशत की वृद्धि हुई?

Options :

1. ✖ 60%

2. ✔ 72.8%

3. ✖ 90.6%

4. ✖ 172.8%

Question Number : 55 Question Id : 162653461 Question Type : MCQ Option Shuffling : Yes Display Question Number : Yes
Single Line Question Option : No Option Orientation : Vertical

Correct Marks : 1 Wrong Marks : 0.25

A, B and C can complete a work in 10, 15 and 30 days respectively. A and B started the work but B left after 3 days and C joined A. In how many days was the work completed?

Options :

1. ✖ 5.75

2. ✖ 6.25

3. ✔ 6.75

4. ✖ 7.25

Question Number : 55 Question Id : 162653461 Question Type : MCQ Option Shuffling : Yes Display Question Number : Yes
Single Line Question Option : No Option Orientation : Vertical

Correct Marks : 1 Wrong Marks : 0.25

A, B और C किसी काम को अकेले क्रमशः 10, 15 और 30 दिन में पूरा कर सकते हैं। A और B ने काम शुरू किया लेकिन B 3 दिन के बाद छोड़ दिया और C ने A का साथ देना शुरू किया। काम कितने दिन में पूरा हुआ?

Options :

1. ✖ 5.75

2. ✖ 6.25

3. ✔ 6.75

4. ✖ 7.25

Question Number : 56 Question Id : 162653462 Question Type : MCQ Option Shuffling : Yes Display Question Number : Yes
Single Line Question Option : No Option Orientation : Vertical

Correct Marks : 1 Wrong Marks : 0.25

If 6 men working 8 hours a day and earn ₹ 12,600 in 5 days, then 7 persons working 6 hours a day for 8 days will earn how much money?

Options :

1. ✖ ₹ 14,650

2. ✖ ₹ 15,780

3. ✖ ₹ 16,250

4. ✔ ₹ 17,640

Question Number : 56 Question Id : 162653462 Question Type : MCQ Option Shuffling : Yes Display Question Number : Yes
Single Line Question Option : No Option Orientation : Vertical

Correct Marks : 1 Wrong Marks : 0.25

अगर दिन में 8 घंटे काम करने वाले 6 व्यक्ति 5 दिन में ₹ 12,600 कमाते हैं तो दिन में 6 घंटे काम करने वाले 7 व्यक्ति 8 दिन में कितना पैसा कमाएंगे?

Options :

1. ✖ ₹ 14,650

2. ✖ ₹ 15,780

3. ✖ ₹ 16,250

4. ✓ ₹ 17,640

Question Number : 57 Question Id : 162653463 Question Type : MCQ Option Shuffling : Yes Display Question Number : Yes
Single Line Question Option : No Option Orientation : Vertical

Correct Marks : 1 Wrong Marks : 0.25

The speed of a boat in still water is 10 km/h. It can go 15 km upstream and 37.5 km downstream in 5 hours. Which of the following is the speed of stream in km/h?

Options :

1. ✗ 1.5

2. ✓ 2.5

3. ✗ 3

4. ✗ 3.5

Question Number : 57 Question Id : 162653463 Question Type : MCQ Option Shuffling : Yes Display Question Number : Yes
Single Line Question Option : No Option Orientation : Vertical

Correct Marks : 1 Wrong Marks : 0.25

स्थिर पानी में एक नाव की गति 10 km प्रति घंटा है। वह 5 घंटे में 15 km ऊर्ध्वप्रवाह और 37.5 km अनुप्रवाह जा सकती है। निम्न में से कौन-सा धारा का km प्रति घंटे में वेग है?

Options :

1. ✗ 1.5

2. ✓ 2.5

3. ✗ 3

4. ✗ 3.5

Question Number : 58 Question Id : 162653464 Question Type : MCQ Option Shuffling : Yes Display Question Number : Yes
Single Line Question Option : No Option Orientation : Vertical

Correct Marks : 1 Wrong Marks : 0.25

A train WITHOUT stoppage travels at a speed of 80 km/h and with stoppage it travels of 60 km/h. How many minutes does the train stop on an average per hour?

Options :

1. ✗ 10

2. ✗ 12

3. ✓ 15

4. ✗ 18

Question Number : 58 Question Id : 162653464 Question Type : MCQ Option Shuffling : Yes Display Question Number : Yes
Single Line Question Option : No Option Orientation : Vertical

Correct Marks : 1 Wrong Marks : 0.25

एक रेलगाड़ी पड़ाव के बिना 80 km प्रति घंटे की रफ़्तार से चलती है और पड़ाव के साथ 60 km प्रति घंटे की रफ़्तार से चलती है। रेलगाड़ी प्रति घंटे औसतन कितने मिनट रुकती है?

Options :

1. ✖ 10

2. ✖ 12

3. ✔ 15

4. ✖ 18

Sub-Section Number: 2
Sub-Section Id: 16265331
Question Shuffling Allowed : Yes

Question Id : 162653465 Question Type : COMPREHENSION Sub Question Shuffling Allowed : Yes Group Comprehension
Questions : No

Question Numbers : (59 to 60)

Question Label : Comprehension

The following table gives the marks obtained by students in a test out of 80 marks. Read the table and answer the following questions.

Class interval	10-20	20-30	30-40	40-50	50-60	60-70	70-80
No. of students	15	25	30	45	40	30	15

Sub questions

Question Number : 59 Question Id : 162653466 Question Type : MCQ Option Shuffling : Yes Display Question Number : Yes
Single Line Question Option : No Option Orientation : Vertical

Correct Marks : 1 Wrong Marks : 0.25

What are the mean marks obtained by the students?

Options :

1. ✖ 45.5

2. ✔ 46

3. ✖ 46.5

4. ✖ 47

Question Number : 60 Question Id : 162653467 Question Type : MCQ Option Shuffling : Yes Display Question Number : Yes
Single Line Question Option : No Option Orientation : Vertical

Correct Marks : 1 Wrong Marks : 0.25

If the above information is represented as a pie-chart showing the distribution of students in different classes, what is the central angle of the section representing the median class to the nearest whole degree?

Options :

1. ✓ 81°

2. ✗ 72°

3. ✗ 54°

4. ✗ 27°

Question Id : 162653465 Question Type : COMPREHENSION Sub Question Shuffling Allowed : Yes Group Comprehension
Questions : No

Question Numbers : (59 to 60)

Question Label : Comprehension

निम्नलिखित तालिका छात्रों द्वारा एक परीक्षा में 80 में से प्राप्तंक दर्शाती है। तालिका पढ़कर निम्न प्रश्नों के उत्तर दें।

वर्ग अंतराल	10-20	20-30	30-40	40-50	50-60	60-70	70-80
छात्रों की संख्या	15	25	30	45	40	30	15

Sub questions

Question Number : 59 Question Id : 162653466 Question Type : MCQ Option Shuffling : Yes Display Question Number : Yes
Single Line Question Option : No Option Orientation : Vertical

Correct Marks : 1 Wrong Marks : 0.25

छात्रों द्वारा प्राप्त माध्य अंक क्या है?

Options :

1. ✗ 45.5

2. ✓ 46

3. ✗ 46.5

4. ✗ 47

Question Number : 60 Question Id : 162653467 Question Type : MCQ Option Shuffling : Yes Display Question Number : Yes
Single Line Question Option : No Option Orientation : Vertical

Correct Marks : 1 Wrong Marks : 0.25

यदि उपर्युक्त जानकारी विभिन्न वर्गों में छात्रों का वितरण दर्शाते हुए पाई चार्ट के रूप में प्रस्तुत की जाती है तो माध्यिका वर्ग का प्रतिनिधित्व करने वाले क्षेत्र का केन्द्रीय कोण निकटतम पूर्ण अंश में कितना है?

Options :

1. ✓ 81°

2. ✗ 72°

3. ✗ 54°

4. ✗ 27°

General English

Group Number :	4
Group Id :	16265324
Group Maximum Duration :	0
Group Minimum Duration :	0
Revisit allowed for view? :	No
Revisit allowed for edit? :	No
Break time:	0
Group Marks:	20
Revisit allowed for group Instructions? :	Yes
Maximum Instruction Time:	0
Minimum Instruction Time:	0

General English

Section Id :	16265324
Section Number :	1
Section type :	Online
Mandatory or Optional:	Mandatory
Number of Questions:	16
Number of Questions to be attempted:	16
Section Marks:	20
Display Number Panel:	Yes
Group All Questions:	No

Sub-Section Number:	1
Sub-Section Id:	16265332
Question Shuffling Allowed :	Yes

Question Number : 61 Question Id : 162653468 Question Type : MCQ Option Shuffling : Yes Display Question Number : Yes
Single Line Question Option : No Option Orientation : Vertical

Correct Marks : 1 Wrong Marks : 0.25

_____ can take the place of a conjunction and are placed before introductory words like 'therefore' or 'however'. They are also used to separate a list of things if there are commas within each unit.

Options :

1. ☒ Semicolons
2. ☐ Colons
3. ☐ Parentheses
4. ☐ Apostrophes

Question Number : 61 Question Id : 162653468 Question Type : MCQ Option Shuffling : Yes Display Question Number : Yes
Single Line Question Option : No Option Orientation : Vertical

Correct Marks : 1 Wrong Marks : 0.25

_____ can take the place of a conjunction and are placed before introductory words like 'therefore' or 'however'. They are also used to separate a list of things if there are commas within each unit.

Options :

1. ☒ Semicolons
2. ☐ Colons
3. ☐ Parentheses
4. ☐ Apostrophes

Question Number : 62 Question Id : 162653469 Question Type : MCQ Option Shuffling : Yes Display Question Number : Yes
Single Line Question Option : No Option Orientation : Vertical

Correct Marks : 1 Wrong Marks : 0.25

Identify the infinitive phrase.

Options :

1. ☐ My brother loves to watch movies.
2. ☒ Everybody loves to watch movies.
3. ☐ Simon loves to watch movies.
4. ☐ Dolu and Bolu love watching movies.

Question Number : 62 Question Id : 162653469 Question Type : MCQ Option Shuffling : Yes Display Question Number : Yes
Single Line Question Option : No Option Orientation : Vertical

Correct Marks : 1 Wrong Marks : 0.25

Identify the infinitive phrase.

Options :

1. ☐ My brother loves to watch movies.

2. ☒ Everybody loves to watch movies.

3. ☐ Simon loves to watch movies.

4. ☐ Dolu and Bolu love watching movies.

Question Number : 63 Question Id : 162653470 Question Type : MCQ Option Shuffling : Yes Display Question Number : Yes
Single Line Question Option : No Option Orientation : Vertical

Correct Marks : 1 Wrong Marks : 0.25

Consider the statement and fill in the blank.

Ram qualified _____ an engineer before attending a business school.

Options :

1. ☐ like

2. ☐ himself

3. ☒ as

4. ☐ first

Question Number : 63 Question Id : 162653470 Question Type : MCQ Option Shuffling : Yes Display Question Number : Yes
Single Line Question Option : No Option Orientation : Vertical

Correct Marks : 1 Wrong Marks : 0.25

Consider the statement and fill in the blank.

Ram qualified _____ an engineer before attending a business school.

Options :

1. ☐ like

2. ☐ himself

3. ☒ as

4. ☐ first

Question Number : 64 Question Id : 162653471 Question Type : MCQ Option Shuffling : Yes Display Question Number : Yes
Single Line Question Option : No Option Orientation : Vertical

Correct Marks : 1 Wrong Marks : 0.25

Consider the statement and fill in the blank.

I won't lend you my car _____ you promise to drive carefully.

Options :

1. ☐ except

2. ✖ in case

3. ✖ unlike

4. ✔ unless

Question Number : 64 Question Id : 162653471 Question Type : MCQ Option Shuffling : Yes Display Question Number : Yes
Single Line Question Option : No Option Orientation : Vertical

Correct Marks : 1 Wrong Marks : 0.25

Consider the statement and fill in the blank.

I won't lend you my car _____ you promise to drive carefully.

Options :

1. ✖ except

2. ✖ in case

3. ✖ unlike

4. ✔ unless

Question Number : 65 Question Id : 162653472 Question Type : MCQ Option Shuffling : Yes Display Question Number : Yes
Single Line Question Option : No Option Orientation : Vertical

Correct Marks : 1 Wrong Marks : 0.25

Consider the statement and fill in the blank.

The burning of fossil fuels releases harmful _____.

Options :

1. ✔ greenhouse gases

2. ✖ petroleum chemicals

3. ✖ oily substances

4. ✖ hot air

Question Number : 65 Question Id : 162653472 Question Type : MCQ Option Shuffling : Yes Display Question Number : Yes
Single Line Question Option : No Option Orientation : Vertical

Correct Marks : 1 Wrong Marks : 0.25

Consider the statement and fill in the blank.

The burning of fossil fuels releases harmful _____.

Options :

1. ☒ greenhouse gases
2. ☐ petroleum chemicals
3. ☐ oily substances
4. ☐ hot air

Question Number : 66 Question Id : 162653473 Question Type : MCQ Option Shuffling : Yes Display Question Number : Yes
Single Line Question Option : No Option Orientation : Vertical

Correct Marks : 1 Wrong Marks : 0.25

Consider the statement and fill in the blank.

A report has revealed that men are paid higher _____ and receive bigger bonuses than women.

Options :

1. ☐ earnings
2. ☒ salaries
3. ☐ payments
4. ☐ invoices

Question Number : 66 Question Id : 162653473 Question Type : MCQ Option Shuffling : Yes Display Question Number : Yes
Single Line Question Option : No Option Orientation : Vertical

Correct Marks : 1 Wrong Marks : 0.25

Consider the statement and fill in the blank.

A report has revealed that men are paid higher _____ and receive bigger bonuses than women.

Options :

1. ☐ earnings
2. ☒ salaries
3. ☐ payments
4. ☐ invoices

Question Number : 67 Question Id : 162653474 Question Type : MCQ Option Shuffling : Yes Display Question Number : Yes
Single Line Question Option : No Option Orientation : Vertical

Correct Marks : 1 Wrong Marks : 0.25

Consider the statement and fill in the blank.

The skin of a snake is not rough or slimy; in fact, it is quite dry and _____.

Options :

1. ✖ solid
2. ✖ rough
3. ✔ smooth
4. ✖ stiff

Question Number : 67 Question Id : 162653474 Question Type : MCQ Option Shuffling : Yes Display Question Number : Yes
Single Line Question Option : No Option Orientation : Vertical

Correct Marks : 1 Wrong Marks : 0.25

Consider the statement and fill in the blank.

The skin of a snake is not rough or slimy; in fact, it is quite dry and _____.

Options :

1. ✖ solid
2. ✖ rough
3. ✔ smooth
4. ✖ stiff

Question Number : 68 Question Id : 162653475 Question Type : MCQ Option Shuffling : Yes Display Question Number : Yes
Single Line Question Option : No Option Orientation : Vertical

Correct Marks : 1 Wrong Marks : 0.25

Identify the word that has the closest association with the following word.

HOSPITALITY

Options :

1. ✖ Therapist
2. ✖ Doctor
3. ✖ Hospital
4. ✔ Host

Question Number : 68 Question Id : 162653475 Question Type : MCQ Option Shuffling : Yes Display Question Number : Yes
Single Line Question Option : No Option Orientation : Vertical

Correct Marks : 1 Wrong Marks : 0.25

Identify the word that has the closest association with the following word.

HOSPITALITY

Options :

1. ✖ Therapist
2. ✖ Doctor
3. ✖ Hospital
4. ✔ Host

Question Number : 69 Question Id : 162653476 Question Type : MCQ Option Shuffling : Yes Display Question Number : Yes
Single Line Question Option : No Option Orientation : Vertical

Correct Marks : 1 Wrong Marks : 0.25

Consider the statement and fill in the blank.

A person who wants to subvert a government is called a/an _____.

Options :

1. ✔ anarchist
2. ✖ antichrist
3. ✖ analyst
4. ✖ animist

Question Number : 69 Question Id : 162653476 Question Type : MCQ Option Shuffling : Yes Display Question Number : Yes
Single Line Question Option : No Option Orientation : Vertical

Correct Marks : 1 Wrong Marks : 0.25

Consider the statement and fill in the blank.

A person who wants to subvert a government is called a/an _____.

Options :

1. ✔ anarchist
2. ✖ antichrist
3. ✖ analyst
4. ✖ animist

Question Number : 70 Question Id : 162653477 Question Type : MCQ Option Shuffling : Yes Display Question Number : Yes
Single Line Question Option : No Option Orientation : Vertical

Correct Marks : 1 Wrong Marks : 0.25

What is the ANTONYM of Valiant?

Options :

1. ✖ Intrepid
2. ✔ Cowardly
3. ✖ Undaunted
4. ✖ Impervious

Question Number : 70 Question Id : 162653477 Question Type : MCQ Option Shuffling : Yes Display Question Number : Yes
Single Line Question Option : No Option Orientation : Vertical

Correct Marks : 1 Wrong Marks : 0.25

What is the ANTONYM of Valiant?

Options :

1. ✖ Intrepid
2. ✔ Cowardly
3. ✖ Undaunted
4. ✖ Impervious

Question Number : 71 Question Id : 162653478 Question Type : MCQ Option Shuffling : Yes Display Question Number : Yes
Single Line Question Option : No Option Orientation : Vertical

Correct Marks : 1 Wrong Marks : 0.25

What is the synonym of Cautious?

Options :

1. ✖ Casual
2. ✖ Callous
3. ✔ Careful
4. ✖ Careless

Question Number : 71 Question Id : 162653478 Question Type : MCQ Option Shuffling : Yes Display Question Number : Yes
Single Line Question Option : No Option Orientation : Vertical

Correct Marks : 1 Wrong Marks : 0.25

What is the synonym of Cautious?

Options :

1. ✖ Casual
2. ✖ Callous
3. ✔ Careful
4. ✖ Careless

Question Number : 72 Question Id : 162653479 Question Type : MCQ Option Shuffling : Yes Display Question Number : Yes
Single Line Question Option : No Option Orientation : Vertical

Correct Marks : 1 Wrong Marks : 0.25

What is the ANTONYM of Ceremonious?

Options :

1. ✖ Momentous
2. ✖ Pompous
3. ✖ Formal
4. ✔ Informal

Question Number : 72 Question Id : 162653479 Question Type : MCQ Option Shuffling : Yes Display Question Number : Yes
Single Line Question Option : No Option Orientation : Vertical

Correct Marks : 1 Wrong Marks : 0.25

What is the ANTONYM of Ceremonious?

Options :

1. ✖ Momentous
2. ✖ Pompous
3. ✖ Formal
4. ✔ Informal

Question Number : 73 Question Id : 162653480 Question Type : MCQ Option Shuffling : Yes Display Question Number : Yes
Single Line Question Option : No Option Orientation : Vertical

Correct Marks : 1 Wrong Marks : 0.25

What is the synonym of Fortify?

Options :

1. ✔ Toughen

2. ✖ Sap

3. ✖ Debilitate

4. ✖ Encumber

Question Number : 73 Question Id : 162653480 Question Type : MCQ Option Shuffling : Yes Display Question Number : Yes
Single Line Question Option : No Option Orientation : Vertical

Correct Marks : 1 Wrong Marks : 0.25

What is the synonym of Fortify?

Options :

1. ✔ Toughen

2. ✖ Sap

3. ✖ Debilitate

4. ✖ Encumber

Question Number : 74 Question Id : 162653481 Question Type : MCQ Option Shuffling : Yes Display Question Number : Yes
Single Line Question Option : No Option Orientation : Vertical

Correct Marks : 1 Wrong Marks : 0.25

What is the ANTONYM of Acrimonious?

Options :

1. ✖ Rancorous

2. ✔ Harmonious

3. ✖ Implacable

4. ✖ Callous

Question Number : 74 Question Id : 162653481 Question Type : MCQ Option Shuffling : Yes Display Question Number : Yes
Single Line Question Option : No Option Orientation : Vertical

Correct Marks : 1 Wrong Marks : 0.25

What is the ANTONYM of Acrimonious?

Options :

1. ✖ Rancorous

2. ✔ Harmonious

3. ✖ Implacable

4. ✖ Callous

Question Number : 75 Question Id : 162653482 Question Type : MCQ Option Shuffling : Yes Display Question Number : Yes
Single Line Question Option : No Option Orientation : Vertical

Correct Marks : 1 Wrong Marks : 0.25

What is the synonym of Abject?

Options :

1. ✖ Jaunty

2. ✖ Jovial

3. ✔ Miserable

4. ✖ Buoyant

Question Number : 75 Question Id : 162653482 Question Type : MCQ Option Shuffling : Yes Display Question Number : Yes
Single Line Question Option : No Option Orientation : Vertical

Correct Marks : 1 Wrong Marks : 0.25

What is the synonym of Abject?

Options :

1. ✖ Jaunty

2. ✖ Jovial

3. ✔ Miserable

4. ✖ Buoyant

Sub-Section Number:	2
Sub-Section Id:	16265333
Question Shuffling Allowed :	Yes

Question Id : 162653483 Question Type : COMPREHENSION Sub Question Shuffling Allowed : Yes Group Comprehension
Questions : No

Question Numbers : (76 to 80)

Question Label : Comprehension

Read the following passage and answer the questions given after it.

Struggling to survive, Indian airline companies could see the steepest hike in jet fuel prices in recent times on Monday with oil companies informing them of an over-7% increase for October rates. Airline sources say aviation turbine fuel (ATF) will cost about ₹ 74,530 per kilolitre in Delhi.

This level was last seen in March 2014 and is just short of the all-time high of ₹ 77,089 (in Delhi) in October 2013. However, the impact now will be double as the rupee-dollar exchange rate is at almost ₹ 73 (it used to be ₹ 61 at the start of 2014).

“The twin impact — 7.3% hike in ATF and crashing rupee — is going to be devastating for us as most costs of airlines (like aircraft lease rentals and maintenance contracts) are in dollars. Oil companies have informed us of the steepest hike in recent times from Monday. Jet fuel prices in India for domestic flights are already the highest globally,” said an airline official.

An airline like Air India expects ATF costs to rise by ₹ 65 crore this month. AI, which has an annual fuel bill of ₹ 8,500 crore, has about 15% domestic market share. What this could lead to now, say sources, is higher spot fares in the festive season. IndiGo had introduced a fuel surcharge on domestic flights of ₹ 200 and ₹ 400 for flights on sectors below and over 1,000 km respectively, from May 30, 2018. At that time, ATF was ₹ 70,000 per kl in Delhi and the exchange rate was at 67.5.

“With ATF at ₹ 74,500 in Delhi and the dollar at ₹ 73, airlines levying fuel surcharge could hike the same and others will start levying the same if they want to avoid a Kingfisher-like fate,” said an official.

Airlines are fuming as they do not understand why the government did not augment airport infrastructure at choked hubs like Delhi and Mumbai, which needed a second airport five years back. “We waste tonnes of fuel hovering in places like these. The government was just happy basking in the glory of India being the fastest-growing aviation market but did nothing about airport infrastructure. We should have had new and bigger airports getting inaugurated by now instead of just stone-laying ceremonies being held,” said a senior pilot.

Sub questions

Question Number : 76 Question Id : 162653484 Question Type : MCQ Option Shuffling : Yes Display Question Number : Yes
Single Line Question Option : No Option Orientation : Vertical

Correct Marks : 1 Wrong Marks : 0.25

After reading this passage, it can be inferred that it is:

Options :

1. ☒ a news item on the survival issue of airlines
2. ☐ a report on the increase of fuel prices
3. ☐ an article on the woes of Air India officials
4. ☐ a newspaper editorial on government policies

Question Number : 77 Question Id : 162653485 Question Type : MCQ Option Shuffling : Yes Display Question Number : Yes
Single Line Question Option : No Option Orientation : Vertical

Correct Marks : 1 Wrong Marks : 0.25

What were the prices of aviation fuel in March 2014?

Options :

1. ☐ ₹ 70,000 per kilolitre
2. ☒ ₹ 74,500 per kilolitre
3. ☐ ₹ 76,500 per kilolitre
4. ☐ ₹ 77,089 per kilolitre

Question Number : 78 Question Id : 162653486 Question Type : MCQ Option Shuffling : Yes Display Question Number : Yes
Single Line Question Option : No Option Orientation : Vertical

Correct Marks : 1 Wrong Marks : 0.25

Which factors have made the struggle to survive tougher for aviation companies?

Options :

1. ☐ A 7% hike in fuel prices and lack of airport infrastructure.
2. ☐ A lack of airport infrastructure and crashing rupee.
3. ☒ A 7% increase in oil prices and crashing rupee.
4. ☐ Levying of fuel surcharge and lack of airport infrastructure.

Question Number : 79 Question Id : 162653487 Question Type : MCQ Option Shuffling : Yes Display Question Number : Yes
Single Line Question Option : No Option Orientation : Vertical

Correct Marks : 1 Wrong Marks : 0.25

“Stone-laying ceremonies being held” means that:

Options :

1. ☐ the airports are in the middle of being completed

- 2. ✖ the airports are ready for functioning
- 3. ✖ the airport plans are being prepared
- 4. ✔ the first step of making an airport has been taken

Question Number : 80 Question Id : 162653488 Question Type : MCQ Option Shuffling : Yes Display Question Number : Yes
Single Line Question Option : No Option Orientation : Vertical
Correct Marks : 1 Wrong Marks : 0.25

Which statement is NOT true according to the passage?

Options :

- 1. ✖ New and bigger airports are not ready in the country.
- 2. ✖ Airlines waste tons of fuel hovering over the airports.
- 3. ✖ Airlines need to hike the fuel surcharge with the rising costs.
- 4. ✔ Airlines have levied a fuel surcharge of ₹ 200 on domestic flights on sectors over 1,000 km.

Question Id : 162653483 Question Type : COMPREHENSION Sub Question Shuffling Allowed : Yes Group Comprehension
Questions : No
Question Numbers : (76 to 80)
Question Label : Comprehension

Read the following passage and answer the questions given after it.

Struggling to survive, Indian airline companies could see the steepest hike in jet fuel prices in recent times on Monday with oil companies informing them of an over-7% increase for October rates. Airline sources say aviation turbine fuel (ATF) will cost about ₹ 74,530 per kilolitre in Delhi.

This level was last seen in March 2014 and is just short of the all-time high of ₹ 77,089 (in Delhi) in October 2013. However, the impact now will be double as the rupee-dollar exchange rate is at almost ₹ 73 (it used to be ₹ 61 at the start of 2014).

“The twin impact — 7.3% hike in ATF and crashing rupee — is going to be devastating for us as most costs of airlines (like aircraft lease rentals and maintenance contracts) are in dollars. Oil companies have informed us of the steepest hike in recent times from Monday. Jet fuel prices in India for domestic flights are already the highest globally,” said an airline official.

An airline like Air India expects ATF costs to rise by ₹ 65 crore this month. AI, which has an annual fuel bill of ₹ 8,500 crore, has about 15% domestic market share. What this could lead to now, say sources, is higher spot fares in the festive season. IndiGo had introduced a fuel surcharge on domestic flights of ₹ 200 and ₹ 400 for flights on sectors below and over 1,000 km respectively, from May 30, 2018. At that time, ATF was ₹ 70,000 per kl in Delhi and the exchange rate was at 67.5.

“With ATF at ₹ 74,500 in Delhi and the dollar at ₹ 73, airlines levying fuel surcharge could hike the same and others will start levying the same if they want to avoid a Kingfisher-like fate,” said an official.

Airlines are fuming as they do not understand why the government did not augment airport infrastructure at choked hubs like Delhi and Mumbai, which needed a second airport five years back. “We waste tonnes of fuel hovering in places like these. The government was just happy basking in the glory of India being the fastest-growing aviation market but did nothing about airport infrastructure. We should have had new and bigger airports getting inaugurated by now instead of just stone-laying ceremonies being held,” said a senior pilot.

Sub questions

Question Number : 76 Question Id : 162653484 Question Type : MCQ Option Shuffling : Yes Display Question Number : Yes
Single Line Question Option : No Option Orientation : Vertical

Correct Marks : 1 Wrong Marks : 0.25

After reading this passage, it can be inferred that it is:

Options :

1. ☒ a news item on the survival issue of airlines
2. ☐ a report on the increase of fuel prices
3. ☐ an article on the woes of Air India officials
4. ☐ a newspaper editorial on government policies

Question Number : 77 Question Id : 162653485 Question Type : MCQ Option Shuffling : Yes Display Question Number : Yes
Single Line Question Option : No Option Orientation : Vertical

Correct Marks : 1 Wrong Marks : 0.25

What were the prices of aviation fuel in March 2014?

Options :

1. ☐ ₹ 70,000 per kilolitre
2. ☒ ₹ 74,500 per kilolitre
3. ☐ ₹ 76,500 per kilolitre
4. ☐ ₹ 77,089 per kilolitre

Question Number : 78 Question Id : 162653486 Question Type : MCQ Option Shuffling : Yes Display Question Number : Yes
Single Line Question Option : No Option Orientation : Vertical

Correct Marks : 1 Wrong Marks : 0.25

Which factors have made the struggle to survive tougher for aviation companies?

Options :

1. ☐ A 7% hike in fuel prices and lack of airport infrastructure.
2. ☐ A lack of airport infrastructure and crashing rupee.
3. ☒ A 7% increase in oil prices and crashing rupee.
4. ☐ Levying of fuel surcharge and lack of airport infrastructure.

Question Number : 79 Question Id : 162653487 Question Type : MCQ Option Shuffling : Yes Display Question Number : Yes
Single Line Question Option : No Option Orientation : Vertical

Correct Marks : 1 Wrong Marks : 0.25

“Stone-laying ceremonies being held” means that:

Options :

1. ☐ the airports are in the middle of being completed

2. ✖ the airports are ready for functioning
3. ✖ the airport plans are being prepared
4. ✔ the first step of making an airport has been taken

Question Number : 80 Question Id : 162653488 Question Type : MCQ Option Shuffling : Yes Display Question Number : Yes
 Single Line Question Option : No Option Orientation : Vertical
 Correct Marks : 1 Wrong Marks : 0.25

Which statement is NOT true according to the passage?

Options :

1. ✖ New and bigger airports are not ready in the country.
2. ✖ Airlines waste tons of fuel hovering over the airports.
3. ✖ Airlines need to hike the fuel surcharge with the rising costs.
4. ✔ Airlines have levied a fuel surcharge of ₹ 200 on domestic flights on sectors over 1,000 km.

General Hindi

Group Number :	5
Group Id :	16265325
Group Maximum Duration :	0
Group Minimum Duration :	0
Revisit allowed for view? :	No
Revisit allowed for edit? :	No
Break time:	0
Group Marks:	20
Revisit allowed for group Instructions? :	Yes
Maximum Instruction Time:	0
Minimum Instruction Time:	0

General Hindi

Section Id :	16265325
Section Number :	1
Section type :	Online
Mandatory or Optional:	Mandatory
Number of Questions:	16
Number of Questions to be attempted:	16
Section Marks:	20
Display Number Panel:	Yes
Group All Questions:	No

Sub-Section Id:

16265334

Question Shuffling Allowed :

Yes

Question Id : 162653489 Question Type : COMPREHENSION Sub Question Shuffling Allowed : Yes Group Comprehension Questions : No

Question Numbers : (81 to 85)

Question Label : Comprehension

नीचे दिये गए गद्यांश को पढ़कर पूछे गये प्रश्नों के उत्तर दीजिए।

द्विवेदी जी की बहुत बड़ी शक्ति है, पांडित्य को पीछे रखकर सहज हो पाने की क्षमता। वे बड़ी से बड़ी बात को सरल-सहज शैली में कह कर पाठक का विश्वास अर्जित कर सकते हैं। उनकी शैली अनौपचारिक होती है। उसमें पांडित्य और लोक जीवन का सहज प्रवाह दोनों हैं। जैनेंद्र कुमार, सियारामशरण गुप्त, राहुल सांकृत्यायन, पदुमलाल पुन्नालाल बखशी, बाबू गुलाबराय, सद्गुरुशरण अवस्थी आदि छायावाद युग के अन्य उल्लेखनीय निबंधकार हैं। शिवपूजन सहाय सहज सरल शैली के गद्यकार थे। 'हिमालय', 'बालक' और 'मतवाला' के संपादक के रूप में उन्होंने हिन्दी के उन्नयन में बड़ा महत्वपूर्ण योग दिया है।

Sub questions

Question Number : 81 Question Id : 162653490 Question Type : MCQ Option Shuffling : Yes Display Question Number : Yes Single Line Question Option : No Option Orientation : Vertical

Correct Marks : 1 Wrong Marks : 0.25

गद्यांश में पांडित्य का आशय है:

Options :

1. ✖ धार्मिकता
2. ✖ महानता
3. ✔ विद्वता
4. ✖ मौलिकता

Question Number : 82 Question Id : 162653491 Question Type : MCQ Option Shuffling : Yes Display Question Number : Yes Single Line Question Option : No Option Orientation : Vertical

Correct Marks : 1 Wrong Marks : 0.25

द्विवेदी जी की शैली है:

Options :

1. ✖ औपचारिक
2. ✔ अनौपचारिक
3. ✖ विदग्ध
4. ✖ प्रतीकात्मक

Question Number : 83 Question Id : 162653492 Question Type : MCQ Option Shuffling : Yes Display Question Number : Yes
Single Line Question Option : No Option Orientation : Vertical

Correct Marks : 1 Wrong Marks : 0.25

उल्लिखित युग के निबंधकार नहीं हैं:

Options :

1. ✖ जैनेन्द्र कुमार
2. ✖ राहुल संकृत्यायन
3. ✖ बाबू गुलाब राय
4. ✔ विद्यानिवास मिश्र

Question Number : 84 Question Id : 162653493 Question Type : MCQ Option Shuffling : Yes Display Question Number : Yes
Single Line Question Option : No Option Orientation : Vertical

Correct Marks : 1 Wrong Marks : 0.25

शिवपूजन सहाय किसके संपादक नहीं थे?

Options :

1. ✔ सरस्वती
2. ✖ हिमालय
3. ✖ बालक
4. ✖ मतवाला

Question Number : 85 Question Id : 162653494 Question Type : MCQ Option Shuffling : Yes Display Question Number : Yes
Single Line Question Option : No Option Orientation : Vertical

Correct Marks : 1 Wrong Marks : 0.25

‘उन्नयन’ का अर्थ है:

Options :

1. ✖ हास
2. ✔ विकास
3. ✖ अवरोध
4. ✖ अवमूल्यन

Question Id : 162653489 Question Type : COMPREHENSION Sub Question Shuffling Allowed : Yes Group Comprehension Questions : No

Question Numbers : (81 to 85)

Question Label : Comprehension

नीचे दिये गए गद्यांश को पढ़कर पूछे गये प्रश्नों के उत्तर दीजिए।

द्विवेदी जी की बहुत बड़ी शक्ति है, पांडित्य को पीछे रखकर सहज हो पाने की क्षमता। वे बड़ी से बड़ी बात को सरल-सहज शैली में कह कर पाठक का विश्वास अर्जित कर सकते हैं। उनकी शैली अनौपचारिक होती है। उसमें पांडित्य और लोक जीवन का सहज प्रवाह दोनों हैं। जैनेन्द्र कुमार, सियारामशरण गुप्त, राहुल सांकृत्यायन, पदुमलाल पुन्नालाल बखशी, बाबू गुलाबराय, सद्गुरुशरण अवस्थी आदि छायावाद युग के अन्य उल्लेखनीय निबंधकार हैं। शिवपूजन सहाय सहज सरल शैली के गद्यकार थे। 'हिमालय', 'बालक' और 'मतवाला' के संपादक के रूप में उन्होंने हिन्दी के उन्नयन में बड़ा महत्वपूर्ण योग दिया है।

Sub questions

Question Number : 81 Question Id : 162653490 Question Type : MCQ Option Shuffling : Yes Display Question Number : Yes Single Line Question Option : No Option Orientation : Vertical

Correct Marks : 1 Wrong Marks : 0.25

गद्यांश में पांडित्य का आशय है:

Options :

1. ✖ धार्मिकता
2. ✖ महानता
3. ✔ विद्वता

4. ✖ मौलिकता

Question Number : 82 Question Id : 162653491 Question Type : MCQ Option Shuffling : Yes Display Question Number : Yes
Single Line Question Option : No Option Orientation : Vertical
Correct Marks : 1 Wrong Marks : 0.25

द्विवेदी जी की शैली है:

Options :

1. ✖ औपचारिक
2. ✔ अनौपचारिक
3. ✖ विदग्ध
4. ✖ प्रतीकात्मक

Question Number : 83 Question Id : 162653492 Question Type : MCQ Option Shuffling : Yes Display Question Number : Yes
Single Line Question Option : No Option Orientation : Vertical
Correct Marks : 1 Wrong Marks : 0.25

उल्लिखित युग के निबंधकार नहीं हैं:

Options :

1. ✖ जैनेन्द्र कुमार
2. ✖ राहुल संकृत्यायन
3. ✖ बाबू गुलाब राय
4. ✔ विद्यानिवास मिश्र

Question Number : 84 Question Id : 162653493 Question Type : MCQ Option Shuffling : Yes Display Question Number : Yes
Single Line Question Option : No Option Orientation : Vertical
Correct Marks : 1 Wrong Marks : 0.25

शिवपूजन सहाय किसके संपादक नहीं थे?

Options :

1. ✔ सरस्वती
2. ✖ हिमालय
3. ✖ बालक

4. ✖ मतवाला

Question Number : 85 Question Id : 162653494 Question Type : MCQ Option Shuffling : Yes Display Question Number : Yes
Single Line Question Option : No Option Orientation : Vertical

Correct Marks : 1 Wrong Marks : 0.25

‘उन्नयन’ का अर्थ है:

Options :

1. ✖ ह्रास

2. ✔ विकास

3. ✖ अवरोध

4. ✖ अवमूल्यन

Sub-Section Number: 2
Sub-Section Id: 16265335
Question Shuffling Allowed : Yes

Question Number : 86 Question Id : 162653495 Question Type : MCQ Option Shuffling : Yes Display Question Number : Yes
Single Line Question Option : No Option Orientation : Vertical

Correct Marks : 1 Wrong Marks : 0.25

निम्नलिखित में तत्सम शब्द कौन सा है?

Options :

1. ✔ दुर्लभ

2. ✖ दो

3. ✖ दूब

4. ✖ देवर

Question Number : 86 Question Id : 162653495 Question Type : MCQ Option Shuffling : Yes Display Question Number : Yes
Single Line Question Option : No Option Orientation : Vertical

Correct Marks : 1 Wrong Marks : 0.25

निम्नलिखित में तत्सम शब्द कौन सा है?

Options :

1. ✔ दुर्लभ

2. ✖ दो

3. ✖ दूब

4. ✖ देवर

Question Number : 87 Question Id : 162653496 Question Type : MCQ Option Shuffling : Yes Display Question Number : Yes
Single Line Question Option : No Option Orientation : Vertical

Correct Marks : 1 Wrong Marks : 0.25

निम्नलिखित में कौन सा शब्द तद्रव है?

Options :

1. ✖ ज्वलन

2. ✖ जृम्भिका

3. ✔ जवान

4. ✖ यम

Question Number : 87 Question Id : 162653496 Question Type : MCQ Option Shuffling : Yes Display Question Number : Yes
Single Line Question Option : No Option Orientation : Vertical

Correct Marks : 1 Wrong Marks : 0.25

निम्नलिखित में कौन सा शब्द तद्रव है?

Options :

1. ✖ ज्वलन

2. ✖ जृम्भिका

3. ✔ जवान

4. ✖ यम

Question Number : 88 Question Id : 162653497 Question Type : MCQ Option Shuffling : Yes Display Question Number : Yes
Single Line Question Option : No Option Orientation : Vertical

Correct Marks : 1 Wrong Marks : 0.25

निम्नलिखित में कौन सा शब्द देशज है?

Options :

1. ✖ आफत

2. ✖ अल्ला

3. ✖ कमीशन

4. ✔ ठुमरी

Question Number : 88 Question Id : 162653497 Question Type : MCQ Option Shuffling : Yes Display Question Number : Yes
Single Line Question Option : No Option Orientation : Vertical

Correct Marks : 1 Wrong Marks : 0.25

निम्नलिखित में कौन सा शब्द देशज है?

Options :

1. ✖ आफत

2. ✖ अल्ला

3. ✖ कमीशन

4. ✔ ठुमरी

Question Number : 89 Question Id : 162653498 Question Type : MCQ Option Shuffling : Yes Display Question Number : Yes
Single Line Question Option : No Option Orientation : Vertical

Correct Marks : 1 Wrong Marks : 0.25

‘सफाई’ किस प्रकार का संज्ञा है?

Options :

1. ✖ पदार्थवाचक

2. ✔ भाववाचक

3. ✖ व्यक्तिवाचक

4. ✖ जातिवाचक

Question Number : 89 Question Id : 162653498 Question Type : MCQ Option Shuffling : Yes Display Question Number : Yes
Single Line Question Option : No Option Orientation : Vertical

Correct Marks : 1 Wrong Marks : 0.25

‘सफाई’ किस प्रकार का संज्ञा है?

Options :

1. ✖ पदार्थवाचक

2. ✔ भाववाचक

3. ✖ व्यक्तिवाचक

4. ✖ जातिवाचक

Question Number : 90 Question Id : 162653499 Question Type : MCQ Option Shuffling : Yes Display Question Number : Yes
Single Line Question Option : No Option Orientation : Vertical

Correct Marks : 1 Wrong Marks : 0.25

‘चौड़ा’ किस प्रकार का विशेषण है?

Options :

1. ✖ सार्वनामिक

2. ✖ संख्यावाचक

3. ✖ परिमाण बोधक

4. ✔ गुणवाचक

Question Number : 90 Question Id : 162653499 Question Type : MCQ Option Shuffling : Yes Display Question Number : Yes
Single Line Question Option : No Option Orientation : Vertical

Correct Marks : 1 Wrong Marks : 0.25

‘चौड़ा’ किस प्रकार का विशेषण है?

Options :

1. ✖ सार्वनामिक

2. ✖ संख्यावाचक

3. ✖ परिमाण बोधक

4. ✔ गुणवाचक

Question Number : 91 Question Id : 162653500 Question Type : MCQ Option Shuffling : Yes Display Question Number : Yes
Single Line Question Option : No Option Orientation : Vertical

Correct Marks : 1 Wrong Marks : 0.25

‘उन्मीलित’ का संधि विच्छेद होगा:

Options :

1. ✔ उत् + मीलित

2. ✖ उत् + मलित

3. ✖ उन् + मीलित

4. ✖ उन् + मलित

Question Number : 91 Question Id : 162653500 Question Type : MCQ Option Shuffling : Yes Display Question Number : Yes
Single Line Question Option : No Option Orientation : Vertical

Correct Marks : 1 Wrong Marks : 0.25

‘उन्मीलित’ का संधि विच्छेद होगा:

Options :

1. ✔ उत् + मीलित

2. ✖ उत् + मलित

3. ✖ उन् + मीलित

4. ✖ उन् + मलित

Question Number : 92 Question Id : 162653501 Question Type : MCQ Option Shuffling : Yes Display Question Number : Yes
Single Line Question Option : No Option Orientation : Vertical

Correct Marks : 1 Wrong Marks : 0.25

‘निधङ्क’ में कौन सा समास है?

Options :

1. ✖ द्वंद्व

2. ✖ द्विगु

3. ✔ अव्ययीभाव

4. ✖ तत्पुरुष

Question Number : 92 Question Id : 162653501 Question Type : MCQ Option Shuffling : Yes Display Question Number : Yes
Single Line Question Option : No Option Orientation : Vertical

Correct Marks : 1 Wrong Marks : 0.25

‘निधङ्क’ में कौन सा समास है?

Options :

1. ✖ द्वंद्व

2. ✖ द्विगु

3. ✔ अव्ययीभाव

4. ✖ तत्पुरुष

Question Number : 93 Question Id : 162653502 Question Type : MCQ Option Shuffling : Yes Display Question Number : Yes
Single Line Question Option : No Option Orientation : Vertical

Correct Marks : 1 Wrong Marks : 0.25

निम्नलिखित में से कौन सा शब्द स्त्रीलिंग है?

Options :

1. ✖ संकोच

2. ✖ संगठन

3. ✖ संगम

4. ✔ संवेदना

Question Number : 93 Question Id : 162653502 Question Type : MCQ Option Shuffling : Yes Display Question Number : Yes
Single Line Question Option : No Option Orientation : Vertical

Correct Marks : 1 Wrong Marks : 0.25

निम्नलिखित में से कौन सा शब्द स्त्रीलिंग है?

Options :

1. ✖ संकोच

2. ✖ संगठन

3. ✖ संगम

4. ✔ संवेदना

Question Number : 94 Question Id : 162653503 Question Type : MCQ Option Shuffling : Yes Display Question Number : Yes
Single Line Question Option : No Option Orientation : Vertical

Correct Marks : 1 Wrong Marks : 0.25

‘संहार’ में उपसर्ग है?

Options :

1. ✖ स

2. ✓ सम्

3. ✗ सन्

4. ✗ हार

Question Number : 94 Question Id : 162653503 Question Type : MCQ Option Shuffling : Yes Display Question Number : Yes
Single Line Question Option : No Option Orientation : Vertical
Correct Marks : 1 Wrong Marks : 0.25

‘संहार’ में उपसर्ग है?

Options :

1. ✗ स

2. ✓ सम्

3. ✗ सन्

4. ✗ हार

Question Number : 95 Question Id : 162653504 Question Type : MCQ Option Shuffling : Yes Display Question Number : Yes
Single Line Question Option : No Option Orientation : Vertical
Correct Marks : 1 Wrong Marks : 0.25

‘अनुभवी’ में प्रत्यय है:

Options :

1. ✗ व

2. ✗ वी

3. ✓ ई

4. ✗ अनु

Question Number : 95 Question Id : 162653504 Question Type : MCQ Option Shuffling : Yes Display Question Number : Yes
Single Line Question Option : No Option Orientation : Vertical
Correct Marks : 1 Wrong Marks : 0.25

‘अनुभवी’ में प्रत्यय है:

Options :

1. ✗ व

2. ✖ वी

3. ✔ ई

4. ✖ अनु

Question Number : 96 Question Id : 162653505 Question Type : MCQ Option Shuffling : Yes Display Question Number : Yes
Single Line Question Option : No Option Orientation : Vertical

Correct Marks : 1 Wrong Marks : 0.25

‘यमुना’ का पर्यायवाची नहीं है:

Options :

1. ✔ मन्दाकिनी

2. ✖ कालिन्दी

3. ✖ अर्कजा

4. ✖ कृष्णा

Question Number : 96 Question Id : 162653505 Question Type : MCQ Option Shuffling : Yes Display Question Number : Yes
Single Line Question Option : No Option Orientation : Vertical

Correct Marks : 1 Wrong Marks : 0.25

‘यमुना’ का पर्यायवाची नहीं है:

Options :

1. ✔ मन्दाकिनी

2. ✖ कालिन्दी

3. ✖ अर्कजा

4. ✖ कृष्णा

Question Number : 97 Question Id : 162653506 Question Type : MCQ Option Shuffling : Yes Display Question Number : Yes
Single Line Question Option : No Option Orientation : Vertical

Correct Marks : 1 Wrong Marks : 0.25

‘आरोह’ का विलोम होगा:

Options :

1. ✖ अनारूढ

2. ✖ अपकर्ष

3. ✖ रोह

4. ✔ अवरोह

Question Number : 97 Question Id : 162653506 Question Type : MCQ Option Shuffling : Yes Display Question Number : Yes
Single Line Question Option : No Option Orientation : Vertical
Correct Marks : 1 Wrong Marks : 0.25

‘आरोह’ का विलोम होगा:

Options :

1. ✖ अनारूढ

2. ✖ अपकर्ष

3. ✖ रोह

4. ✔ अवरोह

Question Number : 98 Question Id : 162653507 Question Type : MCQ Option Shuffling : Yes Display Question Number : Yes
Single Line Question Option : No Option Orientation : Vertical
Correct Marks : 1 Wrong Marks : 0.25

‘जो गाये जाने योग्य न हो’ के लिए एक शब्द होगा:

Options :

1. ✖ गेय

2. ✔ अगेय

3. ✖ अज्ञेय

4. ✖ मुक्तछंद

Question Number : 98 Question Id : 162653507 Question Type : MCQ Option Shuffling : Yes Display Question Number : Yes
Single Line Question Option : No Option Orientation : Vertical
Correct Marks : 1 Wrong Marks : 0.25

‘जो गाये जाने योग्य न हो’ के लिए एक शब्द होगा:

Options :

1. ✖ गेय

2. ✓ अगेय

3. ✗ अज्ञेय

4. ✗ मुक्तछंद

Question Number : 99 Question Id : 162653508 Question Type : MCQ Option Shuffling : Yes Display Question Number : Yes
Single Line Question Option : No Option Orientation : Vertical
Correct Marks : 1 Wrong Marks : 0.25

‘सारे देश भर में रोष प्रकट किया गया।’ वाक्य में अशुद्ध अंश है:

Options :

1. ✓ सारे देश भर में

2. ✗ रोष

3. ✗ प्रकट

4. ✗ किया गया।

Question Number : 99 Question Id : 162653508 Question Type : MCQ Option Shuffling : Yes Display Question Number : Yes
Single Line Question Option : No Option Orientation : Vertical
Correct Marks : 1 Wrong Marks : 0.25

‘सारे देश भर में रोष प्रकट किया गया।’ वाक्य में अशुद्ध अंश है:

Options :

1. ✓ सारे देश भर में

2. ✗ रोष

3. ✗ प्रकट

4. ✗ किया गया।

Question Number : 100 Question Id : 162653509 Question Type : MCQ Option Shuffling : Yes Display Question Number : Yes
Single Line Question Option : No Option Orientation : Vertical
Correct Marks : 1 Wrong Marks : 0.25

निम्नलिखित में वर्तनी की दृष्टि से कौन सा शब्द शुद्ध है?

Options :

1. ✗ हस्तछेप

2. ✖ हस्तच्छेप

3. ✔ हस्तक्षेप

4. ✖ हस्थक्षेप

Question Number : 100 Question Id : 162653509 Question Type : MCQ Option Shuffling : Yes Display Question Number : Yes
Single Line Question Option : No Option Orientation : Vertical
Correct Marks : 1 Wrong Marks : 0.25

निम्नलिखित में वर्तनी की दृष्टि से कौन सा शब्द शुद्ध है?

Options :

1. ✖ हस्तछेप

2. ✖ हस्तच्छेप

3. ✔ हस्तक्षेप

4. ✖ हस्थक्षेप

Subject Related

Group Number :	6
Group Id :	16265326
Group Maximum Duration :	0
Group Minimum Duration :	0
Revisit allowed for view? :	No
Revisit allowed for edit? :	No
Break time:	0
Group Marks:	20
Revisit allowed for group Instructions? :	Yes
Maximum Instruction Time:	0
Minimum Instruction Time:	0

Subject Related

Section Id :	16265326
Section Number :	1
Section type :	Online
Mandatory or Optional:	Mandatory
Number of Questions:	20
Number of Questions to be attempted:	20
Section Marks:	20
Display Number Panel:	Yes
Group All Questions:	No

Sub-Section Number: 1
Sub-Section Id: 16265336
Question Shuffling Allowed : Yes

Question Number : 101 Question Id : 162653510 Question Type : MCQ Option Shuffling : Yes Display Question Number : Yes
Single Line Question Option : No Option Orientation : Vertical
Correct Marks : 1 Wrong Marks : 0.25

Universalisation of education means:

Options :

1. ✖ availability of education at any time
2. ✖ availability of education at any place
3. ✖ availability of education at any place or time
4. ✔ availability of education everywhere according to the specific need of the children and place

Question Number : 101 Question Id : 162653510 Question Type : MCQ Option Shuffling : Yes Display Question Number : Yes
Single Line Question Option : No Option Orientation : Vertical
Correct Marks : 1 Wrong Marks : 0.25

शिक्षा के सार्वभौमीकरण का अर्थ है:

Options :

1. ✖ किसी भी समय शिक्षा की उपलब्धता
2. ✖ किसी भी जगह शिक्षा की उपलब्धता
3. ✖ किसी भी स्थान या समय पर शिक्षा की उपलब्धता
4. ✔ शिशुओं और स्थान की विशिष्ट आवश्यकता के अनुसार सर्वत्र शिक्षा की उपलब्धता।

Question Number : 102 Question Id : 162653511 Question Type : MCQ Option Shuffling : Yes Display Question Number : Yes
Single Line Question Option : No Option Orientation : Vertical
Correct Marks : 1 Wrong Marks : 0.25

What is DPEP?

Options :

1. ✖ District Physical Education Programme
2. ✔ District Primary Education Programme

3. ✖ Development of Physical Environment Programme

4. ✖ District Pre-primary Education Programme

Question Number : 102 Question Id : 162653511 Question Type : MCQ Option Shuffling : Yes Display Question Number : Yes
Single Line Question Option : No Option Orientation : Vertical

Correct Marks : 1 Wrong Marks : 0.25

DPEP का पूर्ण रूप क्या है?

Options :

1. ✖ डिस्ट्रिक्ट फिजिकल एजुकेशन प्रोग्राम (District Physical Education Programme)

2. ✔ डिस्ट्रिक्ट प्राइमरी एजुकेशन प्रोग्राम (District Primary Education Programme)

3. ✖ डेवलपमेंट ऑफ़ फिजिकल एनवायरनमेंट प्रोग्राम (Development of Physical Environment Programme)

4. ✖ डिस्ट्रिक्ट प्री-प्राइमरी एजुकेशन प्रोग्राम (District Pre-primary Education Programme)

Question Number : 103 Question Id : 162653512 Question Type : MCQ Option Shuffling : Yes Display Question Number : Yes
Single Line Question Option : No Option Orientation : Vertical

Correct Marks : 1 Wrong Marks : 0.25

The experiential learning style theory is put forth by:

Options :

1. ✔ Kolb

2. ✖ Paiget

3. ✖ Skinner

4. ✖ Vygotsky

Question Number : 103 Question Id : 162653512 Question Type : MCQ Option Shuffling : Yes Display Question Number : Yes
Single Line Question Option : No Option Orientation : Vertical

Correct Marks : 1 Wrong Marks : 0.25

अनुभवात्मक शिक्षा शैली सिद्धांत किसने प्रतिपादित किया है?

Options :

1. ✔ कोल्ब

2. ✖ पियाजे

3. ✖ स्कीनर

4. ✖ वाइगोत्सकी

Question Number : 104 Question Id : 162653513 Question Type : MCQ Option Shuffling : Yes Display Question Number : Yes
Single Line Question Option : No Option Orientation : Vertical

Correct Marks : 1 Wrong Marks : 0.25

E – 9 countries means:

Options :

1. ✖ Economically backward countries

2. ✖ Economically advance countries

3. ✔ High population countries

4. ✖ Electronic countries

Question Number : 104 Question Id : 162653513 Question Type : MCQ Option Shuffling : Yes Display Question Number : Yes
Single Line Question Option : No Option Orientation : Vertical

Correct Marks : 1 Wrong Marks : 0.25

E – 9 देशों का अर्थ है:

Options :

1. ✖ आर्थिक रूप से पिछड़े देश

2. ✖ आर्थिक रूप से उन्नत देश

3. ✔ उच्च जनसंख्या वाले देश

4. ✖ इलेक्ट्रॉनिक देश

Question Number : 105 Question Id : 162653514 Question Type : MCQ Option Shuffling : Yes Display Question Number : Yes
Single Line Question Option : No Option Orientation : Vertical

Correct Marks : 1 Wrong Marks : 0.25

As a teacher, you find a student in your class completes his work to get a star from you. The child:

Options :

1. ✖ is intrinsically motivated

2. ✔ is extrinsically motivated

3. ✖ respects his teacher

4. ✖ fears his teacher

Question Number : 105 Question Id : 162653514 Question Type : MCQ Option Shuffling : Yes Display Question Number : Yes
Single Line Question Option : No Option Orientation : Vertical

Correct Marks : 1 Wrong Marks : 0.25

एक शिक्षक के रूप में आप देखते हैं कि आपकी कक्षा में एक छात्र आपके द्वारा एक स्टार पाने के लिए अपना काम पूरा करता है। वह बच्चा:

Options :

1. ✖ आंतरिक रूप से प्रेरित है

2. ✔ बाह्य रूप से प्रेरित है

3. ✖ अपने शिक्षक का सम्मान करता है

4. ✖ अपने शिक्षक से डरता है

Question Number : 106 Question Id : 162653515 Question Type : MCQ Option Shuffling : Yes Display Question Number : Yes
Single Line Question Option : No Option Orientation : Vertical

Correct Marks : 1 Wrong Marks : 0.25

EL Thorndike's Law of Exercise means:

Options :

1. ✔ Repetition of the activity for more retention

2. ✖ Learning takes place when the student is ready to learn

3. ✖ Learning takes place when the student is rewarded

4. ✖ Learning takes place when the student is punished

Question Number : 106 Question Id : 162653515 Question Type : MCQ Option Shuffling : Yes Display Question Number : Yes
Single Line Question Option : No Option Orientation : Vertical

Correct Marks : 1 Wrong Marks : 0.25

ई.एल. थॉर्नडाइक के अभ्यास नियम का मतलब है:

Options :

1. ✔ अधिक प्रतिधारण के लिए गतिविधि की पुनरावृत्ति

2. ✖ सीखना तब होता है जब विद्यार्थी सीखने के लिए तैयार होते हैं

3. ✖ सीखना तब होता है जब छात्र को पुरस्कृत किया जाता है

4. ✖ सीखना तब होता है जब छात्र को दंडित किया जाता है

Question Number : 107 Question Id : 162653516 Question Type : MCQ Option Shuffling : Yes Display Question Number : Yes
Single Line Question Option : No Option Orientation : Vertical

Correct Marks : 1 Wrong Marks : 0.25

According to Piaget's cognitive development theory, the approximate age for Formal Operational Stage is:

Options :

1. ✖ 0 – 2 years

2. ✖ 2 – 7 years

3. ✖ 7 – 12 years

4. ✔ 12 – 14 years

Question Number : 107 Question Id : 162653516 Question Type : MCQ Option Shuffling : Yes Display Question Number : Yes
Single Line Question Option : No Option Orientation : Vertical

Correct Marks : 1 Wrong Marks : 0.25

पियाजे के संज्ञानात्मक विकास सिद्धांत के अनुसार औपचारिक परिचालन चरण के लिए अनुमानित आयु है:

Options :

1. ✖ 0 - 2 वर्ष

2. ✖ 2 - 7 वर्ष

3. ✖ 7 - 12 वर्ष

4. ✔ 12 - 14 वर्ष

Question Number : 108 Question Id : 162653517 Question Type : MCQ Option Shuffling : Yes Display Question Number : Yes
Single Line Question Option : No Option Orientation : Vertical

Correct Marks : 1 Wrong Marks : 0.25

Which principle of play-way method helps in cultivating self-discipline in students?

Options :

1. ✖ Principle of activity

2. ✖ Principle of creativity

3. ✓ Principle of responsibility

4. ✗ Principle of curiosity

Question Number : 108 Question Id : 162653517 Question Type : MCQ Option Shuffling : Yes Display Question Number : Yes
Single Line Question Option : No Option Orientation : Vertical

Correct Marks : 1 Wrong Marks : 0.25

खेल विधि का कौन सा सिद्धांत छात्रों में आत्म-अनुशासन जागृत करने में मदद करता है?

Options :

1. ✗ गतिविधि का सिद्धांत

2. ✗ रचनात्मकता का सिद्धांत

3. ✓ जिम्मेदारी का सिद्धांत

4. ✗ जिज्ञासा का सिद्धांत

Question Number : 109 Question Id : 162653518 Question Type : MCQ Option Shuffling : Yes Display Question Number : Yes
Single Line Question Option : No Option Orientation : Vertical

Correct Marks : 1 Wrong Marks : 0.25

What are the two dimensions of Kolb's model of learning styles?

Options :

1. ✓ Concrete Experience and Abstract Conceptualisation

2. ✗ Reflective Observation and Active Experimentation

3. ✗ Concrete Experience and Active Experimentation

4. ✗ Abstract Conceptualisation and Reflective Observation

Question Number : 109 Question Id : 162653518 Question Type : MCQ Option Shuffling : Yes Display Question Number : Yes
Single Line Question Option : No Option Orientation : Vertical

Correct Marks : 1 Wrong Marks : 0.25

कोल्ब के शिक्षण शैली मॉडल के दो आयाम कौन-से हैं?

Options :

1. ✓ ठोस अनुभव और सार अवधारण

2. ✗ प्रतिबिंबित संप्रेक्षण और सक्रिय प्रयोग

3. ✖ ठोस अनुभव और सक्रिय प्रयोग

4. ✖ सार अवधारणा और प्रतिबिंबित संप्रेक्षण

Question Number : 110 Question Id : 162653519 Question Type : MCQ Option Shuffling : Yes Display Question Number : Yes
Single Line Question Option : No Option Orientation : Vertical

Correct Marks : 1 Wrong Marks : 0.25

In language learning, associating words with pictures or meanings is an example of:

Options :

1. ✔ Classical conditioning

2. ✖ Trial and error

3. ✖ Principle of readiness

4. ✖ Principle of exercise

Question Number : 110 Question Id : 162653519 Question Type : MCQ Option Shuffling : Yes Display Question Number : Yes
Single Line Question Option : No Option Orientation : Vertical

Correct Marks : 1 Wrong Marks : 0.25

भाषा सीखने में चित्रों या अर्थों के साथ शब्दों को जोड़ना _____ का एक उदाहरण है.

Options :

1. ✔ शास्त्रीय अनुकूलन

2. ✖ परीक्षण एवं त्रुटि विधि

3. ✖ तत्परता का सिद्धांत

4. ✖ अभ्यास का सिद्धांत

Question Number : 111 Question Id : 162653520 Question Type : MCQ Option Shuffling : Yes Display Question Number : Yes
Single Line Question Option : No Option Orientation : Vertical

Correct Marks : 1 Wrong Marks : 0.25

The concept of reinforcement and behaviour modifications was given by:

Options :

1. ✖ Vygotsky

2. ✔ Skinner

3. ✖ Piaget

4. ✖ Thorndike

Question Number : 111 Question Id : 162653520 Question Type : MCQ Option Shuffling : Yes Display Question Number : Yes
Single Line Question Option : No Option Orientation : Vertical

Correct Marks : 1 Wrong Marks : 0.25

संवर्धन और व्यवहार में संशोधन की अवधारणा किसकी है?

Options :

1. ✖ वाइगोत्सकी

2. ✔ स्कीनर

3. ✖ पियाजे

4. ✖ थॉर्नडाइक

Question Number : 112 Question Id : 162653521 Question Type : MCQ Option Shuffling : Yes Display Question Number : Yes
Single Line Question Option : No Option Orientation : Vertical

Correct Marks : 1 Wrong Marks : 0.25

_____ proposed that learning can happen by observing others (Social learning).

Options :

1. ✖ Jerome Brunner

2. ✖ Gardener

3. ✔ Albert Bandura

4. ✖ Chomsky

Question Number : 112 Question Id : 162653521 Question Type : MCQ Option Shuffling : Yes Display Question Number : Yes
Single Line Question Option : No Option Orientation : Vertical

Correct Marks : 1 Wrong Marks : 0.25

_____ ने प्रस्तावित किया कि सीखना दूसरों को देखकर हो सकता है (सामाजिक शिक्षा)

Options :

1. ✖ जेरोम ब्रूनर

2. ✖ गार्डनर

3. ✓ अल्बर्ट बंडूरा

4. ✗ चोमस्की

Question Number : 113 Question Id : 162653522 Question Type : MCQ Option Shuffling : Yes Display Question Number : Yes
Single Line Question Option : No Option Orientation : Vertical
Correct Marks : 1 Wrong Marks : 0.25

‘Zone of Proximal Development’ stated by Vygotsky means:

Options :

1. ✗ a child can do any new task on her/his own
2. ✓ a child needs assistance to complete a task initially
3. ✗ a child is not capable of doing a new task
4. ✗ a child is not cognitively developed

Question Number : 113 Question Id : 162653522 Question Type : MCQ Option Shuffling : Yes Display Question Number : Yes
Single Line Question Option : No Option Orientation : Vertical
Correct Marks : 1 Wrong Marks : 0.25

वाइगोत्सकी द्वारा वर्णित 'निकटतम विकास क्षेत्र' (Zone of proximal development) का अर्थ है:

Options :

1. ✗ बच्चा अपने आप कोई नया काम कर सकता है
2. ✓ शुरुआत में एक कार्य को पूरा करने के लिए बच्चे को सहायता चाहिए
3. ✗ बच्चा एक नया काम करने में सक्षम नहीं है
4. ✗ बच्चा संज्ञानात्मक रूप से विकसित नहीं है

Question Number : 114 Question Id : 162653523 Question Type : MCQ Option Shuffling : Yes Display Question Number : Yes
Single Line Question Option : No Option Orientation : Vertical
Correct Marks : 1 Wrong Marks : 0.25

In learner centered approach, the teacher plays:

Options :

1. ✗ a dominant role
2. ✓ a passive role

3. ✖ an active role
4. ✖ a detached role

Question Number : 114 Question Id : 162653523 Question Type : MCQ Option Shuffling : Yes Display Question Number : Yes
Single Line Question Option : No Option Orientation : Vertical

Correct Marks : 1 Wrong Marks : 0.25

ज्ञानार्जक केंद्रित दृष्टिकोण में शिक्षक _____अदा करता है.

Options :

1. ✖ एक प्रमुख भूमिका
2. ✔ एक निष्क्रिय भूमिका
3. ✖ एक सक्रिय भूमिका
4. ✖ एक अनासक्त भूमिका

Question Number : 115 Question Id : 162653524 Question Type : MCQ Option Shuffling : Yes Display Question Number : Yes
Single Line Question Option : No Option Orientation : Vertical

Correct Marks : 1 Wrong Marks : 0.25

A teacher can enhance effective learning in the classroom by:

Options :

1. ✖ giving rewards
2. ✔ relating the content to real life situations
3. ✖ conducting frequent tests
4. ✖ motivation

Question Number : 115 Question Id : 162653524 Question Type : MCQ Option Shuffling : Yes Display Question Number : Yes
Single Line Question Option : No Option Orientation : Vertical

Correct Marks : 1 Wrong Marks : 0.25

शिक्षक _____ कक्षा में प्रभावी शिक्षण बढ़ा सकता है.

Options :

1. ✖ पुरस्कार देकर
2. ✔ शिक्षा के सामग्री को वास्तविक जीवन स्थितियों से जोड़कर

3. ✖ लगातार परीक्षण आयोजित कर

4. ✖ प्रेरणा से

Question Number : 116 Question Id : 162653525 Question Type : MCQ Option Shuffling : Yes Display Question Number : Yes
Single Line Question Option : No Option Orientation : Vertical

Correct Marks : 1 Wrong Marks : 0.25

_____ is an effective method to encourage conceptual development in children.

Options :

1. ✔ Giving multiple examples to students and encouraging the use of reasoning

2. ✖ Asking students to memorize

3. ✖ The teacher giving all probable reasoning

4. ✖ No examples being given by the teacher to link new information

Question Number : 116 Question Id : 162653525 Question Type : MCQ Option Shuffling : Yes Display Question Number : Yes
Single Line Question Option : No Option Orientation : Vertical

Correct Marks : 1 Wrong Marks : 0.25

_____ बच्चों में वैचारिक विकास को प्रोत्साहित करने के लिए एक प्रभावी तरीका है

Options :

1. ✔ छात्रों को कई उदाहरण देना और तर्क का उपयोग करने के लिए प्रोत्साहित करना

2. ✖ छात्रों को याद रखने के लिए कहना

3. ✖ शिक्षक का सभी संभावित तर्क देना

4. ✖ नई जानकारी को जोड़ने के लिए शिक्षक द्वारा कोई उदाहरण नहीं दिया जाना

Question Number : 117 Question Id : 162653526 Question Type : MCQ Option Shuffling : Yes Display Question Number : Yes
Single Line Question Option : No Option Orientation : Vertical


Correct Marks : 1 Wrong Marks : 0.25


According to Lawrence Kohlberg, a teacher can instill moral values in children by:

Options :

1. ✖ punishing them

2. ✖ stating clear conduct rules

3.  involving children in discussions on moral issues


4.  making children listen to religious stories


Question Number : 117 Question Id : 162653526 Question Type : MCQ Option Shuffling : Yes Display Question Number : Yes
Single Line Question Option : No Option Orientation : Vertical


Correct Marks : 1 Wrong Marks : 0.25


लॉरेंस कोह्लबर्ग के अनुसार एक शिक्षक बच्चों को _____ नैतिक मूल्यों की शिक्षा दे सकता है

Options :

1.  दंड के माध्यम से

2.  स्पष्ट आचरण नियम बताकर

3.  नैतिक मुद्दों पर चर्चा में बच्चों को शामिल करके


4.  बच्चों को धार्मिक कहानियां सुनाकर


Question Number : 118 Question Id : 162653527 Question Type : MCQ Option Shuffling : Yes Display Question Number : Yes
Single Line Question Option : No Option Orientation : Vertical


Correct Marks : 1 Wrong Marks : 0.25


It is proven that individual attention in classroom is important in teaching - learning process because:

Options :

1.  teachers can easily discipline students

2.  children develop and learn at different rates

3.  teacher training programmes insist on it


4.  children learn better in groups


Question Number : 118 Question Id : 162653527 Question Type : MCQ Option Shuffling : Yes Display Question Number : Yes
Single Line Question Option : No Option Orientation : Vertical

Correct Marks : 1 Wrong Marks : 0.25

यह सिद्ध है कि कक्षा में व्यक्तिगत ध्यान शिक्षण -सीखने की प्रक्रिया में महत्वपूर्ण होता है क्योंकि:

Options :

1.  शिक्षक छात्रों को आसानी से अनुशासित कर सकता है

2.  बच्चे विभिन्न दरों पर विकसित होते हैं और सीखते हैं

3. ✖ शिक्षक प्रशिक्षण कार्यक्रम इस पर जोर देता है

4. ✖ बच्चे समूहों में बेहतर सीखते हैं

Question Number : 119 Question Id : 162653528 Question Type : MCQ Option Shuffling : Yes Display Question Number : Yes
Single Line Question Option : No Option Orientation : Vertical

Correct Marks : 1 Wrong Marks : 0.25

To think 'out of the box' is:

Options :

1. ✖ memory based thinking

2. ✖ convergent thinking

3. ✖ focussed thinking

4. ✔ divergent thinking

Question Number : 119 Question Id : 162653528 Question Type : MCQ Option Shuffling : Yes Display Question Number : Yes
Single Line Question Option : No Option Orientation : Vertical

Correct Marks : 1 Wrong Marks : 0.25

लीक से हटकर सोचना _____ है.

Options :

1. ✖ स्मृति आधारित सोच

2. ✖ अभिसारी सोच

3. ✖ संकेंद्रित सोच

4. ✔ अलग सोच

Question Number : 120 Question Id : 162653529 Question Type : MCQ Option Shuffling : Yes Display Question Number : Yes
Single Line Question Option : No Option Orientation : Vertical

Correct Marks : 1 Wrong Marks : 0.25

Fitting new information into existing schemes is called:

Options :

1. ✔ Assimilation

2. ✖ Accommodation

3. ✖ Organisation

4. ✖ Equilibration

Question Number : 120 Question Id : 162653529 Question Type : MCQ Option Shuffling : Yes Display Question Number : Yes
Single Line Question Option : No Option Orientation : Vertical

Correct Marks : 1 Wrong Marks : 0.25

मौजूदा स्कीमा में नई जानकारी को फिट करने को क्या कहा जाता है?

Options :

1. ✔ स्वांगीकरण

2. ✖ समायोजन

3. ✖ संगठन

4. ✖ संतुलन

Subject Related

Group Number :	7
Group Id :	16265327
Group Maximum Duration :	0
Group Minimum Duration :	0
Revisit allowed for view? :	No
Revisit allowed for edit? :	No
Break time:	0
Group Marks:	20
Revisit allowed for group Instructions? :	Yes
Maximum Instruction Time:	0
Minimum Instruction Time:	0

Subject Related

Section Id :	16265327
Section Number :	1
Section type :	Online
Mandatory or Optional:	Mandatory
Number of Questions:	20
Number of Questions to be attempted:	20
Section Marks:	20
Display Number Panel:	Yes
Group All Questions:	No

Sub-Section Number: 1
Sub-Section Id: 16265337
Question Shuffling Allowed : Yes

Question Number : 121 Question Id : 162653530 Question Type : MCQ Option Shuffling : Yes Display Question Number : Yes
Single Line Question Option : No Option Orientation : Vertical

Correct Marks : 1 Wrong Marks : 0.25

Children have the potential to assimilate knowledge and make meaning of them. From this perspective what is the role of a teacher?

Options :

1. ✖ Lecturer
2. ✔ Facilitator
3. ✖ Demonstrator
4. ✖ Director

Question Number : 121 Question Id : 162653530 Question Type : MCQ Option Shuffling : Yes Display Question Number : Yes
Single Line Question Option : No Option Orientation : Vertical

Correct Marks : 1 Wrong Marks : 0.25

बच्चों के पास ज्ञान को आत्मसात करने और अर्थ निकालने की क्षमता है। इस परिप्रेक्ष्य में शिक्षक की भूमिका क्या है?

Options :

1. ✖ व्याख्याता
2. ✔ सूत्रधार
3. ✖ प्रदर्शक
4. ✖ निदेशक

Question Number : 122 Question Id : 162653531 Question Type : MCQ Option Shuffling : Yes Display Question Number : Yes
Single Line Question Option : No Option Orientation : Vertical

Correct Marks : 1 Wrong Marks : 0.25

Suresh, a student of class VI, learns by doing and finds it difficult to follow when the teacher is only explaining. What teaching-learning strategy the teacher has to use in her mixed class?

Options :

1. ✖ Play-way method
2. ✖ Demonstration method
3. ✖ Visual method
4. ✔ Differentiated method

Question Number : 122 Question Id : 162653531 Question Type : MCQ Option Shuffling : Yes Display Question Number : Yes
Single Line Question Option : No Option Orientation : Vertical

Correct Marks : 1 Wrong Marks : 0.25

कक्षा VI का छात्र सुरेश काम करते हुए सीखता है और जब शिक्षक केवल समझाता है तो उसका अनुसरण करने में उसे कठिनाई होती है. शिक्षक को अपनी मिश्रित कक्षा में किस शिक्षण-अधिगम रणनीति का उपयोग करना चाहिए?

Options :

1. ✖ खेल विधि
2. ✖ प्रदर्शन विधि
3. ✖ दृश्य विधि
4. ✔ विभेदित विधि

Question Number : 123 Question Id : 162653532 Question Type : MCQ Option Shuffling : Yes Display Question Number : Yes
Single Line Question Option : No Option Orientation : Vertical

Correct Marks : 1 Wrong Marks : 0.25

Following are the characteristics of Adult Education EXCEPT that:

Options :

1. ✖ it is a continuing education programme
2. ✖ it is need based
3. ✔ it is a formal degree programme
4. ✖ it may include job skills training

Question Number : 123 Question Id : 162653532 Question Type : MCQ Option Shuffling : Yes Display Question Number : Yes
Single Line Question Option : No Option Orientation : Vertical

Correct Marks : 1 Wrong Marks : 0.25

प्रौढ़ शिक्षा की विशेषताएं निम्नलिखित सभी हैं, शिवाय: -

Options :

1. ✖ यह एक सतत शिक्षा कार्यक्रम है
2. ✖ यह आवश्यकता आधारित है
3. ✔ यह औपचारिक डिग्री प्रोग्राम है
4. ✖ इसमें कार्य कौशल प्रशिक्षण शामिल हो सकता है

Question Number : 124 Question Id : 162653533 Question Type : MCQ Option Shuffling : Yes Display Question Number : Yes
Single Line Question Option : No Option Orientation : Vertical
Correct Marks : 1 Wrong Marks : 0.25

The most important characteristic of distance learning is that this teaching occurs where _____.

Options :

1. ✖ the teacher and students are at a distance
2. ✔ the teacher and the student are in separate time and space
3. ✖ the students take charge of their own learning
4. ✖ the teacher guides students using media

Question Number : 124 Question Id : 162653533 Question Type : MCQ Option Shuffling : Yes Display Question Number : Yes
Single Line Question Option : No Option Orientation : Vertical
Correct Marks : 1 Wrong Marks : 0.25

दूरस्थ शिक्षा की सबसे महत्वपूर्ण विशेषता यह है कि यह शिक्षण वहां होता है जहां _____।

Options :

1. ✖ शिक्षक और छात्र दूरस्थ हैं
2. ✔ शिक्षक और छात्र अलग समय और स्थान में हैं
3. ✖ छात्र अपने स्वयं के शिक्षण का प्रभार लेते हैं
4. ✖ शिक्षक मीडिया का उपयोग कर छात्रों को मार्गदर्शन करता है

Question Number : 125 Question Id : 162653534 Question Type : MCQ Option Shuffling : Yes Display Question Number : Yes
Single Line Question Option : No Option Orientation : Vertical
Correct Marks : 1 Wrong Marks : 0.25

_____ are the main measures taken to improve effective increase in the enrolment of girls in schools.

Options :

1. ✔ Scholarships, stipends, female teacher recruitment,
2. ✖ Gender-targeted provision of materials
3. ✖ Conditional cash transfers, free meals
4. ✖ Parent counselling, free ships

Question Number : 125 Question Id : 162653534 Question Type : MCQ Option Shuffling : Yes Display Question Number : Yes
Single Line Question Option : No Option Orientation : Vertical

Correct Marks : 1 Wrong Marks : 0.25

विद्यालय में लड़कियों के नामांकन में प्रभावी वृद्धि में सुधार के लिए किए गए मुख्य उपाय _____ हैं।

Options :

1. ✓ छात्रवृत्ति, छात्रवृत्ति, महिला शिक्षक भर्ती,
2. ✗ सामग्रियों के लिंग-लक्षित प्रावधान
3. ✗ सशर्त नकदी अंतरण, मुफ्त भोजन
4. ✗ माता-पिता को परामर्श, स्वतंत्रता

Question Number : 126 Question Id : 162653535 Question Type : MCQ Option Shuffling : Yes Display Question Number : Yes
Single Line Question Option : No Option Orientation : Vertical

Correct Marks : 1 Wrong Marks : 0.25

Which of the following statements is NOT TRUE in case of adult education?

Options :

1. ✓ It is subject-centered rather than problem-centered
2. ✗ It is more self-directed and requires less guidance
3. ✗ It requires learners, ready to learn and primed to learn what they need to know
4. ✗ It needs internal motivation

Question Number : 126 Question Id : 162653535 Question Type : MCQ Option Shuffling : Yes Display Question Number : Yes
Single Line Question Option : No Option Orientation : Vertical

Correct Marks : 1 Wrong Marks : 0.25

प्रौढ़ शिक्षा के संबंध में निम्नलिखित में से कौन सा कथन सत्य नहीं है?

Options :

1. ✓ यह समस्या केंद्रित के बजाय विषय केंद्रित है
2. ✗ यह अधिक आत्म-निर्देशित है और कम मार्गदर्शन की आवश्यकता होती है
3. ✗ यह सीखने वालों से सीखने के लिए तैयार रहने की अपेक्षा करती है और उन्हें यह जानने के लिए प्राथमिकता दी जाती है कि उन्हें क्या जानने की आवश्यकता है
4. ✗ इसमें आंतरिक प्रेरणा की आवश्यकता है

Question Number : 127 Question Id : 162653536 Question Type : MCQ Option Shuffling : Yes Display Question Number : Yes
Single Line Question Option : No Option Orientation : Vertical

Correct Marks : 1 Wrong Marks : 0.25

NCF was initiated by setting up National Steering Committee National Focus Groups on the themes of.

Options :

1. ✖ curriculum changes, admission policies and national integration
2. ✖ curriculum development, assessment and evaluation
3. ✔ curricular areas, systemic reforms and national concerns
4. ✖ Curriculum reforms, ongoing practices and innovation

Question Number : 127 Question Id : 162653536 Question Type : MCQ Option Shuffling : Yes Display Question Number : Yes
Single Line Question Option : No Option Orientation : Vertical

Correct Marks : 1 Wrong Marks : 0.25

राष्ट्रीय पाठ्यचर्या की रूपरेखा (NCF) की शुरुआत _____ के विषयों पर राष्ट्रीय संचालन समिति राष्ट्रीय फोकस समूह की स्थापना करके की गई थी।

Options :

1. ✖ पाठ्यचर्या में परिवर्तन, प्रवेश नीतियां और राष्ट्रीय एकीकरण
2. ✖ पाठ्यचर्या विकास, आकलन और मूल्यांकन
3. ✔ पाठ्यचर्या क्षेत्रों, व्यवस्थित सुधार और राष्ट्रीय चिंताओं
4. ✖ पाठ्यचर्या सुधार, प्रचलित प्रथाओं और नवाचार

Question Number : 128 Question Id : 162653537 Question Type : MCQ Option Shuffling : Yes Display Question Number : Yes
Single Line Question Option : No Option Orientation : Vertical

Correct Marks : 1 Wrong Marks : 0.25

These are the major features of NPE (1986), EXCEPT:

Options :

1. ✖ Important role of education
2. ✖ National system of education
3. ✖ Education for equality
4. ✔ Reorganisation of teaching hierarchy

Question Number : 128 Question Id : 162653537 Question Type : MCQ Option Shuffling : Yes Display Question Number : Yes
Single Line Question Option : No Option Orientation : Vertical

Correct Marks : 1 Wrong Marks : 0.25

राष्ट्रीय शिक्षा नीति (1986) की प्रमुख विशेषताएं निम्नलिखित हैं, सिवाए: -

Options :

1. ✖ शिक्षा की महत्वपूर्ण भूमिका के
2. ✖ शिक्षा की राष्ट्रीय प्रणाली के
3. ✖ समानता के लिए शिक्षा के
4. ✔ शिक्षण पदानुक्रम का पुनर्गठन के

Question Number : 129 Question Id : 162653538 Question Type : MCQ Option Shuffling : Yes Display Question Number : Yes
Single Line Question Option : No Option Orientation : Vertical

Correct Marks : 1 Wrong Marks : 0.25

'Aborigins' or 'aboriginals' are now identified as _____.

Options :

1. ✖ primitives
2. ✔ scheduled tribes
3. ✖ adivasis
4. ✖ vana jatis

Question Number : 129 Question Id : 162653538 Question Type : MCQ Option Shuffling : Yes Display Question Number : Yes
Single Line Question Option : No Option Orientation : Vertical

Correct Marks : 1 Wrong Marks : 0.25

'आदिवासी' (aborngas) अब _____Q के रूप में पहचाने जाते हैं

Options :

1. ✖ पुरातन
2. ✔ अनुसूचित जनजाति
3. ✖ आदिवासी
4. ✖ वन जाति

Question Number : 130 Question Id : 162653539 Question Type : MCQ Option Shuffling : Yes Display Question Number : Yes
Single Line Question Option : No Option Orientation : Vertical

Correct Marks : 1 Wrong Marks : 0.25

Religion, gender, economic background and even learning styles are all notable factors of _____ in schools.

Options :

1. ✖ culture
2. ✖ personality
3. ✖ environment
4. ✔ diversity

Question Number : 130 Question Id : 162653539 Question Type : MCQ Option Shuffling : Yes Display Question Number : Yes
Single Line Question Option : No Option Orientation : Vertical

Correct Marks : 1 Wrong Marks : 0.25

धर्म, लिंग, आर्थिक पृष्ठभूमि और यहां तक कि सीखने की शैलियां भी स्कूलों में _____ के उल्लेखनीय कारक हैं।

Options :

1. ✖ संस्कृति
2. ✖ व्यक्तित्व
3. ✖ परिवेश
4. ✔ विविधता

Question Number : 131 Question Id : 162653540 Question Type : MCQ Option Shuffling : Yes Display Question Number : Yes
Single Line Question Option : No Option Orientation : Vertical

Correct Marks : 1 Wrong Marks : 0.25

The basic principle of inclusion is:

Options :

1. ✖ mainstreaming disabled students
2. ✖ need based teaching learning
3. ✖ student centric teaching learning
4. ✔ right to access and participate in education

Question Number : 131 Question Id : 162653540 Question Type : MCQ Option Shuffling : Yes Display Question Number : Yes
Single Line Question Option : No Option Orientation : Vertical

Correct Marks : 1 Wrong Marks : 0.25

समावेशन का मूल सिद्धांत है:

Options :

1. ✖ अक्षम छात्रों को मुख्यधारा में लाना
2. ✖ आवश्यकता आधारित शिक्षण अधिगम की आवश्यकता है
3. ✖ छात्र केंद्रित शिक्षण अधिगम
4. ✔ शिक्षा तक पहुंच और उसमें भाग लेने का अधिकार

Question Number : 132 Question Id : 162653541 Question Type : MCQ Option Shuffling : Yes Display Question Number : Yes
Single Line Question Option : No Option Orientation : Vertical

Correct Marks : 1 Wrong Marks : 0.25

IEP stands for:

Options :

1. ✖ Instructional Evaluation Programme
2. ✔ Individualized Education Plan
3. ✖ Independent Education Plan
4. ✖ Institutional Evaluation Programme

Question Number : 132 Question Id : 162653541 Question Type : MCQ Option Shuffling : Yes Display Question Number : Yes
Single Line Question Option : No Option Orientation : Vertical

Correct Marks : 1 Wrong Marks : 0.25

IEP का पूर्ण रूप है:

Options :

1. ✖ इन्स्ट्रक्शनल ईवैल्यूएशन प्रोग्राम (Instructional Evaluation Programme)
2. ✔ इन्डिविजलाइज्ड एजुकेशन प्लान (Individualized Education Plan)
3. ✖ इन्डिपेन्डेंट एजुकेशन प्लान (Independent Education Plan)
4. ✖ इन्स्टिट्यूशनल ईवैल्यूएशन प्रोग्राम (Institutional Evaluation Programme)

Question Number : 133 Question Id : 162653542 Question Type : MCQ Option Shuffling : Yes Display Question Number : Yes
Single Line Question Option : No Option Orientation : Vertical

Correct Marks : 1 Wrong Marks : 0.25

Following are the barriers in inclusive education, EXCEPT:

Options :

1. ☒ Educational policies
2. ☐ Lack of physical facilities
3. ☐ Lack of trained teachers
4. ☐ Social discrimination

Question Number : 133 Question Id : 162653542 Question Type : MCQ Option Shuffling : Yes Display Question Number : Yes
Single Line Question Option : No Option Orientation : Vertical

Correct Marks : 1 Wrong Marks : 0.25

समावेशी शिक्षा में निम्नलिखित बाधाएं हैं, सिवाए:

Options :

1. ☒ शैक्षणिक नीतियों के
2. ☐ भौतिक सुविधाओं की कमी के
3. ☐ प्रशिक्षित शिक्षकों की कमी के
4. ☐ सामाजिक भेदभाव के

Question Number : 134 Question Id : 162653543 Question Type : MCQ Option Shuffling : Yes Display Question Number : Yes
Single Line Question Option : No Option Orientation : Vertical

Correct Marks : 1 Wrong Marks : 0.25

The statement by _____ affirms: "Those with special educational needs must have access to regular schools which should accommodate them within child centered pedagogy capable of meeting these needs."

Options :

1. ☐ The National Trust Act, 1999
2. ☒ The Salamanca Statement and Framework for Action, 1994
3. ☐ The Persons with Disabilities Act, 1995
4. ☐ The National Policy on Education, 1986

Question Number : 134 Question Id : 162653543 Question Type : MCQ Option Shuffling : Yes Display Question Number : Yes
Single Line Question Option : No Option Orientation : Vertical

Correct Marks : 1 Wrong Marks : 0.25

_____ का प्रकथन दिए गए बात की पुष्टि करता है: "विशेष शैक्षिक आवश्यकताओं वाले लोगों की नियमित स्कूलों तक पहुंच होनी चाहिए, जिन्हें इन आवश्यकताओं को पूरा करने में सक्षम बाल केंद्रित शिक्षा के भीतर उन्हें समायोजित करना चाहिए"।

Options :

1. ✖ राष्ट्रीय न्यास अधिनियम, 1999
2. ✔ सलामंका स्टेटमेंट एंड फ्रेमवर्क फॉर एक्शन, 1994
3. ✖ विकलांग व्यक्ति अधिनियम, 1995
4. ✖ राष्ट्रीय शिक्षा नीति, (1986)

Question Number : 135 Question Id : 162653544 Question Type : MCQ Option Shuffling : Yes Display Question Number : Yes
Single Line Question Option : No Option Orientation : Vertical

Correct Marks : 1 Wrong Marks : 0.25

Which of the following could possibly influence curriculum decisions?

Options :

1. ✔ Pedagogical literature
2. ✖ Political agenda
3. ✖ Social transition
4. ✖ Personal interests

Question Number : 135 Question Id : 162653544 Question Type : MCQ Option Shuffling : Yes Display Question Number : Yes
Single Line Question Option : No Option Orientation : Vertical

Correct Marks : 1 Wrong Marks : 0.25

निम्नलिखित में से कौन सा संभवतः पाठ्यचर्या निर्णयों को प्रभावित कर सकता है?

Options :

1. ✔ शैक्षिक साहित्य
2. ✖ राजनीतिक एजेंडा
3. ✖ सामाजिक संक्रमण

4. ✖ निजी हित

Question Number : 136 Question Id : 162653545 Question Type : MCQ Option Shuffling : Yes Display Question Number : Yes
Single Line Question Option : No Option Orientation : Vertical
Correct Marks : 1 Wrong Marks : 0.25

What is curriculum?

Options :

1. ✖ Curricular and extra-curricular activities
2. ✖ School subjects, experiences, activities, interpersonal relationships
3. ✔ Content, objectives, course, programme, experience, activities, relationships, skills, behaviour
4. ✖ Course, objectives, methods, evaluation

Question Number : 136 Question Id : 162653545 Question Type : MCQ Option Shuffling : Yes Display Question Number : Yes
Single Line Question Option : No Option Orientation : Vertical
Correct Marks : 1 Wrong Marks : 0.25

पाठ्यचर्या क्या है?

Options :

1. ✖ पाठ्यचर्या और पाठ्यचर्येतर कार्यकलाप
2. ✖ स्कूली विषयों, अनुभव, कार्यकलाप, पारस्परिक संबंध
3. ✔ सामग्री, उद्देश्यों, पाठ्यक्रम, कार्यक्रम, अनुभव, कार्यकलाप, संबंध, कौशल, व्यवहार
4. ✖ पाठ्यक्रम, उद्देश्य, विधियां, मूल्यांकन

Question Number : 137 Question Id : 162653546 Question Type : MCQ Option Shuffling : Yes Display Question Number : Yes
Single Line Question Option : No Option Orientation : Vertical
Correct Marks : 1 Wrong Marks : 0.25

Students study social experiences and solve problems.

Which approach is observed in the above statement?

Options :

1. ✔ Experientialism
2. ✖ Idealism

3. ✖ Constructivism

4. ✖ Realism

Question Number : 137 Question Id : 162653546 Question Type : MCQ Option Shuffling : Yes Display Question Number : Yes
Single Line Question Option : No Option Orientation : Vertical

Correct Marks : 1 Wrong Marks : 0.25

छात्र सामाजिक अनुभवों का अध्ययन करते हैं और समस्याओं का समाधान करते हैं। उपरोक्त कथन में कौन सा दृष्टिकोण पाया जाता है?

Options :

1. ✔ अनुभववाद

2. ✖ आदर्शवाद

3. ✖ रचनावाद

4. ✖ यथार्थवाद

Question Number : 138 Question Id : 162653547 Question Type : MCQ Option Shuffling : Yes Display Question Number : Yes
Single Line Question Option : No Option Orientation : Vertical

Correct Marks : 1 Wrong Marks : 0.25

Which age is appropriate for primary school as per Indian school curriculum?

Options :

1. ✖ Age 3 to 5 years

2. ✔ Age 6 to 9 years

3. ✖ Age 5 to 8 years

4. ✖ Age 6 to 10 years

Question Number : 138 Question Id : 162653547 Question Type : MCQ Option Shuffling : Yes Display Question Number : Yes
Single Line Question Option : No Option Orientation : Vertical

Correct Marks : 1 Wrong Marks : 0.25

भारतीय स्कूल पाठ्यक्रम के अनुसार प्राथमिक विद्यालय के लिए कौन सी आयु उचित है?

Options :

1. ✖ 3 से 5 वर्ष की आयु

2. ✔ 6 से 9 वर्ष की आयु

3. ✖ 5 से 8 वर्ष की आयु

4. ✖ 6 से 10 वर्ष की आयु

Question Number : 139 Question Id : 162653548 Question Type : MCQ Option Shuffling : Yes Display Question Number : Yes
Single Line Question Option : No Option Orientation : Vertical

Correct Marks : 1 Wrong Marks : 0.25

What is BYOD approach in ICT?

Options :

1. ✖ Beyond Output Devices

2. ✖ Best Youth Optical Devices

3. ✔ Bring Your Own Devices

4. ✖ Bring Your Output Devices

Question Number : 139 Question Id : 162653548 Question Type : MCQ Option Shuffling : Yes Display Question Number : Yes
Single Line Question Option : No Option Orientation : Vertical

Correct Marks : 1 Wrong Marks : 0.25

ICT में BYOD दृष्टिकोण क्या है?

Options :

1. ✖ बिऑन्ड आउटपुट डिवाइस (Beyond Output Devices)

2. ✖ बेस्ट यूथ ऑप्टिकल डिवाइस (Best Youth Optical Devices)

3. ✔ ब्रिंग योर ओन डिवाइस (Bring Your Own Devices)

4. ✖ ब्रिंग योर आउटपुट डिवाइस (Bring Your Output Devices)

Question Number : 140 Question Id : 162653549 Question Type : MCQ Option Shuffling : Yes Display Question Number : Yes
Single Line Question Option : No Option Orientation : Vertical

Correct Marks : 1 Wrong Marks : 0.25

What is important in ICT supported teaching learning strategies?

Options :

1. ✖ Clear objectives

2. ✖ Assessment plans

3. ✖ Animation techniques

4. ✔ Clear instructions

Question Number : 140 Question Id : 162653549 Question Type : MCQ Option Shuffling : Yes Display Question Number : Yes
Single Line Question Option : No Option Orientation : Vertical
Correct Marks : 1 Wrong Marks : 0.25

आईसीटी (ICT) समर्थित शिक्षण अधिगम रणनीतियों में महत्वपूर्ण क्या है?

Options :

1. ✖ स्पष्ट उद्देश्य

2. ✖ आकलन योजनाएं

3. ✖ एनिमेशन तकनीकें

4. ✔ स्पष्ट निर्देश

Subject Related

Group Number :	8
Group Id :	16265328
Group Maximum Duration :	0
Group Minimum Duration :	0
Revisit allowed for view? :	No
Revisit allowed for edit? :	No
Break time:	0
Group Marks:	20
Revisit allowed for group Instructions? :	Yes
Maximum Instruction Time:	0
Minimum Instruction Time:	0

Subject Related

Section Id :	16265328
Section Number :	1
Section type :	Online
Mandatory or Optional:	Mandatory
Number of Questions:	20
Number of Questions to be attempted:	20
Section Marks:	20
Display Number Panel:	Yes
Group All Questions:	No

Sub-Section Number: 1
Sub-Section Id: 16265338
Question Shuffling Allowed : Yes

Question Number : 141 Question Id : 162653550 Question Type : MCQ Option Shuffling : Yes Display Question Number : Yes
Single Line Question Option : No Option Orientation : Vertical
Correct Marks : 1 Wrong Marks : 0.25

Which of the following DOES NOT serve the purpose of self-learning method?

Options :

1. ☒ Discouraging teachers from teaching in the class
2. ☐ Motivating students to learn
3. ☐ Allowing students to learn at their own space
4. ☐ To develop higher order thinking skills among learners

Question Number : 141 Question Id : 162653550 Question Type : MCQ Option Shuffling : Yes Display Question Number : Yes
Single Line Question Option : No Option Orientation : Vertical
Correct Marks : 1 Wrong Marks : 0.25

निम्नलिखित में से कौन सा स्वतः सीखने की विधि के उद्देश्य को पूरा नहीं करता है?

Options :

1. ☒ शिक्षकों को कक्षा में पढ़ाने से हतोत्साहित करना
2. ☐ छात्रों को सीखने के लिए प्रेरित करना
3. ☐ छात्रों को अपनी जगह पर सीखने की अनुमति देना
4. ☐ शिक्षार्थियों के बीच उच्च स्तरीय सोच कौशल विकसित करना

Question Number : 142 Question Id : 162653551 Question Type : MCQ Option Shuffling : Yes Display Question Number : Yes
Single Line Question Option : No Option Orientation : Vertical
Correct Marks : 1 Wrong Marks : 0.25

What is the most important role of a teacher in a digital classroom?

Options :

1. ☐ Monitoring the class
2. ☒ Being a facilitator
3. ☐ Promoting critical thinking

4. ✖ Operating technology in distance learning mode

Question Number : 142 Question Id : 162653551 Question Type : MCQ Option Shuffling : Yes Display Question Number : Yes
Single Line Question Option : No Option Orientation : Vertical

Correct Marks : 1 Wrong Marks : 0.25

डिजिटल कक्षा में शिक्षक की सबसे महत्वपूर्ण भूमिका क्या है?

Options :

1. ✖ कक्षा की निगरानी करना
2. ✔ सूत्रधार होना
3. ✖ महत्वपूर्ण (गहन) सोच को बढ़ावा देना
4. ✖ दूरस्थ शिक्षा माध्यम में प्रौद्योगिकी संचालित करना

Question Number : 143 Question Id : 162653552 Question Type : MCQ Option Shuffling : Yes Display Question Number : Yes
Single Line Question Option : No Option Orientation : Vertical

Correct Marks : 1 Wrong Marks : 0.25

Who gave this definition of multimedia: "It is characterised by the presence of text, pictures, sound, animation and video; some or all of which are organised into some coherent program"?

Options :

1. ✔ Phillips
2. ✖ Somnaidu
3. ✖ Fenrich
4. ✖ Bill Gates

Question Number : 143 Question Id : 162653552 Question Type : MCQ Option Shuffling : Yes Display Question Number : Yes
Single Line Question Option : No Option Orientation : Vertical

Correct Marks : 1 Wrong Marks : 0.25

मल्टीमीडिया की इस परिभाषा को किसने दिया: "इसकी विशेषता है पाठ, चित्र, ध्वनि, एनीमेशन और वीडियो की उपस्थिति; जिसमें से कुछ या सभी एक सुसंगत कार्यक्रम में व्यवस्थित किया जाता है"।

Options :

1. ✔ फिलिप्स
2. ✖ सोमनायड

3. ✖ फेनरिच

4. ✖ बिल गेट्स

Question Number : 144 Question Id : 162653553 Question Type : MCQ Option Shuffling : Yes Display Question Number : Yes
Single Line Question Option : No Option Orientation : Vertical

Correct Marks : 1 Wrong Marks : 0.25

Which University is the pioneer in India in ICT based teaching learning?

Options :

1. ✖ Yashwantrao Chavan Maharashtra Open University (YCMOU)

2. ✖ Jawaharlal Nehru University (JNU)

3. ✔ Indira Gandhi National Open University (IGNOU)

4. ✖ Lovely Professional University (LPU)

Question Number : 144 Question Id : 162653553 Question Type : MCQ Option Shuffling : Yes Display Question Number : Yes
Single Line Question Option : No Option Orientation : Vertical

Correct Marks : 1 Wrong Marks : 0.25

आईसीटी (ICT) आधारित शिक्षण अधिगम में भारत का कौन सा विश्वविद्यालय अग्रणी है?

Options :

1. ✖ यशवंतराव चव्हाण महाराष्ट्र मुक्त विश्वविद्यालय

2. ✖ (वाईसीएमओयू / YCMOU)

3. ✔ जवाहरलाल नेहरू विश्वविद्यालय (जेएनयू / JNU)

4. ✖ इंदिरा गाँधी राष्ट्रीय मुक्त विश्वविद्यालय (इग्नो / IGNOU)

Question Number : 145 Question Id : 162653554 Question Type : MCQ Option Shuffling : Yes Display Question Number : Yes
Single Line Question Option : No Option Orientation : Vertical

Correct Marks : 1 Wrong Marks : 0.25

What CANNOT be replaced by ICT?

Options :

1. ✔ Teachers' motivation

2. ✖ Classroom interactions

3. ✖ Written examination

4. ✖ Student teacher interaction

Question Number : 145 Question Id : 162653554 Question Type : MCQ Option Shuffling : Yes Display Question Number : Yes
Single Line Question Option : No Option Orientation : Vertical

Correct Marks : 1 Wrong Marks : 0.25

लवली प्रोफेशनल विश्वविद्यालय (एलपीयू / LPU)

Options :

1. ✔ शिक्षक की प्रेरणा

2. ✖ कक्षा में बातचीत

3. ✖ लिखित परीक्षा

4. ✖ छात्र शिक्षक बातचीत

Question Number : 146 Question Id : 162653555 Question Type : MCQ Option Shuffling : Yes Display Question Number : Yes
Single Line Question Option : No Option Orientation : Vertical

Correct Marks : 1 Wrong Marks : 0.25

What is threatening someone online known as?

Options :

1. ✖ Cyber crime

2. ✔ Cyber bullying

3. ✖ Cyber safety

4. ✖ Cyber law

Question Number : 146 Question Id : 162653555 Question Type : MCQ Option Shuffling : Yes Display Question Number : Yes
Single Line Question Option : No Option Orientation : Vertical

Correct Marks : 1 Wrong Marks : 0.25

किसी को ऑनलाइन धमकी देने को क्या कहा जाता है?

Options :

1. ✖ साइबर अपराध

2. ✔ साइबर धमकी

3. ✖ साइबर सुरक्षा

4. ✖ सायबर कानून

Question Number : 147 Question Id : 162653556 Question Type : MCQ Option Shuffling : Yes Display Question Number : Yes
Single Line Question Option : No Option Orientation : Vertical

Correct Marks : 1 Wrong Marks : 0.25

Which of the following are the characteristics of a good lesson objective?

Options :

1. ✖ Comprehensibility

2. ✖ Reliability

3. ✔ Measurability

4. ✖ Criticality

Question Number : 147 Question Id : 162653556 Question Type : MCQ Option Shuffling : Yes Display Question Number : Yes
Single Line Question Option : No Option Orientation : Vertical

Correct Marks : 1 Wrong Marks : 0.25

निम्नलिखित में से कौन सा एक अच्छे पाठ के उद्देश्य की विशेषताएं हैं?

Options :

1. ✖ बोधगम्यता

2. ✖ विश्वसनीयता

3. ✔ मापनीयता

4. ✖ गंभीरता

Question Number : 148 Question Id : 162653557 Question Type : MCQ Option Shuffling : Yes Display Question Number : Yes
Single Line Question Option : No Option Orientation : Vertical

Correct Marks : 1 Wrong Marks : 0.25

Which quality of assessments helps to measure the achievement of lesson objectives?

Options :

1. ✖ Reliability

2. ✔ Validity

3. ✖ Quantity

4. ✖ Quality

Question Number : 148 Question Id : 162653557 Question Type : MCQ Option Shuffling : Yes Display Question Number : Yes
Single Line Question Option : No Option Orientation : Vertical

Correct Marks : 1 Wrong Marks : 0.25

कौन सी गुणवत्ता आकलन पाठ उद्देश्यों की उपलब्धि को मापने में मदद करती है?

Options :

1. ✖ विश्वसनीयता

2. ✔ वैधता

3. ✖ मात्रा

4. ✖ गुणवत्ता

Question Number : 149 Question Id : 162653558 Question Type : MCQ Option Shuffling : Yes Display Question Number : Yes
Single Line Question Option : No Option Orientation : Vertical

Correct Marks : 1 Wrong Marks : 0.25

What is three language formula?

Options :

1. ✖ English as first language, mother tongue as second language and Hindi as third language

2. ✖ Mother tongue as first language, English as second language and Hindi as third language

3. ✔
Mother tongue or regional language as first language, Hindi as second language and English as third language

4. ✖ English as first language, Hindi as second language, mother tongue as third language

Question Number : 149 Question Id : 162653558 Question Type : MCQ Option Shuffling : Yes Display Question Number : Yes
Single Line Question Option : No Option Orientation : Vertical

Correct Marks : 1 Wrong Marks : 0.25

त्रिभाषा सूत्र क्या है?

Options :

1. ✖

पहली भाषा के रूप में अंग्रेजी, दूसरी भाषा के रूप में मातृभाषा और तीसरी भाषा के रूप में हिंदी

2. ✖

पहली भाषा के रूप में मातृभाषा, दूसरी भाषा के रूप में अंग्रेजी और तीसरी भाषा के रूप में हिंदी

3. ✔

पहली भाषा के रूप में मातृभाषा या क्षेत्रीय भाषा, दूसरी भाषा के रूप में हिंदी और तीसरी भाषा के रूप में अंग्रेजी

4. ✖

पहली भाषा के रूप में अंग्रेजी, हिंदी दूसरी भाषा के रूप में, तीसरी भाषा के रूप में मातृभाषा

Question Number : 150 Question Id : 162653559 Question Type : MCQ Option Shuffling : Yes Display Question Number : Yes
Single Line Question Option : No Option Orientation : Vertical

Correct Marks : 1 Wrong Marks : 0.25

What should a teacher do to improve communication of students?

Options :

1. ✔

Make them practise giving speeches'

2. ✖

Make them practice listening skills among the class

3. ✖

Encourage them to write their experiences in their own words

4. ✖

Show videos of communication patterns

Question Number : 150 Question Id : 162653559 Question Type : MCQ Option Shuffling : Yes Display Question Number : Yes
Single Line Question Option : No Option Orientation : Vertical

Correct Marks : 1 Wrong Marks : 0.25

छात्रों के सम्प्रेषण में सुधार करने के लिए एक शिक्षक को क्या करना चाहिए?

Options :

1. ✔

उन्हें भाषण का अभ्यास कराएं

2. ✖

कक्षा के बीच सुनने के कौशल का अभ्यास कराएं

3. ✖

उन्हें अपने शब्दों में अनुभव लिखने के लिए प्रोत्साहित करें

4. ✖

सम्प्रेषण पैटर्न के वीडियो दिखाएं

Question Number : 151 Question Id : 162653560 Question Type : MCQ Option Shuffling : Yes Display Question Number : Yes
Single Line Question Option : No Option Orientation : Vertical

Correct Marks : 1 Wrong Marks : 0.25

What is the main objective of language?

Options :

1. ✖ To learn LSRW skills
2. ✖ To transfer knowledge
3. ✔ To express thoughts
4. ✖ To understand emotions

Question Number : 151 Question Id : 162653560 Question Type : MCQ Option Shuffling : Yes Display Question Number : Yes
Single Line Question Option : No Option Orientation : Vertical

Correct Marks : 1 Wrong Marks : 0.25

भाषा का मुख्य उद्देश्य क्या है?

Options :

1. ✖ एलएसआरडब्ल्यू कौशल सीखना
2. ✖ ज्ञान का अंतरण करना
3. ✔ विचार व्यक्त करना
4. ✖ भावनाओं को समझना

Question Number : 152 Question Id : 162653561 Question Type : MCQ Option Shuffling : Yes Display Question Number : Yes
Single Line Question Option : No Option Orientation : Vertical

Correct Marks : 1 Wrong Marks : 0.25

Which of the following is a significant unique feature of language?

Options :

1. ✖ Language is logical
2. ✔ Language consists of symbols
3. ✖ Language has reasoning
4. ✖ Language is scientific

Question Number : 152 Question Id : 162653561 Question Type : MCQ Option Shuffling : Yes Display Question Number : Yes
Single Line Question Option : No Option Orientation : Vertical

Correct Marks : 1 Wrong Marks : 0.25

निम्नलिखित में से कौन सी भाषा की एक महत्वपूर्ण अद्वितीय विशेषता है?

Options :

1. ✖ भाषा तार्किक है
2. ✔ भाषा में प्रतीक होते हैं
3. ✖ भाषा में तर्क होता है
4. ✖ भाषा वैज्ञानिक है

Question Number : 153 Question Id : 162653562 Question Type : MCQ Option Shuffling : Yes Display Question Number : Yes
Single Line Question Option : No Option Orientation : Vertical

Correct Marks : 1 Wrong Marks : 0.25

Adding content and concepts to the curriculum without changing the basic structure is called _____.

Options :

1. ✔ Additive approach
2. ✖ Contributions approach
3. ✖ Inter-group education approach
4. ✖ Informative approach

Question Number : 153 Question Id : 162653562 Question Type : MCQ Option Shuffling : Yes Display Question Number : Yes
Single Line Question Option : No Option Orientation : Vertical

Correct Marks : 1 Wrong Marks : 0.25

मूल संरचना को बदले बिना पाठ्यक्रम में सामग्री और अवधारणाओं को जोड़ना _____ कहा जाता है।

Options :

1. ✔ योजक दृष्टिकोण
2. ✖ योगदान दृष्टिकोण
3. ✖ अंतर समूह शिक्षा दृष्टिकोण
4. ✖ सूचनाप्रद दृष्टिकोण

Question Number : 154 Question Id : 162653563 Question Type : MCQ Option Shuffling : Yes Display Question Number : Yes
Single Line Question Option : No Option Orientation : Vertical

Correct Marks : 1 Wrong Marks : 0.25

The basic step towards language learning is _____.

Options :

1. ✖ Visual discrimination
2. ✖ Identifying source of the sound
3. ✔ Sound discrimination
4. ✖ Sound personification

Question Number : 154 Question Id : 162653563 Question Type : MCQ Option Shuffling : Yes Display Question Number : Yes
Single Line Question Option : No Option Orientation : Vertical
Correct Marks : 1 Wrong Marks : 0.25

भाषा सीखने की दिशा में मूलभूत चरण है:

Options :

1. ✖ दृश्य भेदभाव
2. ✖ ध्वनि के स्रोत की पहचान
3. ✔ ध्वनि भेदभाव
4. ✖ ध्वनि मानवीकरण

Question Number : 155 Question Id : 162653564 Question Type : MCQ Option Shuffling : Yes Display Question Number : Yes
Single Line Question Option : No Option Orientation : Vertical
Correct Marks : 1 Wrong Marks : 0.25

The initial sounds infants make as a first step to communication is termed as _____.

Options :

1. ✔ cooing
2. ✖ babbling
3. ✖ dubbing
4. ✖ mimic

Question Number : 155 Question Id : 162653564 Question Type : MCQ Option Shuffling : Yes Display Question Number : Yes
Single Line Question Option : No Option Orientation : Vertical
Correct Marks : 1 Wrong Marks : 0.25

शिशु द्वारा संप्रेषण के पहले कदम के रूप में की जाने वाली प्रारंभिक आवाज़ को _____ कहा जाता है।

Options :

1. ☒ कूड़ंग (cooing)
2. ☐ बैबलिंग (babbling)
3. ☐ डबिंग (dubbing)
4. ☐ मिमिक / अनुकार

Question Number : 156 Question Id : 162653565 Question Type : MCQ Option Shuffling : Yes Display Question Number : Yes
Single Line Question Option : No Option Orientation : Vertical

Correct Marks : 1 Wrong Marks : 0.25

Which of the following is a common practice of learning to speak a language in children?

Options :

1. ☐ Understanding
2. ☐ Recognition
3. ☒ Imitation
4. ☐ Listening

Question Number : 156 Question Id : 162653565 Question Type : MCQ Option Shuffling : Yes Display Question Number : Yes
Single Line Question Option : No Option Orientation : Vertical

Correct Marks : 1 Wrong Marks : 0.25

निम्नलिखित में से कौन सा बच्चों में भाषा बोलने सीखने का एक आम अभ्यास है?

Options :

1. ☐ समझ
2. ☐ स्वीकरण
3. ☒ नकल
4. ☐ सुनना

Question Number : 157 Question Id : 162653566 Question Type : MCQ Option Shuffling : Yes Display Question Number : Yes
Single Line Question Option : No Option Orientation : Vertical

Correct Marks : 1 Wrong Marks : 0.25

Cognitive development in the early years is significantly influenced by which of the following?

Options :

1. ☒ Language development
2. ☐ Social development
3. ☐ Creativity
4. ☐ Emotional development

Question Number : 157 Question Id : 162653566 Question Type : MCQ Option Shuffling : Yes Display Question Number : Yes
Single Line Question Option : No Option Orientation : Vertical

Correct Marks : 1 Wrong Marks : 0.25

प्रारंभिक वर्षों में संज्ञानात्मक विकास निम्नलिखित में से किस से काफी प्रभावित होता है?

Options :

1. ☒ भाषा विकास
2. ☐ सामाजिक विकास
3. ☐ रचनात्मकता
4. ☐ भावनात्मक विकास

Question Number : 158 Question Id : 162653567 Question Type : MCQ Option Shuffling : Yes Display Question Number : Yes
Single Line Question Option : No Option Orientation : Vertical

Correct Marks : 1 Wrong Marks : 0.25

Students will develop their own concepts of mathematics. Which method does this example follow?

Options :

1. ☐ Inductive method
2. ☐ Deductive method
3. ☒ Constructivist method
4. ☐ Discovery method

Question Number : 158 Question Id : 162653567 Question Type : MCQ Option Shuffling : Yes Display Question Number : Yes
Single Line Question Option : No Option Orientation : Vertical

Correct Marks : 1 Wrong Marks : 0.25

छात्र गणित की अपनी अवधारणाओं को विकसित करेंगे। इस उदाहरण द्वारा किस विधि का पालन किया जाता है?

Options :

1. ☐ आगमिक विधि

2. ✖ निगामिक विधि

3. ✔ रचनात्मक विधि

4. ✖ खोज विधि

Question Number : 159 Question Id : 162653568 Question Type : MCQ Option Shuffling : Yes Display Question Number : Yes
Single Line Question Option : No Option Orientation : Vertical

Correct Marks : 1 Wrong Marks : 0.25

What is the origin of the word 'Mathematics'?

Options :

1. ✔ It comes from the Greek word 'Mathema'

2. ✖ It comes from the word 'Mathematic'

3. ✖ It comes from ancient Hindu word 'Ganita'

4. ✖ 'Mathematics' is the original word

Question Number : 159 Question Id : 162653568 Question Type : MCQ Option Shuffling : Yes Display Question Number : Yes
Single Line Question Option : No Option Orientation : Vertical

Correct Marks : 1 Wrong Marks : 0.25

'Mathematics' (गणित) शब्द की उत्पत्ति कैसे हुई?

Options :

1. ✔ यह ग्रीक शब्द 'Mathema' से लिया गया है

2. ✖ यह 'Mathematic' शब्द से लिया गया है है

3. ✖ यह प्राचीन हिंदू शब्द 'गणिता' से आता है

4. ✖ गणित (Mathematics) मूल शब्द है

Question Number : 160 Question Id : 162653569 Question Type : MCQ Option Shuffling : Yes Display Question Number : Yes
Single Line Question Option : No Option Orientation : Vertical

Correct Marks : 1 Wrong Marks : 0.25

Who stated this definition: "Mathematics is the indispensable instrument of all physical researches"?

Options :

1. ✖ Gauss

2. ✓ Kant

3. ✗ Bacon

4. ✗ Aristotle

Question Number : 160 Question Id : 162653569 Question Type : MCQ Option Shuffling : Yes Display Question Number : Yes
Single Line Question Option : No Option Orientation : Vertical

Correct Marks : 1 Wrong Marks : 0.25

निम्नलिखित परिभाषा किसने दिया? "गणित सभी भौतिक शोधों का अनिवार्य साधन है"

Options :

1. ✗ गॉस

2. ✓ कांट

3. ✗ बेकन

4. ✗ अरस्तू

Subject Related

Group Number :	9
Group Id :	16265329
Group Maximum Duration :	0
Group Minimum Duration :	0
Revisit allowed for view? :	No
Revisit allowed for edit? :	No
Break time:	0
Group Marks:	20
Revisit allowed for group Instructions? :	Yes
Maximum Instruction Time:	0
Minimum Instruction Time:	0

Subject Related

Section Id :	16265329
Section Number :	1
Section type :	Online
Mandatory or Optional:	Mandatory
Number of Questions:	20
Number of Questions to be attempted:	20
Section Marks:	20
Display Number Panel:	Yes
Group All Questions:	No

Sub-Section Number: 1
Sub-Section Id: 16265339
Question Shuffling Allowed : Yes

Question Number : 161 Question Id : 162653570 Question Type : MCQ Option Shuffling : Yes Display Question Number : Yes
Single Line Question Option : No Option Orientation : Vertical
Correct Marks : 1 Wrong Marks : 0.25

How can we correlate mathematics with history?

Options :

1. ✖ Study the history of mathematicians

2. ✖ Study the history of mathematics

3. ✔

Interpret the historical information including population charts and diagrams and other statistical information

4. ✖ Study the history of mathematics education

Question Number : 161 Question Id : 162653570 Question Type : MCQ Option Shuffling : Yes Display Question Number : Yes
Single Line Question Option : No Option Orientation : Vertical
Correct Marks : 1 Wrong Marks : 0.25

हम इतिहास के साथ गणित को कैसे सहसंबंधित कर सकते हैं?

Options :

1. ✖ गणितज्ञों के इतिहास का अध्ययन करें

2. ✖ गणित के इतिहास का अध्ययन करें

3. ✔

आबादी चार्ट और आरेख और अन्य सांख्यिकीय जानकारी सहित ऐतिहासिक जानकारी की व्याख्या करें

4. ✖ गणित शिक्षा के इतिहास का अध्ययन करें

Question Number : 162 Question Id : 162653571 Question Type : MCQ Option Shuffling : Yes Display Question Number : Yes
Single Line Question Option : No Option Orientation : Vertical
Correct Marks : 1 Wrong Marks : 0.25

Why is inductive method used more than deductive method?

Options :

1. ✖ Deductive method has no originality and creativity

2. ✖ Inductive method is suitable for all topics

3. ✖ It is used for higher studies level

4. ✔ In Inductive method, content becomes crystal clear to students

Question Number : 162 Question Id : 162653571 Question Type : MCQ Option Shuffling : Yes Display Question Number : Yes
Single Line Question Option : No Option Orientation : Vertical

Correct Marks : 1 Wrong Marks : 0.25

आगमिक विधि का उपयोग निगामिक विधि से अधिक क्यों किया जाता है?

Options :

1. ✖ निगामिक विधि में कोई मौलिकता और रचनात्मकता नहीं होती है

2. ✖ आगमिक विधि सभी विषयों के लिए उपयुक्त है

3. ✖ इसका उपयोग उच्च अध्ययन स्तर के लिए किया जाता है

4. ✔ आगमिक विधि से सामग्री छात्रों के लिए बिल्कुल स्पष्ट हो जाता है

Question Number : 163 Question Id : 162653572 Question Type : MCQ Option Shuffling : Yes Display Question Number : Yes
Single Line Question Option : No Option Orientation : Vertical

Correct Marks : 1 Wrong Marks : 0.25

_____ examines the effects of humans on nature, by applying biology, ecology, chemistry, and the traditional earth sciences.

Options :

1. ✖ Geology

2. ✖ Topology

3. ✔ Environmental science

4. ✖ Life science

Question Number : 163 Question Id : 162653572 Question Type : MCQ Option Shuffling : Yes Display Question Number : Yes
Single Line Question Option : No Option Orientation : Vertical

Correct Marks : 1 Wrong Marks : 0.25

_____, जीवविज्ञान, पारिस्थितिकी, रसायन शास्त्र, और पारंपरिक पृथ्वी विज्ञान लागू करके, प्रकृति पर इंसानों के प्रभावों का अनुभव करता है ।

Options :

1. ✖ भूगर्भशास्त्र

2. ✖ स्थान विज्ञान

3. ✔ पर्यावरण विज्ञान

4. ✖ जीवन विज्ञान

Question Number : 164 Question Id : 162653573 Question Type : MCQ Option Shuffling : Yes Display Question Number : Yes
Single Line Question Option : No Option Orientation : Vertical

Correct Marks : 1 Wrong Marks : 0.25

A basic component of earth science classes, _____, is the study of the earth's land.

Options :

1. ✔ geology

2. ✖ chronology

3. ✖ geography

4. ✖ seismology

Question Number : 164 Question Id : 162653573 Question Type : MCQ Option Shuffling : Yes Display Question Number : Yes
Single Line Question Option : No Option Orientation : Vertical

Correct Marks : 1 Wrong Marks : 0.25

पृथ्वी विज्ञान वर्गों का एक मूल घटक, _____, पृथ्वी की भूमि का अध्ययन है।

Options :

1. ✔ भूगर्भशास्त्र

2. ✖ कालक्रम

3. ✖ भूगोल

4. ✖ भूकंप विज्ञान

Question Number : 165 Question Id : 162653574 Question Type : MCQ Option Shuffling : Yes Display Question Number : Yes
Single Line Question Option : No Option Orientation : Vertical

Correct Marks : 1 Wrong Marks : 0.25

_____ of 1969 requires environmental analyses of various development projects, which necessitates the presence of environmental scientists in businesses. Thus schools need to equip students for such work.

Options :

1. ✖ National Environmental Programme and Administration

2. ✖ National Education Policy Act
3. ✖ National Education Planning and Administration
4. ✔ National Environmental Policy Act

Question Number : 165 Question Id : 162653574 Question Type : MCQ Option Shuffling : Yes Display Question Number : Yes
Single Line Question Option : No Option Orientation : Vertical

Correct Marks : 1 Wrong Marks : 0.25

जब से _____, 1969 के अंतर्गत विभिन्न विकास परियोजनाओं के पर्यावरणीय विश्लेषण की आवश्यकता शुरू हुई, तब से व्यवसायों को पर्यावरण वैज्ञानिकों की आवश्यकता होती है; और इस कारण स्कूलों को ऐसे काम के लिए छात्रों को समर्थ बनाने की आवश्यकता है।

Options :

1. ✖ राष्ट्रीय पर्यावरण कार्यक्रम और प्रशासन
2. ✖ राष्ट्रीय शिक्षा नीति अधिनियम
3. ✖ राष्ट्रीय शिक्षा योजना और प्रशासन
4. ✔ राष्ट्रीय पर्यावरण नीति अधिनियम

Question Number : 166 Question Id : 162653575 Question Type : MCQ Option Shuffling : Yes Display Question Number : Yes
Single Line Question Option : No Option Orientation : Vertical

Correct Marks : 1 Wrong Marks : 0.25

Jackman established the basic tenets of Nature Study, EXCEPT:

Options :

1. ✔ understanding human nature
2. ✖ lessons arranged by the seasons
3. ✖ direct observation of nature by the child
4. ✖ the relevance with the other studies/subjects

Question Number : 166 Question Id : 162653575 Question Type : MCQ Option Shuffling : Yes Display Question Number : Yes
Single Line Question Option : No Option Orientation : Vertical

Correct Marks : 1 Wrong Marks : 0.25

जैकमैन ने प्रकृति अध्ययन के बुनियादी सिद्धांतों को प्रतिपादित किया, सिवाय:

Options :

1. ✓ मानव प्रकृति को समझने के
2. ✗ मौसम के अनुसार व्यवस्थित पाठ के
3. ✗ बच्चे द्वारा प्रकृति का प्रत्यक्ष अवलोकन के
4. ✗ अन्य अध्ययन/विषयों के साथ प्रासंगिकता के

Question Number : 167 Question Id : 162653576 Question Type : MCQ Option Shuffling : Yes Display Question Number : Yes
Single Line Question Option : No Option Orientation : Vertical

Correct Marks : 1 Wrong Marks : 0.25

_____ teachers are expected to possess a thorough understanding of physical geology, meteorology and oceanography along with the biology and ecology.

Options :

1. ✗ Social science
2. ✓ Environmental science
3. ✗ Earth science
4. ✗ Geography

Question Number : 167 Question Id : 162653576 Question Type : MCQ Option Shuffling : Yes Display Question Number : Yes
Single Line Question Option : No Option Orientation : Vertical

Correct Marks : 1 Wrong Marks : 0.25

_____ शिक्षक से जीवविज्ञान और पारिस्थितिकी के साथ भौतिक भूविज्ञान, मौसम विज्ञान और समुद्री विज्ञान की पूरी समझ की अपेक्षा की जाती है।

Options :

1. ✗ सामाजिक विज्ञान
2. ✓ पर्यावरण विज्ञान
3. ✗ भू विज्ञान
4. ✗ भूगोल

Question Number : 168 Question Id : 162653577 Question Type : MCQ Option Shuffling : Yes Display Question Number : Yes
Single Line Question Option : No Option Orientation : Vertical

Correct Marks : 1 Wrong Marks : 0.25

The subject _____ encompass diverse concerns of society and includes a wide a range of content, drawn from the disciplines of history, geography, political science, economics and sociology.

Options :

1. ☒ social sciences
2. ☐ sociology
3. ☐ social work
4. ☐ socially useful productive work

Question Number : 168 Question Id : 162653577 Question Type : MCQ Option Shuffling : Yes Display Question Number : Yes
Single Line Question Option : No Option Orientation : Vertical

Correct Marks : 1 Wrong Marks : 0.25

विषय _____ समाज की विविध चिंताओं को शामिल करता है और इसमें इतिहास, भूगोल, राजनीति विज्ञान, अर्थशास्त्र और समाजशास्त्र के विषयों से तैयार सामग्री की एक विस्तृत श्रृंखला शामिल होता है।

Options :

1. ☒ सामाजिक विज्ञान
2. ☐ समाजशास्त्र
3. ☐ सामाजिक कार्य
4. ☐ सामाजिक रूप से उपयोगी उत्पादक काम

Question Number : 169 Question Id : 162653578 Question Type : MCQ Option Shuffling : Yes Display Question Number : Yes
Single Line Question Option : No Option Orientation : Vertical

Correct Marks : 1 Wrong Marks : 0.25

Which of the following is NOT a true statement?

Options :

1. ☐ Social science lecture makes students inactive
2. ☐ Problem solving method should be intellectually challenging to children in teaching social science subject
3. ☐ Project based method enable children to learn social science from their own experiences
4. ☒ Dramatisation in social sciences is used for imparting authentic, systematic and effective information about some events and trends

Question Number : 169 Question Id : 162653578 Question Type : MCQ Option Shuffling : Yes Display Question Number : Yes
Single Line Question Option : No Option Orientation : Vertical

Correct Marks : 1 Wrong Marks : 0.25

निम्नलिखित में कौन सा कथन सही नहीं है?

Options :

1. ✖ सामाजिक विज्ञान का व्याख्यान छात्रों को निष्क्रिय बनाता है

2. ✖

समस्या निवारण विधि सामाजिक विज्ञान विषय शिक्षण में बच्चों के लिए बौद्धिक रूप से चुनौतीपूर्ण होना चाहिए

3. ✖

परियोजना आधारित विधि बच्चों को अपने अनुभवों से सामाजिक विज्ञान सीखने में सक्षम बनाती है

4. ✔

सामाजिक विज्ञान में नाटक का उपयोग कुछ घटनाओं और प्रवृत्तियों के बारे में प्रामाणिक, व्यवस्थित और प्रभावी जानकारी प्रदान करने के लिए किया जाता है

Question Number : 170 Question Id : 162653579 Question Type : MCQ Option Shuffling : Yes Display Question Number : Yes
Single Line Question Option : No Option Orientation : Vertical

Correct Marks : 1 Wrong Marks : 0.25

If a teacher asks students to make a treasure map of ancient civilisations and write information about the lifestyle of people, she is conducting a project for _____ subject.

Options :

1. ✔ social science

2. ✖ environmental science

3. ✖ ethnography

4. ✖ life science

Question Number : 170 Question Id : 162653579 Question Type : MCQ Option Shuffling : Yes Display Question Number : Yes
Single Line Question Option : No Option Orientation : Vertical

Correct Marks : 1 Wrong Marks : 0.25

यदि कोई शिक्षक छात्रों को प्राचीन सभ्यताओं का खजाना मानचित्र बनाने और उन लोगों की जीवनशैली के बारे में जानकारी लिखने के लिए कहती है तो वह _____ विषय के लिए परियोजना आयोजित कर रही हैं।

Options :

1. ✔ सामाजिक विज्ञान

2. ✖ पर्यावरण विज्ञान

3. ✖ नृवंशविज्ञान

4. ✖ जीवन विज्ञान

Question Number : 171 Question Id : 162653580 Question Type : MCQ Option Shuffling : Yes Display Question Number : Yes
Single Line Question Option : No Option Orientation : Vertical

Correct Marks : 1 Wrong Marks : 0.25

What is included in art education?

Options :

1. ☒ Area of learning that is based upon visual art and performing art
2. ☐ Education through art
3. ☐ Art through education
4. ☐ Combination of art and education

Question Number : 171 Question Id : 162653580 Question Type : MCQ Option Shuffling : Yes Display Question Number : Yes
Single Line Question Option : No Option Orientation : Vertical

Correct Marks : 1 Wrong Marks : 0.25

कला शिक्षा में क्या शामिल है?

Options :

1. ☒ सीखने का वह क्षेत्र जो दृश्य कला और प्रदर्शन कला पर आधारित है
2. ☐ कला के माध्यम से शिक्षा
3. ☐ शिक्षा के माध्यम से कला
4. ☐ कला और शिक्षा का संयोजन

Question Number : 172 Question Id : 162653581 Question Type : MCQ Option Shuffling : Yes Display Question Number : Yes
Single Line Question Option : No Option Orientation : Vertical

Correct Marks : 1 Wrong Marks : 0.25

State true or false.

Art always has to be realistic. It cannot be art if it does not look like what our eyes have not seen in real life.

Options :

1. ☐ This statement is correct
2. ☐ This statement is partially correct
3. ☒ This statement is false
4. ☐ This statement is partially false

Question Number : 172 Question Id : 162653581 Question Type : MCQ Option Shuffling : Yes Display Question Number : Yes
Single Line Question Option : No Option Orientation : Vertical

Correct Marks : 1 Wrong Marks : 0.25

सही या गलत ज्ञात करें।

कला हमेशा यथार्थवादी होनी चाहिए। वह कला नहीं हो सकती है जिसे हमारी आंखों ने वास्तविक जीवन में नहीं देखा है।

Options :

1. ✖ यह कथन सही है
2. ✖ यह कथन आंशिक रूप से सही है
3. ✔ यह कथन गलत है
4. ✖ यह कथन आंशिक रूप से गलत है

Question Number : 173 Question Id : 162653582 Question Type : MCQ Option Shuffling : Yes Display Question Number : Yes
Single Line Question Option : No Option Orientation : Vertical

Correct Marks : 1 Wrong Marks : 0.25

Students who take art classes develop an increased capacity to learn because:

Options :

1. ✖ they spend many hours in making art
2. ✖ only talented students take art classes
3. ✖ it gives hands on experience to students
4. ✔ they expand their learning styles beyond linguistic and mathematical reasoning in their traditional classes

Question Number : 173 Question Id : 162653582 Question Type : MCQ Option Shuffling : Yes Display Question Number : Yes
Single Line Question Option : No Option Orientation : Vertical

Correct Marks : 1 Wrong Marks : 0.25

कला कक्षाओं में जाने वाले छात्रों की सीखने की क्षमता बढ़ जाती है क्योंकि:

Options :

1. ✖ वे इसमें में कई घंटे बिताते हैं
2. ✖ केवल प्रतिभाशाली छात्र कला कक्षाओं में जाते हैं
3. ✖ यह छात्रों को अनुभव प्रदान करता है

4. ✓

वे अपने पारंपरिक वर्गों में भाषाई और गणितीय तर्क से परे अपनी सीखने की शैलियों का विस्तार करते हैं

Question Number : 174 Question Id : 162653583 Question Type : MCQ Option Shuffling : Yes Display Question Number : Yes
Single Line Question Option : No Option Orientation : Vertical

Correct Marks : 1 Wrong Marks : 0.25

Given below are two statements. Select the option that correctly depicts the relation between the two statements.

Gardening provides opportunities of increasing scientific knowledge and understanding. It improves students' confidence, resilience and self-esteem.

Options :

1. ✗ First statement is the cause of second statement
2. ✗ Second statement is the cause of first statement
3. ✗ Both the statement are the causes of one effect
4. ✓ Both the statement are the effects of one cause

Question Number : 174 Question Id : 162653583 Question Type : MCQ Option Shuffling : Yes Display Question Number : Yes
Single Line Question Option : No Option Orientation : Vertical

Correct Marks : 1 Wrong Marks : 0.25

नीचे दो कथन दिए गए हैं। उस विकल्प का चयन करें जो दो कथनों के बीच संबंध को सही ढंग से दर्शाता है।

बागवानी वैज्ञानिक ज्ञान और समझ बढ़ाने के अवसर प्रदान करती है। यह विद्यार्थियों के आत्मविश्वास, लचीलापन और आत्म-सम्मान में सुधार करता है।

Options :

1. ✗ पहला कथन दूसरे कथन का कारण है
2. ✗ दूसरा कथन पहले कथन का कारण है
3. ✗ दोनों कथन एक प्रभाव के कारण हैं
4. ✓ दोनों कथन एक कारण के प्रभाव हैं

Question Number : 175 Question Id : 162653584 Question Type : MCQ Option Shuffling : Yes Display Question Number : Yes
Single Line Question Option : No Option Orientation : Vertical

Correct Marks : 1 Wrong Marks : 0.25

Why is health education important at primary school level?

Options :

1. ✖ It is given by education commissions.
2. ✖ To engage off periods of absent teachers
3. ✖ It helps in physical fitness
4. ✔ It ensures physical and mental health of a child

Question Number : 175 Question Id : 162653584 Question Type : MCQ Option Shuffling : Yes Display Question Number : Yes
Single Line Question Option : No Option Orientation : Vertical

Correct Marks : 1 Wrong Marks : 0.25

प्राथमिक विद्यालय स्तर पर स्वास्थ्य शिक्षा क्यों महत्वपूर्ण है?

Options :

1. ✖ यह शिक्षा आयोगों द्वारा दी जाती है।
2. ✖ अनुपस्थित शिक्षकों की घंटों (पीरियड) को शामिल करने के लिए
3. ✖ यह शारीरिक फिटनेस में मदद करता है
4. ✔ यह एक बच्चे के शारीरिक और मानसिक स्वास्थ्य सुनिश्चित करता है

Question Number : 176 Question Id : 162653585 Question Type : MCQ Option Shuffling : Yes Display Question Number : Yes
Single Line Question Option : No Option Orientation : Vertical

Correct Marks : 1 Wrong Marks : 0.25

If you have a child with some kind of physical handicap in your class and you have to take the class for outdoor games, what will you do as a teacher?

Options :

1. ✖ Tell another teacher to take him in his class till you complete the outdoor games of the other students
2. ✖ Tell him to sit in a corner of the ground, at a safe place
3. ✔ Try to involve him in suitable activities in safe environment and make him enjoy outdoor games
4. ✖ Tell other students to take his responsibility

Question Number : 176 Question Id : 162653585 Question Type : MCQ Option Shuffling : Yes Display Question Number : Yes
Single Line Question Option : No Option Orientation : Vertical

Correct Marks : 1 Wrong Marks : 0.25

अगर आपकी कक्षा में एक शारीरिक रूप से दिव्यांग बच्चा है और आपको आउटडोर गेम के लिए कक्षा को ले जाना है, तो शिक्षक के रूप में आप क्या करेंगे?

Options :

1. ✖

अन्य शिक्षकों को उसे अपनी कक्षा में ले जाने के लिए कहेंगे जब तक कि आप अन्य छात्रों के आउटडोर गेम को पूरा न कर लें

2. ✖ उसे सुरक्षित जगह पर कोने पर बैठने के लिए कहेंगे

3. ✔

उसे सुरक्षित वातावरण में उपयुक्त गतिविधियों में शामिल करने का प्रयास करेंगे और उसे आउटडोर गेम का आनंद उठाने देंगे

4. ✖ अन्य छात्रों को उसकी ज़िम्मेदारी लेने के लिए कहेंगे

Question Number : 177 Question Id : 162653586 Question Type : MCQ Option Shuffling : Yes Display Question Number : Yes
Single Line Question Option : No Option Orientation : Vertical

Correct Marks : 1 Wrong Marks : 0.25

Which of the following can have a significant impact on the social competence of an adolescent?

Options :

1. ✖ Response to situations

2. ✔ Relationship with parents

3. ✖ Reasoning in classrooms

4. ✖ Recreational activities

Question Number : 177 Question Id : 162653586 Question Type : MCQ Option Shuffling : Yes Display Question Number : Yes
Single Line Question Option : No Option Orientation : Vertical

Correct Marks : 1 Wrong Marks : 0.25

किशोरों की सामाजिक क्षमता पर निम्नलिखित में से कौन सा महत्वपूर्ण प्रभाव डाल सकता है?

Options :

1. ✖ परिस्थितियों की अनुकूलता

2. ✔ माता-पिता के साथ संबंध

3. ✖ कक्षाओं में तर्क

4. ✖ मनोरंजक गतिविधियां

Question Number : 178 Question Id : 162653587 Question Type : MCQ Option Shuffling : Yes Display Question Number : Yes
Single Line Question Option : No Option Orientation : Vertical

Correct Marks : 1 Wrong Marks : 0.25

According to Selman, third party perspective taking sets in in , the age group of:

Options :

1. ✖ 7 – 12 years
2. ✔ 10 – 15 years
3. ✖ 3 – 9 years
4. ✖ 14 - adults

Question Number : 178 Question Id : 162653587 Question Type : MCQ Option Shuffling : Yes Display Question Number : Yes
Single Line Question Option : No Option Orientation : Vertical

Correct Marks : 1 Wrong Marks : 0.25

सेलमैन के अनुसार ,तीसरे पक्ष के परिप्रेक्ष्य किस आयु वर्ग में निर्धारित किए जाते हैं?

Options :

1. ✖ 7 - 12 वर्ष
2. ✔ 10 - 15 वर्ष
3. ✖ 3 - 9 वर्ष
4. ✖ 14 - व्यस्क

Question Number : 179 Question Id : 162653588 Question Type : MCQ Option Shuffling : Yes Display Question Number : Yes
Single Line Question Option : No Option Orientation : Vertical

Correct Marks : 1 Wrong Marks : 0.25

In peer acceptance aspect, children who receive many positive votes are called:

Options :

1. ✖ rejected children
2. ✖ controversial children
3. ✔ popular children
4. ✖ neglected children

Question Number : 179 Question Id : 162653588 Question Type : MCQ Option Shuffling : Yes Display Question Number : Yes
Single Line Question Option : No Option Orientation : Vertical

Correct Marks : 1 Wrong Marks : 0.25

सहकर्म स्वीकृति पहलू में जो बच्चे कई सकारात्मक वोट प्राप्त करते हैं उन्हें कहा जाता है:

Options :

1. ✖ अस्वीकृत बच्चे
2. ✖ विवादास्पद बच्चे
3. ✔ लोकप्रिय बच्चे
4. ✖ उपेक्षित बच्चे

Question Number : 180 Question Id : 162653589 Question Type : MCQ Option Shuffling : Yes Display Question Number : Yes
Single Line Question Option : No Option Orientation : Vertical

Correct Marks : 1 Wrong Marks : 0.25

Which of the following is one of the effective practices of helping rejected children?

Options :

1. ✖ Training
2. ✔ Modelling
3. ✖ Reprimanding
4. ✖ Recording

Question Number : 180 Question Id : 162653589 Question Type : MCQ Option Shuffling : Yes Display Question Number : Yes
Single Line Question Option : No Option Orientation : Vertical

Correct Marks : 1 Wrong Marks : 0.25

निम्नलिखित में से कौन सा वंचित बच्चों की मदद करने के प्रभावी प्रथाओं में से एक है?

Options :

1. ✖ प्रशिक्षण
2. ✔ प्रतिरूपण
3. ✖ फटकारना
4. ✖ रिकॉर्डिंग

Group Number :	10
Group Id :	16265330
Group Maximum Duration :	0
Group Minimum Duration :	120
Revisit allowed for view? :	No
Revisit allowed for edit? :	No
Break time:	0
Group Marks:	20
Revisit allowed for group Instructions? :	Yes
Maximum Instruction Time:	0
Minimum Instruction Time:	0

Subject Related

Section Id :	16265330
Section Number :	1
Section type :	Online
Mandatory or Optional:	Mandatory
Number of Questions:	20
Number of Questions to be attempted:	20
Section Marks:	20
Display Number Panel:	Yes
Group All Questions:	No

Sub-Section Number:	1
Sub-Section Id:	16265340
Question Shuffling Allowed :	Yes

Question Number : 181 Question Id : 162653590 Question Type : MCQ Option Shuffling : Yes Display Question Number : Yes
 Single Line Question Option : No Option Orientation : Vertical
 Correct Marks : 1 Wrong Marks : 0.25

यौवनारंभ में ऊंचाई और वजन में तेजी से वृद्धि को किस रूप में जाना जाता है?

Options :

1.  विकास उछाल
2.  विकास वेदना
3.  विकास उन्नति
4.  विकास के लक्षण

Question Number : 181 Question Id : 162653590 Question Type : MCQ Option Shuffling : Yes Display Question Number : Yes
 Single Line Question Option : No Option Orientation : Vertical
 Correct Marks : 1 Wrong Marks : 0.25

Rapid growth in height and weight in puberty is known as:

Options :

1. ☒ Growth spurt
2. ☐ Growth pains
3. ☐ Growth gains
4. ☐ Growth symptoms

Question Number : 182 Question Id : 162653591 Question Type : MCQ Option Shuffling : Yes Display Question Number : Yes
Single Line Question Option : No Option Orientation : Vertical

Correct Marks : 1 Wrong Marks : 0.25

Growth in adolescence is reverse of that in childhood because:

Options :

1. ☐ all part of the body grow simultaneously
2. ☐ the torso grows first
3. ☒ hands, legs and feet accelerate first
4. ☐ legs accelerate first

Question Number : 182 Question Id : 162653591 Question Type : MCQ Option Shuffling : Yes Display Question Number : Yes
Single Line Question Option : No Option Orientation : Vertical

Correct Marks : 1 Wrong Marks : 0.25

किशोरावस्था में वृद्धि बाल्यावस्था की उलट होती है क्योंकि;

Options :

1. ☐ शरीर के सभी हिस्से एक साथ विकसित होते हैं
2. ☐ धड़ पहले विकसित होता है
3. ☒ हाथ, पैर और पैर के पंजे पहले तेजी से विकसित होते हैं
4. ☐ पैर पहले तेजी से विकसित हो जाते हैं

Question Number : 183 Question Id : 162653592 Question Type : MCQ Option Shuffling : Yes Display Question Number : Yes
Single Line Question Option : No Option Orientation : Vertical

Correct Marks : 1 Wrong Marks : 0.25

How can we avoid spread of communicable diseases?

Options :

1. ✖ By creating awareness about communicable diseases
2. ✖ By preventing students, who are suffering from communicable diseases, from coming to class
3. ✔ By properly disposing of the waste generated in school
4. ✖ keeping the school closed for few days

Question Number : 183 Question Id : 162653592 Question Type : MCQ Option Shuffling : Yes Display Question Number : Yes
Single Line Question Option : No Option Orientation : Vertical

Correct Marks : 1 Wrong Marks : 0.25

हम संचारी रोगों के प्रसार से कैसे बच सकते हैं?

Options :

1. ✖ संचारी रोग के बारे में जागरूकता पैदा करके
2. ✖ संचारी रोग से पीड़ित छात्रों को कक्षा में आने से रोकके
3. ✔ स्कूल में उत्पन्न होने वाले कचरे का उचित निपटान करके
4. ✖ स्कूल को कुछ दिनों के लिए बंद रखके

Question Number : 184 Question Id : 162653593 Question Type : MCQ Option Shuffling : Yes Display Question Number : Yes
Single Line Question Option : No Option Orientation : Vertical

Correct Marks : 1 Wrong Marks : 0.25

What are the hazardous components in school?

Options :

1. ✔ Batteries, ballasts, mercury, switches, computer components, lamps
2. ✖ Dust, chalks, papers
3. ✖ Food waste
4. ✖ Sanitation waste

Question Number : 184 Question Id : 162653593 Question Type : MCQ Option Shuffling : Yes Display Question Number : Yes
Single Line Question Option : No Option Orientation : Vertical

Correct Marks : 1 Wrong Marks : 0.25

स्कूल में जोखिम कारक क्या हैं?

Options :

1. ✓ बैटरी, बॉलस्टा, मरकरी, स्विच, कंप्यूटर उपकरण, लैंप
2. ✗ धूल, चाक, कागज
3. ✗ खाद्य अपशिष्ट
4. ✗ स्वच्छता अपशिष्ट

Question Number : 185 Question Id : 162653594 Question Type : MCQ Option Shuffling : Yes Display Question Number : Yes
Single Line Question Option : No Option Orientation : Vertical

Correct Marks : 1 Wrong Marks : 0.25

What can be the substitute for products that generate inhalation hazard for students?

Options :

1. ✓ Vegetable dyes
2. ✗ Dry clay, powdered paints
3. ✗ Commercial dyes
4. ✗ Turpentine and other paint thinners

Question Number : 185 Question Id : 162653594 Question Type : MCQ Option Shuffling : Yes Display Question Number : Yes
Single Line Question Option : No Option Orientation : Vertical

Correct Marks : 1 Wrong Marks : 0.25

उन उत्पादों के लिए विकल्प क्या हो सकता है जो छात्रों के लिए साँस संबंधी खतरे उत्पन्न करते हैं?

Options :

1. ✓ वनस्पति रंजक
2. ✗ सूखी मिट्टी, चूर्णित पेंट
3. ✗ वाणिज्यिक रंजक
4. ✗ तारपीन का तेल और अन्य पेंट तनुकारक

Question Number : 186 Question Id : 162653595 Question Type : MCQ Option Shuffling : Yes Display Question Number : Yes
Single Line Question Option : No Option Orientation : Vertical

Correct Marks : 1 Wrong Marks : 0.25

Students should be involved in keeping their school clean to create a sense of responsibility and pride in their school environment. What can be the result of this statement?

Options :

1. ✓ Skills learnt in school may be carried into other environments, hopefully for many years.
2. ✗ School campus will be clean and hygienic
3. ✗ Teachers and staff have less burden to clean the school
4. ✗ Students will keep their home clean

Question Number : 186 Question Id : 162653595 Question Type : MCQ Option Shuffling : Yes Display Question Number : Yes
Single Line Question Option : No Option Orientation : Vertical

Correct Marks : 1 Wrong Marks : 0.25

छात्रों में अपने स्कूल के पर्यावरण में जिम्मेदारी और गर्व की भावना पैदा करने के लिए स्कूल को साफ रखने में उन्हें शामिल करना चाहिए। इस कथन का परिणाम क्या हो सकता है?

Options :

1. ✓ कई सालों तक, विद्यालय में सीखे गए कौशल को संभवतः अन्य वातावरण में उपयोग में लाया जा सकता है।
2. ✗ स्कूल परिसर साफ़ और स्वच्छ होगा
3. ✗ स्कूलों को साफ करने के लिए शिक्षकों और कर्मचारियों के ऊपर कम बोझ होगा
4. ✗ छात्र अपने घर को साफ रखेंगे

Question Number : 187 Question Id : 162653596 Question Type : MCQ Option Shuffling : Yes Display Question Number : Yes
Single Line Question Option : No Option Orientation : Vertical

Correct Marks : 1 Wrong Marks : 0.25

How can we ensure food safety in schools?

Options :

1. ✗ Storing food at safe place
2. ✓ Protecting foods from insects, rodents, and other animals
3. ✗ Building schools away from major breeding sites
4. ✗ Helping to treat health problems and preventing them

Question Number : 187 Question Id : 162653596 Question Type : MCQ Option Shuffling : Yes Display Question Number : Yes
Single Line Question Option : No Option Orientation : Vertical

Correct Marks : 1 Wrong Marks : 0.25

हम स्कूलों में खाद्य सुरक्षा कैसे सुनिश्चित कर सकते हैं?

Options :

1. ✖ सुरक्षित जगह पर भोजन भंडारित करके
2. ✔ कीड़े, कृंतक, और अन्य जानवरों से खाद्य पदार्थों की रक्षा करके
3. ✖ प्रमुख प्रजनन स्थलों से स्कूलों को दूर स्थापित करके
4. ✖ स्वास्थ्य समस्याओं का उपचार करके और उन्हें रोकने में मदद करके

Question Number : 188 Question Id : 162653597 Question Type : MCQ Option Shuffling : Yes Display Question Number : Yes
Single Line Question Option : No Option Orientation : Vertical

Correct Marks : 1 Wrong Marks : 0.25

Which of the following is a biological threat?

Options :

1. ✔ Vector-borne diseases
2. ✖ Radiation
3. ✖ Pesticides
4. ✖ Sanitary facilities

Question Number : 188 Question Id : 162653597 Question Type : MCQ Option Shuffling : Yes Display Question Number : Yes
Single Line Question Option : No Option Orientation : Vertical

Correct Marks : 1 Wrong Marks : 0.25

निम्न में से क्या जैविक खतरे हैं?

Options :

1. ✔ वेक्टर जनित रोग
2. ✖ विकिरण
3. ✖ कीटनाशक
4. ✖ स्वच्छता सुविधाएं

Question Number : 189 Question Id : 162653598 Question Type : MCQ Option Shuffling : Yes Display Question Number : Yes
Single Line Question Option : No Option Orientation : Vertical

Correct Marks : 1 Wrong Marks : 0.25

The National Policy on Education 1986 has conceived _____ as purposive and meaningful manual work that results in goods or services which are useful to the society.

Options :

1. ✖ Social studies
2. ✖ Social work
3. ✔ Work education
4. ✖ Work experience

Question Number : 189 Question Id : 162653598 Question Type : MCQ Option Shuffling : Yes Display Question Number : Yes
Single Line Question Option : No Option Orientation : Vertical

Correct Marks : 1 Wrong Marks : 0.25

राष्ट्रीय शिक्षा नीति 1986 ने _____ को उद्देश्यपूर्ण और सार्थक मैन्युअल कार्य के रूप में माना है जो समाज के लिए उपयोगी वस्तुओं या सेवाओं के रूप में परिणत होता है।

Options :

1. ✖ सामाजिक अध्ययन
2. ✖ सामाजिक कार्य
3. ✔ कार्य शिक्षा
4. ✖ कार्य अनुभव

Question Number : 190 Question Id : 162653599 Question Type : MCQ Option Shuffling : Yes Display Question Number : Yes
Single Line Question Option : No Option Orientation : Vertical

Correct Marks : 1 Wrong Marks : 0.25

Knowledge and understanding of work education subject helps the learners:

Options :

1. ✖ know various ways of doing social work.
2. ✖ acquaint themselves with the system of conducting social work.
3. ✔ identify needs of community in respect of food, health and hygiene, clothing, shelter, recreation and social service.
4. ✖ understand the process of planning and organising any work to be done.

Question Number : 190 Question Id : 162653599 Question Type : MCQ Option Shuffling : Yes Display Question Number : Yes
Single Line Question Option : No Option Orientation : Vertical

Correct Marks : 1 Wrong Marks : 0.25

कार्य शिक्षा के ज्ञान और समझ विषय सीखने वालों का _____ में मदद -करता है

Options :

1. ✖ सामाजिक कार्य करने के विभिन्न तरीकों को जानने

2. ✖ सामाजिक कार्य करने की व्यवस्था के साथ खुद को परिचित कराने

3. ✔

भोजन, स्वास्थ्य और स्वच्छता, कपड़े, मकान, मनोरंजन और सामाजिक सेवा के संबंध में समुदाय की जरूरतों की पहचान करने ।

4. ✖ किसी भी काम को करने और व्यवस्थित करने की प्रक्रिया समझने

Question Number : 191 Question Id : 162653600 Question Type : MCQ Option Shuffling : Yes Display Question Number : Yes
Single Line Question Option : No Option Orientation : Vertical

Correct Marks : 1 Wrong Marks : 0.25

The content of Work Education will be based on –

- a. the needs of the pupils
- b. syllabus design
- c. the resources and facilities available in the community
- d. teachers' availability in the school

Options :

1. ✖ Only 'c'

2. ✖ Both 'b' and 'd'

3. ✔ Both 'a' and 'c'

4. ✖ All of them

Question Number : 191 Question Id : 162653600 Question Type : MCQ Option Shuffling : Yes Display Question Number : Yes
Single Line Question Option : No Option Orientation : Vertical

Correct Marks : 1 Wrong Marks : 0.25

कार्य शिक्षा की सामग्री निम्न पर आधारित होगा -

विद्यार्थियों की जरूरत

पाठ्यक्रम डिजाइन

समुदाय में उपलब्ध संसाधन और सुविधाएं

स्कूल में शिक्षक की उपलब्धता

Options :

1. ✖ केवल 'c',

2. ✖ 'b' और 'd' दोनों

3. ✔ 'a' और 'c' दोनों

4. ✖ इनमें से सभी

Question Number : 192 Question Id : 162653601 Question Type : MCQ Option Shuffling : Yes Display Question Number : Yes
Single Line Question Option : No Option Orientation : Vertical

Correct Marks : 1 Wrong Marks : 0.25

To meet the growing needs of education in a global economy it becomes imperative to provide sound _____ for working teachers to update their skills, knowledge and experience.

Options :

1. ✖ teacher training

2. ✖ teacher education

3. ✖ pre-service training

4. ✔ in-service education

Question Number : 192 Question Id : 162653601 Question Type : MCQ Option Shuffling : Yes Display Question Number : Yes
Single Line Question Option : No Option Orientation : Vertical

Correct Marks : 1 Wrong Marks : 0.25

वैश्विक अर्थव्यवस्था में शिक्षा की बढ़ती जरूरतों को पूरा करने के लिए काम करने वाले शिक्षकों के लिए अपने कौशल, ज्ञान और अनुभव को अद्यतन करने के लिए ठोस _____ प्रदान करना आवश्यक हो जाता है।

Options :

1. ✖ शिक्षक प्रशिक्षण

2. ✖ शिक्षक की शिक्षा

3. ✖ सेवा-पूर्व प्रशिक्षण

4. ✔ सेवाकालीन शिक्षा

Question Number : 193 Question Id : 162653602 Question Type : MCQ Option Shuffling : Yes Display Question Number : Yes
Single Line Question Option : No Option Orientation : Vertical

Correct Marks : 1 Wrong Marks : 0.25

_____ is NOT considered as the principle of in-service teacher training.

Options :

1. ✖ Recognizing needs of the school and community

2. ✖ Effective means of accelerating the professional growth
3. ✔ Reforming curriculum and syllabi
4. ✖ Keeping abreast with research in education

Question Number : 193 Question Id : 162653602 Question Type : MCQ Option Shuffling : Yes Display Question Number : Yes
Single Line Question Option : No Option Orientation : Vertical
Correct Marks : 1 Wrong Marks : 0.25

_____ को सेवाकालीन शिक्षक प्रशिक्षण के सिद्धांत के रूप में नहीं माना जाता है

Options :

1. ✖ स्कूल और समुदाय की जरूरतों को पहचानें
2. ✖ व्यावसायिक विकास में तेजी लाने के प्रभावी साधन
3. ✔ सुधार पाठ्यचर्या और पाठ्यक्रम
4. ✖ शिक्षा में अनुसंधान से अवगत रखने

Question Number : 194 Question Id : 162653603 Question Type : MCQ Option Shuffling : Yes Display Question Number : Yes
Single Line Question Option : No Option Orientation : Vertical
Correct Marks : 1 Wrong Marks : 0.25

_____ emphasized on the provision for better infrastructure, improved Pupil Teacher Ratio and the enhanced role of School Management Committee (SMC).

Options :

1. ✔ RTE Act
2. ✖ NCF (2005)
3. ✖ EFA
4. ✖ NPE (1986)

Question Number : 194 Question Id : 162653603 Question Type : MCQ Option Shuffling : Yes Display Question Number : Yes
Single Line Question Option : No Option Orientation : Vertical
Correct Marks : 1 Wrong Marks : 0.25

_____ बेहतर बुनियादी सुविधा, बेहतर छात्र - शिक्षक अनुपात और स्कूल प्रबंधन समिति (SMC) की विकसित भूमिका के प्रावधान पर जोर दिया।

Options :

1. ✓ आरटीई अधिनियम

2. ✗ एनसीएफ (2005)

3. ✗ ईएफए

4. ✗ एनपीई (1986)

Question Number : 195 Question Id : 162653604 Question Type : MCQ Option Shuffling : Yes Display Question Number : Yes
Single Line Question Option : No Option Orientation : Vertical

Correct Marks : 1 Wrong Marks : 0.25

Which of the following is NOT an objective of PTA?

Options :

1. ✓ Suggesting measures to undertake assessment for the academic achievement of the children.

2. ✗ Increasing opportunities for the development of parenting skills.

3. ✗ Assuring access to an equitable and quality education for all children.

4. ✗ Facilitating interactions among teachers, administrators, and community.

Question Number : 195 Question Id : 162653604 Question Type : MCQ Option Shuffling : Yes Display Question Number : Yes
Single Line Question Option : No Option Orientation : Vertical

Correct Marks : 1 Wrong Marks : 0.25

निम्न में से कौन सा PTA का उद्देश्य नहीं है?

Options :

1. ✓ बच्चों की अकादमिक उपलब्धि के लिए मूल्यांकन करने के उपायों का सुझाव देना

2. ✗ पालन पोषण कौशल के विकास के अवसरों में वृद्धि करना

3. ✗ सभी बच्चों तक न्यायसंगत और गुणवत्ता शिक्षा को पहुंचना सुनिश्चित करना

4. ✗ शिक्षकों, प्रशासकों और समुदाय के बीच बातचीत की सुविधा प्रदान करना

Question Number : 196 Question Id : 162653605 Question Type : MCQ Option Shuffling : Yes Display Question Number : Yes
Single Line Question Option : No Option Orientation : Vertical

Correct Marks : 1 Wrong Marks : 0.25

A senior female school teacher is about to take over the leadership of a low-performing primary school. With respect to quality teaching, what can be the best step to begin this process with?

Options :

1. ☒ Arranging to observe instruction in each classroom
2. ☐ Trying to teach classes herself and improve students' learning
3. ☐ Comparing teachers' performance for further replacements
4. ☐ Having each teacher re- teach content to its best delivery

Question Number : 196 Question Id : 162653605 Question Type : MCQ Option Shuffling : Yes Display Question Number : Yes
Single Line Question Option : No Option Orientation : Vertical

Correct Marks : 1 Wrong Marks : 0.25

एक वरिष्ठ महिला स्कूल शिक्षक एक कम प्रदर्शन करने वाले प्राथमिक विद्यालय के नेतृत्व लेने वाली है। गुणवत्ता शिक्षण के संबंध में इस प्रक्रिया को शुरू करने के लिए सबसे अच्छा कदम क्या हो सकता है?

Options :

1. ☒ प्रत्येक कक्षा में निर्देश का अवलोकन करने की व्यवस्था करना
2. ☐
3. ☐ आगे प्रतिस्थापन के लिए शिक्षकों के प्रदर्शन की तुलना करना
4. ☐ प्रत्येक शिक्षक को फिर से पढ़ाने के लिए सामग्री को अपनी सर्वश्रेष्ठ वितरण प्रदान करना

Question Number : 197 Question Id : 162653606 Question Type : MCQ Option Shuffling : Yes Display Question Number : Yes
Single Line Question Option : No Option Orientation : Vertical

Correct Marks : 1 Wrong Marks : 0.25

The skill sets required for a teacher in school management are:

Options :

1. ☐ active listening and communication skills
2. ☐ managerial and administrative skills
3. ☒ technical, human and conceptual skills
4. ☐ interpersonal and supervision skills

Question Number : 197 Question Id : 162653606 Question Type : MCQ Option Shuffling : Yes Display Question Number : Yes
Single Line Question Option : No Option Orientation : Vertical

Correct Marks : 1 Wrong Marks : 0.25

स्कूल प्रबंधन में शिक्षक के लिए आवश्यक कौशल निर्धारण हैं:

Options :

1. ✖ सक्रिय होकर सुनना, संप्रेषण कौशल
2. ✖ प्रबंधकीय और प्रशासनिक कौशल
3. ✔ तकनीकी, मानव और वैचारिक कौशल
4. ✖ पारस्परिक और पर्यवेक्षण कौशल

Question Number : 198 Question Id : 162653607 Question Type : MCQ Option Shuffling : Yes Display Question Number : Yes
Single Line Question Option : No Option Orientation : Vertical

Correct Marks : 1 Wrong Marks : 0.25

POSDCORB stands for:

Options :

1. ✔ Planning, Organising, Staffing, Directing, Co-ordinating, Reporting and Budgeting
2. ✖ Planning, Organising, Scrutinising, Dictating, Co-ordinating, Reporting and Budgeting
3. ✖ Planning, Organising, Staffing, Directing, Cooperating, Recording and Budgeting
4. ✖ Planning, Organising, Staffing, Deciding, Collaborating, Reporting and Budgeting

Question Number : 198 Question Id : 162653607 Question Type : MCQ Option Shuffling : Yes Display Question Number : Yes
Single Line Question Option : No Option Orientation : Vertical

Correct Marks : 1 Wrong Marks : 0.25

POSDCORB का पूर्ण रूप है:

Options :

1. ✔ प्लानिंग, ओर्गनाइजिंग, स्टाफिंग, डिरेक्टिंग, को-ओर्डिनेटिंग, रिपोर्टिंग और बजटिंग
2. ✖ प्लानिंग, ओर्गनाइजिंग, स्कूटिनिंग, डिक्टेटिंग, को-ओर्डिनेटिंग, रिपोर्टिंग और बजटिंग
3. ✖ प्लानिंग, ओर्गनाइजिंग, स्टाफिंग, डिरेक्टिंग, कोर्डिनेटिंग, रिकार्डिंग और बजटिंग
4. ✖ प्लानिंग, ओर्गनाइजिंग, स्टाफिंग, डीसाइडिंग, कोलाबोरेटिंग, रिपोर्टिंग और बजटिंग

Question Number : 199 Question Id : 162653608 Question Type : MCQ Option Shuffling : Yes Display Question Number : Yes
Single Line Question Option : No Option Orientation : Vertical

Correct Marks : 1 Wrong Marks : 0.25

Research shows that students whose parents are involved in their education are more likely to:

- a) adapt well to school
- b) attend school more regularly
- c) complete homework more consistently
- d) become adamant and aggressive

Options :

- 1. ☒ a, b, c, are correct and d is not correct
- 2. ☐ b, c, d, are correct and a is not correct
- 3. ☐ a, c, d, are correct and b is not correct
- 4. ☐ a, b are correct and c, d are not correct

Question Number : 199 Question Id : 162653608 Question Type : MCQ Option Shuffling : Yes Display Question Number : Yes
Single Line Question Option : No Option Orientation : Vertical

Correct Marks : 1 Wrong Marks : 0.25

शोध से पता चलता है कि जिन छात्रों के माता-पिता उनकी शिक्षा में शामिल हैं, वे अधिक संभावना रखते हैं:

स्कूल में अच्छी तरह से अनुकूलन करने की
स्कूल में नियमित रूप से भाग लेने की
लगातार होमवर्क पूरा करने की
हठी और आक्रामक बनने की

Options :

- 1. ☒ a, b, c, सही हैं और d सही नहीं है
- 2. ☐ b, c, d, सही हैं और a सही नहीं है
- 3. ☐ a, c, d, सही हैं और b सही नहीं है
- 4. ☐ a, b, सही हैं और c, d, सही नहीं हैं

Question Number : 200 Question Id : 162653609 Question Type : MCQ Option Shuffling : Yes Display Question Number : Yes
Single Line Question Option : No Option Orientation : Vertical

Correct Marks : 1 Wrong Marks : 0.25

What are the best practices for family and community involvement in schools?

Options :

- 1. ☐ Collaborating with community, improved interference, preparing students for examination

2. ✖

Regular communicating with the schools, partnership in decision making, students' record keeping

3. ✔

Volunteering, improved parenting skills, regular communication with the school, active participation in students' learning

4. ✖

Volunteering, taking interest in students' learning, organising school events

Question Number : 200 Question Id : 162653609 Question Type : MCQ Option Shuffling : Yes Display Question Number : Yes
Single Line Question Option : No Option Orientation : Vertical

Correct Marks : 1 Wrong Marks : 0.25

स्कूलों में परिवारिक और सामुदायिक सहभागिता के लिए सर्वोत्तम प्रथाएं क्या हैं?

Options :

1. ✖

समुदाय के साथ सहयोग करना, बेहतर हस्तक्षेप करना, परीक्षा के लिए छात्रों को तैयार करना

2. ✖

स्कूलों के साथ नियमित रूप से संप्रेषण करना, निर्णय लेने में साझेदारी, छात्र रिकॉर्ड रखना

3. ✔

स्वयंसेवीकरण, बेहतर पालन-पोषण कौशल, स्कूल के साथ नियमित संप्रेषण, छात्र की शिक्षा में सक्रिय भागीदारी

4. ✖

स्वयंसेवीकरण, छात्र की शिक्षा में रुचि लेना, स्कूल के कार्यक्रमों का आयोजन करना